

Т. Р. ТЎЛАГАНОВ

# УЧБУРЧАК ГЕОМЕТРИЯСИ

*Ўзбекистон Республикаси Халқ  
таълими вазирлиги олий ва  
ўрта махсус билим юртлари  
учун ўқув қўлланма сифатида  
тавсия этган*

ТОШКЕНТ «ЎҚИТУВЧИ» 1997 й.

**Тақризчилар:**

физика-математика фанлари доктори, проф. *Н. ҒАНИХЎЖАЕВ*,  
физика-математика фанлари номзоди, доцентлар:  
*А. НОРМАТОВ; А. ТАСҚАРАЕВ*

Т 96

**Тўлаганов Т. Р.**

Учбурчак геометрияси: / [Педагогика институтлари, билим юртлари, мактаб ўқитувчилари учун ўқув қўлл.] .— Т.: Ўқитувчи, 1997.—96 б.

ББК 22.15р

Т  $\frac{4306010502}{353(04)97}$  —92 Ахб. хати — 96  
ISBN 5 — 645 — 03049 — 4

© «Ўқитувчи» нашриёти,  
Тошкент, 1997

## К и р и ш

Мазкур ўқув қўлланма педагогика институтлари ва педагогика билим юртлари талабаларининг элементар геометриядан билимларини яна ҳам бойитиш мақсадида яратилди. Ундан умумтаълим мактабларининг, гимназия ва лицейларнинг ўқитувчилари фойдаланишлари мумкин. Китобда учбурчакларнинг айлана, доира билан биргаликда қаралиши, учбурчакларда метрик муносабатлар, чевианлар, учбурчак медианаси, трансверсали, симедианаси, учбурчакда антипараллеллар, изогонал тўғри чизиқлар ва изотомик нуқталар ўрганилади.

Мазкур қўлланмада қуйидаги белгилашлар қабул қилинган:

1)  $A, B, C$  — учбурчакнинг учлари,  $a, b, c$  эса унинг томонлари ( $BC = a, AC = b, AB = c$ );

2)  $\angle A, \angle B, \angle C$  ёки  $\alpha, \beta, \gamma$  — учбурчакнинг бурчаклари,  $p = \frac{a+b+c}{2}$  — ярим периметри;

3)  $h_a, h_b, h_c$  — учбурчакнинг баландликлари,  $m_a, m_b, m_c$  — медианалари,  $l_a, l_b, l_c$  — биссектрисалари,  $s_a, s_b, s_c$  — симедианалари,  $a_n, b_n, c_n$  — ортомарказ учбурчакнинг томонлари,  $a_t, b_t, c_t$  — тангенциал учбурчакнинг томонлари;

4)  $R$  — ташқи чизилган,  $r$  — ички чизилган,  $r_a, r_b, r_c$  — ташқи-ички чизилган айланаларнинг радиуслари,  $R_n$  — ортомарказ учбурчакка ташқи чизилган,  $r_n$  — ички чизилган айлананинг радиуси,  $R_t$  — тангенциал учбурчакка ташқи чизилган,  $r_t$  — ички чизилган айлананинг радиуси;

5)  $S$  — учбурчакнинг юзи;  $H$  — баландликларнинг,  $G$  — медианаларнинг кесишиш нуқталари;

6)  $\partial f$  — таърифга кўра,  $\Rightarrow, \Leftrightarrow, \wedge, \vee$  — мантиқий белгилашлар.

• Мазкур қўлланма муаллифнинг бир неча йиллик иш тажрибасига таянган ҳолда юзага келди. Бу қўлланмани тайёрлашда ўзларининг фойдали маслаҳатлари билан катта ёрдам берган Р. Юнусметов, М. Шерқўзиев, А. Тасқараев, А. Норматовларга муаллиф ўз миннатдорчилигини билдиради.

1606. УЧБУРЧАК ВА УНИНГ БОШҚА ШАКЛЛАР БИЛАН  
БОҒЛИҚЛИГИ ҲАҚИДА СОДДА ТУШУНЧАЛАР

1-§. Учбурчак

Геометрияда тўғри чизиқ, нур тушунчалари билан бир қаторда кесма, синиқ чизиқ тушунчалари ҳам берилади.

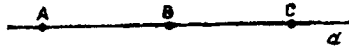
1-таъриф. Тўғри чизиқнинг берилган икки нуқтаси орасида ётган ҳамма нуқталаридан иборат қисми *кесма* дейилади.

Берилган бу икки нуқта кесманинг *охирлари* дейилади.

Одатда кесма ўз охирларини кўрсатиш билан белгиланади:  $AB$  — охирлари  $A$  ва  $B$  нуқталардан иборат кесмани билдиради (1-расм).



1-расм.

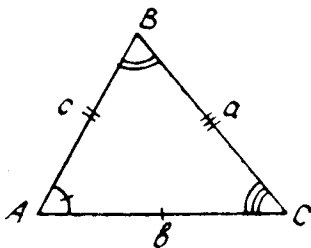


2-расм.

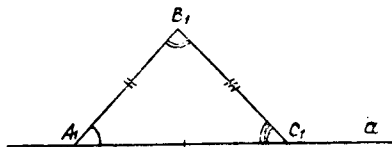
2-таъриф. Йўналишга эга бўлган кесма *вектор* дейилади ва  $\overrightarrow{AB}$  ёки  $\overrightarrow{AB}$  орқали белгиланади.

Агар берилган  $a$  тўғри чизиқда (2-расм),  $A, B, C$  нуқталар берилган бўлиб,  $AB, AC, BC$  кесмалар ва уларга мос  $\overrightarrow{AB}, \overrightarrow{AC}, \overrightarrow{BC}$  векторлар қаралаётган бўлса, улар йўналишдош векторлар дейилади ва  $\overrightarrow{AB} = -\overrightarrow{BA}$  деб олинади.

3-таъриф. Бир тўғри чизиқда ётмайдиган учта нуқтадан ва шу нуқталарни туташтирувчи учта кесмадан иборат фигура *учбурчак* дейилади. ▮



3-расм.

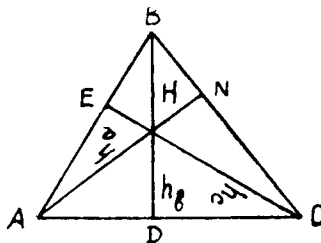


4-расм.

Нуқталар учбурчакнинг учлари, кесмалар эса унинг томонлари дейилади. 3-расмдаги учбурчак  $\triangle ABC$  кўринишида белгиланади,  $A, B, C$  — учбурчакнинг учлари,  $AB, BC, AC$  — унинг томонлари,  $\angle A, \angle B, \angle C$  — унинг бурчаклари. Шу билан бирга  $AB = c, BC = a, CA = b$  деб белгиланади. Исталган учбурчак учун унга тенг шундай учбурчак мавжудки, у берилган ярим тўғри чизиққа нисбатан берилган ҳолатда жойлашади (4-расм).

4-таъриф. Берилган учбурчакнинг бир бурчагидан чиқиб, шу бурчак қаршисидаги томонга перпендикуляр бўлиб тушувчи тўғри чизиқ кесмаси **баландлик** дейилади.

Учбурчакнинг  $a$  томонига тушган баландлик  $h_a, b$  томонига тушгани  $h_b, c$  томонига тушгани эса  $h_c$  орқали белгиланади (5-расм).



5-расм.

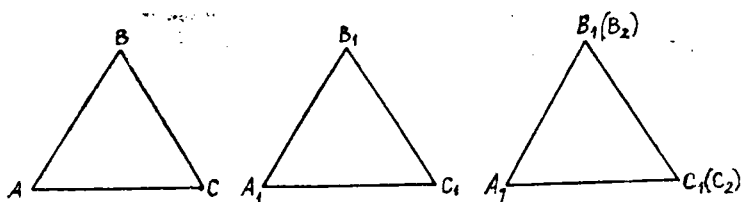
Худди шунга ўхшаш учбурчакнинг бир бурчагидан чиқиб, шу бурчак қаршисида ётган томонни тенг иккига бўлувчи тўғри чизиқ кесмасига учбурчак **медиянаси** дейилади ва мос равишда  $m_a, m_b, m_c$  орқали белгиланади.

Учбурчакнинг бурчагини тенг иккига бўлувчи тўғри чизиқ кесмасига учбурчак **биссектрисаси** дейилади ва мос равишда  $l_a, l_b, l_c$  орқали белгиланади.

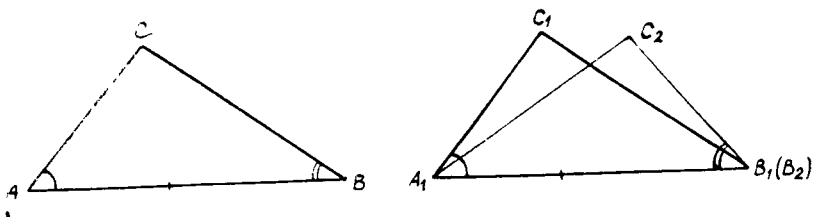
5-таъриф. Агар бир учбурчакнинг барча томонлари ва бурчаклари иккинчи учбурчакнинг мос томонлари ва бурчакларига тенг бўлса, бундай учбурчаклар **тенг** дейилади ва  $\triangle ABC = \triangle A_1B_1C_1$  кўринишида белгиланади.

1-теорема. Агар бир учбурчакнинг икки томони ва улар орасидаги бурчаги иккинчи учбурчакнинг икки томони ва улар орасидаги бурчагига мос равишда тенг бўлса, бундай учбурчаклар тенг бўлади. [9]

Исботи.  $ABC$  ва  $A_1B_1C_1$  учбурчакларда (6-расм)  $\angle A = \angle A_1, AB = A_1B_1, AC = A_1C_1$  бўлсин.  $A_1B_2C_2$  учбурчакнинг  $B_2$  учи  $A_1B_1$  нурда ва  $C_2$  учи  $A_1C_1$  тўғри чизиққа нисбатан  $C_1$  уч ётган ярим текисликдаги учбурчак бўлиб,  $ABC$  учбурчакка тенг бўлсин.  $A_1B_1 = A_1B_2 \Rightarrow B_2 = B_1$  ва  $\angle B_1A_1C_1 = \angle B_2A_1C_2 \Rightarrow A_1C_2 = A_1C_1. C_1$  уч  $C_2$



6- расм.



7- расм.

билан устма-уст тушади. Демак,  $\triangle A_1B_1C_1 = \triangle A_1B_2C_2 = \triangle ABC$  бўлади.

**2- теорема.** Агар бир учбурчакнинг бир томони ва унга ёпишган бурчаклари иккинчи учбурчакнинг мос томони ва унга ёпишган бурчакларига тенг бўлса, бундай учбурчаклар тенг бўлади.

Исботи.  $ABC$  ва  $A_1B_1C_1$  учбурчакларда (7- расм)  $AB = A_1B_1$ ,  $\angle A = \angle A_1$  ва  $\angle B = \angle B_1$  бўлсин.  $A_1B_2C_2$  учбурчак  $B_2$  учи  $A_1B_1$  нурда,  $C_2$  учи  $A_1B_1$  тўғри чизиққа нисбатан  $C_1$  уч ётган ярим текисликдаги учбурчак бўлиб,  $\triangle ABC$  га тенг бўлсин.  $A_1B_2 = A_1B_1$  бўлгани учун  $B_2$  уч  $B_1$  уч билан устма-уст тушади.

$\angle B_1A_1C_2 = \angle B_1A_1C_1$  ва  $\angle A_1B_1C_2 = \angle A_1B_1C_1 \Rightarrow A_1C_2 = A_1C_1$  ва  $B_1C_2 = B_1C_1$  бўлиб, бундан  $C_2$  уч  $C_1$  билан устма-уст тушади ва  $\triangle ABC \equiv \triangle A_1B_1C_1$  бўлади.

**3- теорема.** Агар бир учбурчакнинг учта томони иккинчи учбурчакнинг учта томонига мос равишда тенг бўлса, бундай учбурчаклар тенг бўлади.

**6- таъриф.** Агар бир учбурчакнинг бурчаклари иккинчи учбурчакнинг мос бурчакларига тенг бўлиб, қолган элементлар мос ҳолда пропорционал бўлса, бундай учбурчаклар **ўхшаш** дейилади ва  $\triangle ABC \sim \triangle A_1B_1C_1$  кўринишда белгиланади.

**4-теорема.** Агар бир учбурчакнинг икки томони иккинчи учбурчакнинг мос икки томонига пропорционал бўлиб, бу томонлар орасидаги бурчаклар тенг бўлса, бундай иккита учбурчак ўхшаш бўлади. [9]

Исботи.  $\triangle ABC$  ва  $\triangle A_1B_1C_1$  да  $\angle C = \angle C_1$  ва  $AC = kA_1C_1$  ва  $BC = kB_1C_1$  бўлиши теорема шартидан маълум.  $\triangle A_1B_1C_1$  ни  $k$  ўхшашлик коэффициенти бўйича гометик  $H_0^*(\triangle A_1B_1C_1) = \triangle A_2B_2C_2$  алмаштирамиз. Бунда буриш орқали  $\triangle A_2B_2C_2$  ни  $\triangle ABC$  устига тушириб,  $AC = A_2C_2$ ,  $AB = A_2B_2$ ,  $BC = B_2C_2$  эканини ҳосил қиламиз. Натижада  $A_2C_2 = kA_1C_1$ ,  $B_2C_2 = kB_1C_1$  эканидан  $\triangle ABC$

$\infty \triangle A_1B_1C_1$  экани келиб чиқади.

Шу билан теорема исбот қилинди.

**5-теорема.** Агар бир учбурчакнинг иккита бурчаги иккинчи учбурчакнинг иккита бурчагига тенг бўлса, бундай иккита учбурчак ўхшаш бўлади.

**6-теорема.** Агар бир учбурчакнинг томонлари иккинчи учбурчакнинг томонларига пропорционал бўлса, бундай иккита учбурчак ўхшаш бўлади.

Исботи.  $T_6$  нинг шартига кўра  $AB = kA_1B_1$ ,  $AC = kA_1C_1$  ва  $BC = kB_1C_1$  экани маълум.  $\triangle A_1B_1C_1$  ни  $H_0^*(\triangle A_1B_1C_1) = \triangle A_2B_2C_2$  алмаштиришни бажарсак, у ҳолда  $A_2B_2 = kA_1B_1$ ;  $A_2C_2 = kA_1C_1$  ва  $B_2C_2 = kB_1C_1$  ни ҳосил қиламиз, сўнгра  $\triangle A_2B_2C_2$  ни буриш ёрдамида  $\triangle ABC = \triangle A_2B_2C_2$  эканини кўрсатамиз. Натижада  $AB = kA_1B_1$ ;

$AC = kA_1C_1$  ва  $BC = kB_1C_1$  бўлиб,  $\triangle ABC \infty \triangle A_1B_1C_1$  бўлади. Шу билан  $T_6$  исбот қилинди.

**7-теорема.** Ўхшаш учбурчак периметрларининг нисбати мос томонлар нисбати кабидир.

Исботи.  $T_7$  нинг шартига кўра  $\triangle ABC$  ва  $\triangle A_1B_1C_1$

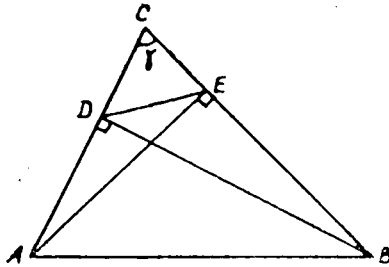
учун  $\triangle ABC \infty \triangle A_1B_1C_1$  экани маълум, df6 га асосан  $AB = kA_1B_1$ ;  $AC = kA_1C_1$  ва  $BC = kB_1C_1$ .  $T_6$  га асосан

$$AB + BC + AC = k(A_1B_1 + B_1C_1 + A_1C_1) \Rightarrow$$

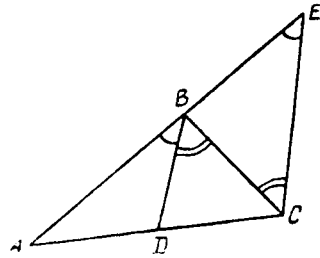
$$\Rightarrow \frac{AB + BC + AC}{A_1B_1 + B_1C_1 + A_1C_1} = k = \frac{AB}{A_1B_1} = \frac{AC}{A_1C_1} = \frac{BC}{B_1C_1} =$$

$$= \frac{p = AB + BC + AC}{p_1 = A_1B_1 + B_1C_1 + A_1C_1} \Rightarrow \frac{p}{p_1} = \frac{AB}{A_1B_1} \text{ бўлади. Шу билан теорема исботланди.}$$

**Масала.** Агар  $\triangle ABC$  да  $\angle C < 90^\circ$  бўлиб,  $AE = h_a$



8- расм.



9- расм.

ва  $BD = h_c$  бўлса, у ҳолда  $\triangle ABC \sim \triangle CED$  эканини исботланг.

Исботи.  $\triangle ABC$  ва  $\triangle CDE$  да  $\angle C$  умумий ҳамда  $EC = AC \cos C$  ва  $DC = BC \cos C$  эканидан  $\frac{EC}{DC} = \frac{AC}{BC}$  экани келиб чиқади (8- расм).  $T_4$  га асосан  $\triangle ABC \sim \triangle CED$  бўлади.

**8- теорема.** Учбурчакдаги исталган бурчакнинг биссектрисаси қаршисида ётган томонни қолган икки томонга пропорционал бўлакларга бўлади.

Исботи.  $\triangle ABC$  да  $BD$  биссектриса экани маълум.  $AD : DC = AB : BC$  эканини кўрсатамиз (9- расм). Бунинг учун  $\triangle ABC$  нинг  $C$  учидан  $BD \parallel CE$  ни  $AB$  нинг давомии билан  $E$  нуқтада кесишгунча давом эттираемиз. Натижада  $\triangle ABD \sim \triangle AEC$  ҳосил бўлади. Бунда  $BD \parallel CE$  бўлгани учун  $\angle BCE = \angle DBC$  ва  $\angle ABD = \angle BEC$  бўлиб,  $\angle BEC = \angle BCE$  бўлади, яъни  $BC = BE$  экани келиб чиқади. Демак,  $AD : DC = AB : BE = AB : BC$  бўлади. Шу билан  $T_8$  исбот қилинди.

**Масала.** Учбурчак  $ABC$  да  $BD$  биссектриса,  $AB = 10$  см,  $BC = 7$  см,  $AC = 6$  см бўлса, у ҳолда  $AD$  ни топинг.

Ечиш.  $AD$  ни  $x$  орқали белгилаймиз, у ҳолда қолган кесмаларни  $x$  орқали ифодалаб, ушбу пропорцияни ёза оламиз, яъни:

$$x : (6 - x) = 10 : 7 \Leftrightarrow 7x = 60 - 10x \Leftrightarrow 17x = 60 \Leftrightarrow x = 60 : 17 \Rightarrow DC = 6 - x = 6 - \frac{60}{17} = 2 \frac{8}{17} \text{ см.}$$

Демак,  $AD = 3 \frac{9}{17}$  см,  $DC = 2 \frac{8}{17}$  см экан.

Қуйидаги масалаларни ечинг:

1.  $\triangle ABC$  да  $BD$  чизиқ  $B$  бурчак биссектрисаси:



а)  $AB = 10$  м,  $BC = 15$  м ва  $AC = 20$  м бўлса,  $AD$  ва  $DC$  ни;

б)  $AD : DC = 8 : 5$  ва  $AB = 16$  м бўлса,  $BC$  ни;

в)  $AB : BC = 2 : 7$  ва  $DC - AD = 1$  м бўлса,  $AC$  ни топинг.

2. Учбурчакнинг 9 см ва 6 см ли томонлари орасидаги бурчаги тенг иккига бўлинган. Учинчи томондаги кесмалардан бири берилган томонлардан бирига тенг бўлса, учинчи томонни топинг.

3.  $ABC$  учбурчакнинг  $a$ ,  $b$  ва  $c$  томонлари берилган.  $BD$  эса  $B$  бурчакнинг биссектрисаси;  $O$  нуқта  $BD$  билан  $C$  бурчак биссектрисасининг кесишиш нуқтаси бўлса,  $OD : OB$  ни топинг.

4.  $ABC$  учбурчакда  $AC = b$ ,  $AB = BC = a$  ва  $AD$ ,  $CN$  лар  $A$  ва  $C$  бурчак биссектрисалари бўлса,  $DN$  ни топинг.

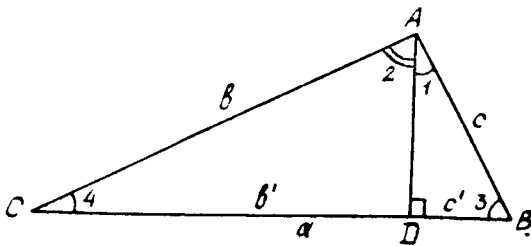
5. Агар иккита учбурчакнинг мос томонлари параллел бўлса, бундай учбурчаклар ўхшашлигини исботланг.

## 2-§. Учбурчакнинг ва у билан боғлиқ шаклларнинг элементлари орасидаги метрик муносабатлар

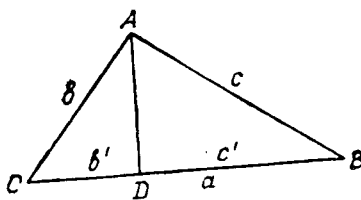
**9- теорема.** Тўғри бурчакли учбурчакнинг тўғри бурчаги учидан гипотенузасига туширилган перпендикуляр гипотенузанинг бу перпендикуляр билан бўлинган кесмалари орасида ўрта пропорционал миқдордир; ҳар бир катет эса бутун гипотенуза билан унинг шу катетга ёпишган кесмаси орасида ўрта пропорционалдир.

Исботи.  $T_9$  нинг шартига кўра  $AD : DC = BD : AD$ ;  $BC : AB = AB : BD$ ,  $BC : AC = AC : DC$  эканини кўрсатиш керак (10- расм).

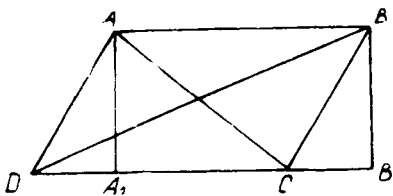
Бунинг учун  $\triangle ABD$  ва  $\triangle ADC$  ларни қараймиз; бу учбурчакларда  $\angle 1 = \angle 4$  ва  $\angle 2 = \angle 3$  бўлганлиги сабабли  $T_5$  га асосан  $\triangle ABD \sim \triangle ADC$  бўлади, бундан  $AD : DC =$



10- расм.



11-расм.



12-расм.

$= BD : AD \Rightarrow AD^2 = BD \cdot DC$  бўлади. Энди  $\triangle ABC$  ва  $\triangle ABD$  ларни қараймиз: бу учбурчакларда  $\angle B$  умумий,  $\angle 1 = \angle 4$  бўлганлиги ҳамда  $T_4$  ва  $T_5$  га асосан  $\triangle ABC \sim \triangle ABD$  га кўра  $BC : AB = AB : BD \Rightarrow AB^2 = BC \cdot BD$  бўлади. Теореманинг иккинчи қисми худди шунга ўхшаш  $\triangle ABC \sim \triangle ADC$  эканидан  $AC^2 = BC \cdot DC$  экани келиб чиқиб, унинг тўлиқ исботини таъминлайди.

**10-теорема.** (Пифагор теоремаси). *Тўғри бурчакли учбурчакнинг томонлари бир хил бирлик билан ўлчанган бўлса, гипотенуза узунлигининг квадрати катетлар узунликлари квадратларининг йиғиндисига тенг.*

Исботи.  $T_{10}$  га кўра (10-расм)  $a^2 = b^2 + c^2$  эканини кўрсатамиз. Бунинг учун  $T_9$  дан  $AB^2 = BC \cdot BD \Rightarrow c^2 = a \cdot b'$  ёки  $AC^2 = BC \cdot DC \Rightarrow b^2 = a \cdot c'$  эканини ёзиб оламиз ҳамда  $b' + c' = a$  ни эътиборга олсак,  $AB^2 + AC^2 = BC \cdot BD + BC \cdot DC = BC(BD + DC) = BC \cdot BC = BC^2 \Rightarrow a^2 = b^2 + c^2$  экани келиб чиқади.

**11-теорема.** *Ўткир бурчакли учбурчакнинг бир ўткир бурчаги қаршисида ётган томоннинг квадрати қолган икки томон узунликлари квадратлари йиғиндисидан шу томонларнинг бири билан шу томонга туширилган иккинчи томон проекциясининг иккиланган кўпайтмасининг айрилганига тенг.*

Исботи. Учбурчак  $ABC$  нинг  $A$  учидан  $AD$  перпендикуляр ўтказамиз (11-расм), натижада  $ACD$  ва  $ADB$  тўғри бурчакли учбурчак ҳосил бўлади.  $T_{10}$  га асосан  $AB^2 = BD^2 + AD^2$  ва  $AC^2 = CD^2 + AD^2$  ни ҳосил қиламиз. Бу тенгликларни ҳадлаб айириб,  $BD = BC - CD$  эканини эътиборга олсак, у ҳолда  $AB^2 = AC^2 + BC^2 - 2BC \cdot CD$  ни ҳосил қиламиз. Демак,  $\angle C$  ўткир бўлганда  $AB^2 = AC^2 + BC^2 - 2BC \cdot CD$ ;  $\angle B$  ўткир бўлса,  $AC^2 = AB^2 + BC^2 - 2BC \cdot BD$  бўлиши келиб чиқади. Агар  $\angle C$  ўтмас бўлса, у ҳолда  $AB^2 = AC^2 + BC^2 + 2BC \cdot DC$  бўлишига ишонч ҳосил қилиш мумкин.

**12-теорема.** *Исталган параллелограммда диагоналлар узунликлари квадратларининг йиғиндисига тенгдир.*

Исботи.  $ABCD$  параллелограммнинг диагонали (12-расм) уни иккита тенг учбурчакка ажратади. Шунинг учун  $\triangle ACD$  ва  $\triangle BDC$  ларга  $T_{11}$  ни кетма-кет қўлласак ҳамда  $BD^2 = BC^2 + CD^2 + 2DC \cdot CB_1$  ва  $AC^2 = AD^2 + CD^2 - 2DC \cdot DA_1$  эканини ва  $CB_1 = DA_1$ ,  $CD = AB$  ларни ҳисобга олсак, у ҳолда  $AC^2 + BD^2 = AB^2 + BC^2 + CD^2 + AD^2 = 2AB^2 + 2BC^2$  бўлади. Шу билан  $T_{12}$  исбот қилинди.

**13-теорема.** *Учбурчакнинг исталган томонининг квадрати қолган икки томони квадратлари йиғиндисидан шу икки томон билан улар орасидаги бурчак косинусининг иккиланган кўпайтмасини айириши натижасига тенг.*

Исботи.  $T_{11}$  га асосан учбурчак ўткир бурчакли бўлганда  $AB^2 = AC^2 + BC^2 - 2BC \cdot CD$  экани маълум. Шу сабабли бу тенгликда қатнашаётган  $CD$  кесма узунлигини  $\triangle ACD$  (11-расм) дан топсак, у ҳолда  $\angle CDA = 90^\circ$  бўлгани учун  $CD = AC \cos C$  бўлади ва  $AB^2 = AC^2 + BC^2 - 2BC \cdot CD = AC^2 + BC^2 - 2BC \cdot AC \cos C$  деб ёза оламиз. Демак,  $AB^2 = AC^2 + BC^2 - 2BC \cdot AC \cos C$ ;  $BC^2 = AB^2 + AC^2 - 2AB \cdot AC \cos A$ ;  $AC^2 = AB^2 + BC^2 - 2AB \cdot BC \cos B$  экани келиб чиқади. Агар  $\cos(180^\circ - A) = -\cos A$  эканини эътиборга олсак, у ҳолда ўтмас бурчак қаршисида ётган томон узунлигининг квадрати:  $AB^2 = AC^2 + BC^2 + 2AC \cdot BC \cos C$  (бунда  $\angle C > 90^\circ$ ) ҳосил бўлади. Шу билан  $T_{13}$  исбот қилинди.

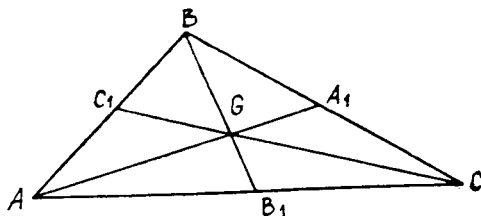
**14-теорема.** *Учбурчакнинг томонлари қаршисидаги бурчакларнинг синусларига пропорционал.*

Исботи. Учбурчак  $ABC$  да (11-расм)  $AB : \sin C = BC : \sin A = AC : \sin B$  эканини кўрсатамиз. Бунинг учун  $\triangle ABC$  нинг  $A$  учидан  $AD$  перпендикуляр ўтказсак, у ҳолда  $ADC$  ва  $ADB$  тўғри бурчакли учбурчакларни ҳосил қиламиз.  $\triangle ACD$  дан:  $AD : AC = \sin C$  ва  $\triangle ADB$  дан:  $AD : AB = \sin B$  бўлади, бундан  $AD = AC \sin C$ ,  $AD = AB \sin B \Rightarrow AC \sin C = AB \sin B \Rightarrow AC : \sin B = AB : \sin C$  ҳосил бўлади.

Худди шунга ўхшатиб,  $AB : \sin C = BC : \sin A$  ни ҳосил қилсак, у ҳолда

$$\frac{AB}{\sin C} = \frac{BC}{\sin A} = \frac{AC}{\sin B}$$

бўлади.



13- расм.

Шу билан  $T_{14}$  исбот қилинди.

**15- теорема.** Учбурчакнинг ихтиёрый томонига ўтказилган медиана узунлиги

$$4m_a^2 = 2b^2 + 2c^2 - a^2;$$

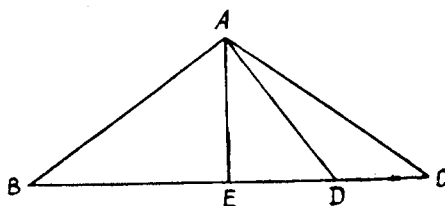
$$4m_b^2 = 2a^2 + 2c^2 - b^2;$$

$$4m_c^2 = 2a^2 + 2b^2 - c^2$$

га тенг бўлади.

Исботи. Берилган учбурчак  $ABC$  ни параллелограммга тўлдирамиз (13- расм). Натижада унинг катта диагонаlining узунлиги  $2AA_1$  га тенг бўлади. Агар  $AA_1 = m_a$  эканини эътиборга олиб,  $T_{12}$  ни татбиқ этсак, у ҳолда  $(2AA_1)^2 + BC^2 = 2AB^2 + 2AC^2$  бўлади. Бундан  $AA_1$  нинг ўрнига  $m_a$  ни қўйиб ҳисобласак, у ҳолда  $4m_a^2 + a^2 = 2b^2 + 2c^2 \Rightarrow 4m_a^2 = 2b^2 + 2c^2 - a^2$  бўлади. Худди шунга ўхшаш қолган муносабатларни келтириб чиқариш мумкин. Шу билан  $T_{15}$  исбот қилинди.

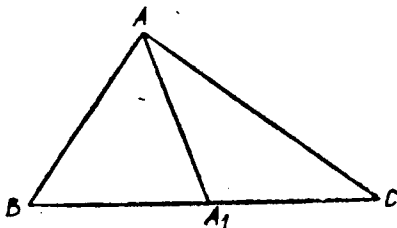
**16- Стюарт теоремаси ( $T_6$ ).** Агар  $D$  нуқта  $ABC$  учбурчакнинг  $BC$  томонида ётиб,  $BD = m$ ,  $CD = n$  ва  $AD = d$  бўлса, у ҳолда  $d^2a = b^2m + c^2n - amn$  бўлади.



14- расм.

Исботи. Учбурчак  $ABC$  нинг  $A$  учидан (14- расм)  $AE$  [баландлик туширамиз, натижада ҳосил бўлган  $ABD$  ва  $ADC$  учбурчакларга  $T_{11}$  ни татбиқ қилсак,  $c^2 = d^2 + m^2 - 2mDE$  (1) ва  $b^2 = d^2 + n^2 + 2nDE$  (2) ҳосил бўлади. (1)

ни  $n$  га, (2) ни  $m$  га кў-  
пайтириб ҳадлаб қўшсак,  
 $c^2n + b^2m = d^2(m+n) +$   
 $+ mn(m+n)$  бўлади,  
бунда  $m+n = a$  экани-  
дан  $d^2a = b^2m + c^2n -$   
 $- amn$  бўлади. Агар  $BD:$   
 $:DC = p:q$  бўлса, у ҳол-  
да



15-расм.

$$d^2a = \frac{b^2ap}{p+q} + \frac{c^2aq}{p+q} - \frac{a^3pq}{(p+q)^2},$$

$$d^2 = \frac{b^2p}{p+q} + \frac{c^2q}{p+q} - \frac{a^3pq}{(p+q)^2}$$

ҳосил бўлади. Шу билан  $T_c$  исбот қилинди.

**1-масала.** Учбурчак  $ABC$  да биссектриса узунликларини ҳисобланг.

**Ечиш.** Учбурчак  $ABC$  да (15-расм)  $AA_1 = l_a$  ҳамда  $BA_1:A_1C = c:b$  экани маълум. Демак,  $BA_1 + A_1C = a$  эканига асосан

$$BA_1 = \frac{ac}{b+c}; \quad A_1C = \frac{ab}{b+c}$$

бўлади.  $T_c$  га асосан

$$l_a^2 a = \frac{ab^2c}{b+c} + \frac{abc^2}{b+c} - \frac{a^3bc}{(b+c)^2} \Rightarrow l_a^2 = bc \frac{(b+c)^2 - a^2}{(b+c)^2};$$

$a+b+c = 2p$  га асосан

$$l_a^2 = \frac{4bcp(p-a)}{(b+c)^2} \Rightarrow l_a = \frac{2}{b+c} \sqrt{bcp(p-a)} \quad \text{ёки}$$

$$l_b = \frac{2}{a+c} \sqrt{acp(p-b)}$$

ёки

$$l_c = \frac{2}{a+b} \sqrt{abp(p-c)}$$

бўлади.

Шу билан масала ҳал қилинди.

**2-масала.** Учбурчакнинг томонлари узунликларига кўра унинг баландлигини ҳисобланг.

**Ечиш.** Учбурчак  $ABC$  нинг (11-расм)  $BC = a$  томони-

га туширилган баландлик  $h_a$  ни ҳисоблаймиз. Бунинг учун  $T_{11}$  дан фойдаланамиз, яъни:  $b^2 = a^2 + c^2 - 2ac'$ , бундан

$$c' = \frac{a^2 + c^2 - b^2}{2a}$$

бўлади.

Энди  $ABD$  тўғри бурчакли учбурчакдан  $h_a = \sqrt{c^2 - c'^2}$  ни ёза оламиз. Демак,

$$\begin{aligned} h_a &= \sqrt{c^2 - \left(\frac{a^2 + c^2 - b^2}{2a}\right)^2} = \\ &= \frac{1}{2a} \sqrt{(2ac)^2 - (a^2 + c^2 - b^2)^2} = \\ &= \frac{1}{2a} \sqrt{(a + b + c)(a - b + c)(a + b - c)(b + c - a)} = \\ &= \frac{4}{2a} \sqrt{p(p - a)(p - b)(p - c)} = \\ &= \frac{2}{a} \sqrt{p(p - a)(p - b)(p - c)}; \\ h_a &= \frac{2}{a} \sqrt{p(p - a)(p - b)(p - c)}; \\ h_b &= \frac{2}{b} \sqrt{p(p - a)(p - b)(p - c)}; \\ h_c &= \frac{2}{c} \sqrt{p(p - a)(p - b)(p - c)} \end{aligned}$$

бўлади.

Қуйидаги масалаларни ечинг:

1. Тенг томонли учбурчакнинг учлари учта параллел тўғри чизиқ устида ётади. Ўртадаги тўғри чизиқ қолган икки тасидан  $a$  ва  $b$  масофада ётади. Учбурчакнинг томонини топинг.

2.  $ABC$  учбурчакда  $A$  бурчак  $B$  бурчакдан икки марта катта.  $b$  ва  $c$  томонлари берилган бўлса, учинчи томонни топинг.

3. Учбурчак  $ABC$  да  $(h_a + h_b + h_c)(h_a^{-1} + h_b^{-1} + h_c^{-1}) = (a + b + c)(a^{-1} + b^{-1} + c^{-1})$  ўринли эканини исботланг.

4. Учбурчак  $ABC$  нинг баландликлари асосини туташтириш натижасида ҳосил бўлган учбурчак  $A_1B_1C_1$  нинг медианаси узунлигини топинг.

5. Учбурчакнинг томонлари 13 см, 14 см, 15 см бўлиб, катта томонига ўтказилган перпендикуляр унинг юзини тенг иккига бўлади. Тенг бўлувчи чизиқнинг учбурчак ичида қолган қисмини ва кичик бурчак учидан унгача бўлган масофани топинг.

6. Тўғри бурчакли  $ABC$  учбурчакда тўғри бурчак биссектрисаси гипотенузани  $p$  ва  $q$  кесмаларга бўлади. Учбурчакнинг катетларини, гипотенузага туширилган баландлигини, биссектриса узунлигини топинг.

7. Учбурчакнинг  $a$  томонига туширилган баландликнинг шу томонга тегишли медианадаги проекциясини топинг.

8. Учбурчакнинг оғирлик марказидан баландликка туширилган перпендикуляр 6 см ва учбурчакнинг асоси 20 см бўлса, баландлик ажратган кесмалар узунликларини топинг.

9. Учбурчакда  $AB = c$ ,  $AC = b$ ,  $BC = a$ ,  $BC$  томонда  $D$  нуқта  $BD = m$  ва  $DC = n$  қилиб олинган бўлса,  $AD$  нинг узунлигини топинг.

10. Агар  $m_a$  нинг  $a$  томонга туширилган проекцияси  $n_a$  бўлса, у ҳолда  $b^2 - c^2 = 2an_a$  бўлишини исботланг.

11. Агар  $ABC$  учбурчакда  $A$  ва  $B$  бурчакларнинг ички биссектрисалари  $AA_1$  ва  $BB_1$  бўлиб, улар  $Q$  нуқтада кесишса, у ҳолда  $QA_1 = \frac{a}{2p} AA_1$  бўлишини исботланг.

12. Ўткир бурчакли учбурчакнинг  $H$  ортомаркази ва  $a$ ,  $b$ ,  $c$  томонлари маълум бўлса, у ҳолда  $h_a \cdot HA + h_b \cdot HB + h_c \cdot HC$  ни ҳисобланг.

13. Учбурчак  $ABC$  да медианаларнинг йиғиндиси унинг ярим периметридан катта, тўлиқ периметридан кичик бўлишини исботланг.

14. Учбурчак медианаси уни ўртага олувчи томонлар йиғиндисининг ярмидан кичик ва шу томонлар йиғиндисининг ярмидан учинчи томон ярмини айрилмасидан катта қисmini исботланг.

### 3-§. Айлана ва доира

7-таъриф. Текисликнинг берилган нуқтадан бир хил узоқлашган ҳамма нуқталаридан иборат фигура **айлана** дейилади ва  $l(0; R)$  кўринишда белгиланади.

Берилган нуқта айлананинг **маркази** дейилади.

Текисликнинг айлана билан чегараланган ички бўлаги **доира** дейилади.

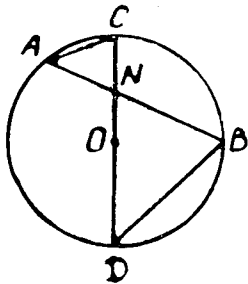
Айлана нуқталаридан унинг марказигача бўлган масофа айлананинг **радиуси**, айлананинг ихтиёрий икки нуқтасини

тулаштирувчи тўғри чизик кесмаси **ватар**, марказдан ўтувчи ватар **диаметр** дейилади.

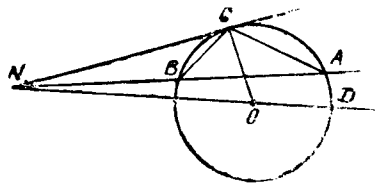
Маълумки, айланалар ўзаро маълум муносабатда бўладилар, яъни умумий марказга эга бўлган (концентрик) айланалар; ичкаридан ёки ташқаридан уринувчи айланалар; ўзаро умумий нуқтага эга бўлмаган айланалар.

**17-теорема.** Доира ичида олинган нуқта орқали бирор ватар ва диаметр ўтказилса, ватар кесмаларининг кўпайтмаси диаметр кесмаларининг кўпайтмасига тенг.

Исботи.  $T_{17}$  нинг шартига кўра  $AB$  ватар ва  $CD$  диаметр  $N$  нуқтада кесишади. Энди иккита ёрдамчи  $AC$  ва  $BD$  ватарлар ўтказсак (16-расм),  $ACN$  ва  $NBD$  учбурчаклар ҳосил бўлади. Бу учбурчакларда  $\angle A = \angle D$  ва  $\angle C = \angle B$  бўлади, битта ёйга тиралгани учун. Натижада  $T_4$  ва  $T_5$  га асосан  $\triangle ACN \sim \triangle NBD$  эканидан  $AN \cdot NB = CN \cdot ND$  экани келиб чиқади.



16- расм.



17- расм.

**1-натижа.** Доира ичида олинган нуқтадан бир нечта ватар ўтказилган бўлса, ҳар бир ватар кесмаларининг кўпайтмаси ҳамма ватарлар учун ўзгармас миқдордир.

**18-теорема.** Доирадан ташқарида олинган нуқтадан бирор кесувчи ва уринма ўтказилган бўлса, кесувчи билан унинг ташқи бўлагининг кўпайтмаси уринманинг квадратига тенгдир.

Исботи. Доира ташқарисидаги  $N$  нуқтадан  $NC$  уринма ва  $NA$  кесувчи ўтказамиз (17-расм), сўнгра  $AC$  ва  $BC$  ёрдамчи ватарларни ўтказамиз, у ҳолда  $NAC$  ва  $NBC$  учбурчакларни ҳосил қиламиз. Бу учбурчакларда  $N$  бурчак умумий ва  $\angle NCB = \angle CAB = \frac{\widehat{BC}}{2}$  эканидан  $T_4$  ва  $T_5$  га

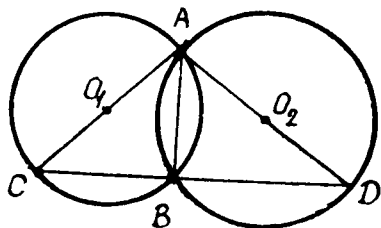


асосан  $\triangle NAC \sim \triangle NBC$  бўлади. {Бундан  $NA:NC = NC:NB \Rightarrow NC^2 = NA \cdot NB$  бўлади. Шу билан  $T_{18}$  исбот қилинди.

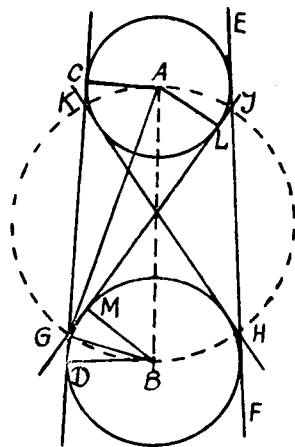
**2- натижа.** Доира ташқарисида ётган нуқтадан бир қанча кесувчилар ўтказилган бўлса, ҳар бир кесувчи билан унинг ташқи бўлагининг кўпайтмаси ҳамма кесувчилар учун ўзгармас миқдордир.

**19-теорема.** Агар кесишувчи икки айлананинг кесишиши  $A$  нуқтасидан  $O_1$  ва  $O_2$  нуқталар орқали  $AC$  ва  $AD$  диаметрлар ўтказилса, у ҳолда  $CD$  тўғри чизиқ айланаларнинг иккинчи кесишиши  $B$  нуқтасидан ўтиб,  $AB \perp CD$  бўлади.

Исботи.  $l_1(O_1; R_1)$  ва  $l_2(O_2; R_2)$  берилган ва  $l_1 \cap l_2 = \{A, B\}$ .  $AC = d_1$  ва  $AD = d_2$  ҳамда 18-расм)  $\triangle ACB$  ва  $\triangle ABD$  лар диаметрга тиралгани учун  $\angle ABC = \angle ABD = 90^\circ$  эканидан  $AB \perp CD$  келиб чиқади. Шу билан  $T_{19}$  исбот қилинди.



18-расм.



19-расм.

**20-теорема.** Ўзаро кесимайдиган (19-расм) айланаларнинг ички ва ташқи умумий уринмаларининг кесишишидан ҳосил бўлган  $G, K, I, H$  нуқталар бу айланаларнинг марказлари орасидаги масофани диаметр қилиб ўтказилган айланада ётади.

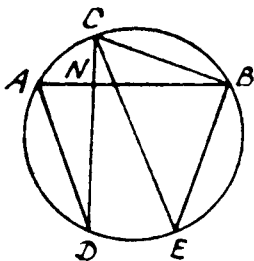
Исботи.  $l_1(A; R_1)$  ва  $l_2(B; R_2)$  айланаларнинг марказларини уриниш нуқталари  $C, L, D, M$  билан туташтириб,  $AG$  ва  $BG$  кесмалар ўтказилгандан кейин  $\angle AGC = \angle AGL$  ва  $\angle BGD = \angle BGM$  ларни ҳосил қиламиз. Нати-

жада  $\angle CGL + \angle DGM = 180^\circ$ , шунга ўхшаш  $\angle AGL + \angle BGM = 90^\circ$ ;  $\angle AGB = 90^\circ$ . Бундан  $G$  нуқта  $AB$  диаметри айланада ётади. Худди шунга ўхшаш қолган нуқталар ҳам кўрсатилади. Шу билан теорема исбот қилинди.

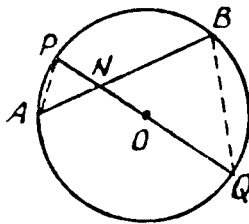
**21-теорема.** Доирада олинган бирор  $N$  нуқта орқали ўзаро перпендикуляр бўлган  $AB$  ва  $CD$  ватарлар ўтказилса, у ҳолда улар бўлакларининг узунликлари квадратларининг йиғиндисиди диаметр квадратига тенг бўлади, яъни:

$$NA^2 + NB^2 + NC^2 + ND^2 = d^2.$$

Исботи.  $T_{21}$  нинг шартига кўра  $N$  нуқта ҳамда  $AB$  ва  $CD$  перпендикуляр ватарлар (20-расм) берилган. Энди  $CE$  диаметри ва  $AD$ ,  $CB$ ,  $BE$  ватарларни ўтказамиз, натижада  $\angle DAB = \angle DCB$ ;  $\angle DCB + \angle ABC = 90^\circ$  (1),  $\angle CBA + \angle ABE = 90^\circ$  (2) бўлади. (1) ва (2) дан  $\angle DAB = \angle ABE \Rightarrow \overset{\frown}{AD} = \overset{\frown}{BE}$ , бундан  $AD = BE$  бўлади.  $\triangle AND$ ,  $\triangle CNB$  ва  $\triangle CBE$  лардан  $AN^2 + ND^2 = AD^2$  (3),  $NC^2 + NB^2 = CB^2$  (4) ва  $CB^2 + BE^2 = CE^2$  (5) ҳосил бўлади, сўнгра (3) ва (4) тенгликларни (5) га қўйсак,  $NA^2 + ND^2 + NC^2 + NB^2 = CE^2 = d^2$  ҳосил бўлади. Шу билан теорема исбот қилинди.



20- расм.



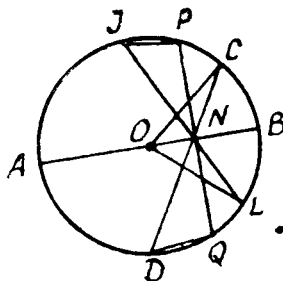
21- расм.

**22-теорема.** Агар доиранинг ихтиёрий нуқтаси  $N$  орқали  $AB$  ватар ўтказилса, у ҳолда  $AN \cdot NB$  кўпайтма радиус квадратидан  $N$  нуқтадан доира марказигача бўлган масофа квадратининг айирилганига тенг бўлади.

Исботи.  $N$  нуқта ва  $O$  марказ орқали (21-расм)  $PQ$  диаметри ўтказамиз.  $T_{17}$  га асосан  $NA \cdot NB = PN \cdot NQ$  бўлади, лекин  $PN = OP - ON$ ;  $NQ = OQ + ON$  ва  $OP = OQ = R$  эканидан  $AN \cdot NB = PN \cdot NQ = (R - ON)(R +$

$\perp ON) = R^2 - ON^2$ . Демак  $AN \cdot NB = R^2 - ON^2$  бўлади, шу билан  $T_{22}$  исбот бўлди.

**23-теорема.** Агар айлананинг бирор  $P$  нуқтасидан  $AB$  диаметрга  $PN$  перпендикуляр тушириб (22-расм),  $\angle INP = \angle PNC$  ясалса, у ҳолда  $PN$  перпендикуляр  $IN$  ва  $NC$  лар орасида ўрта пропорционал бўлади.



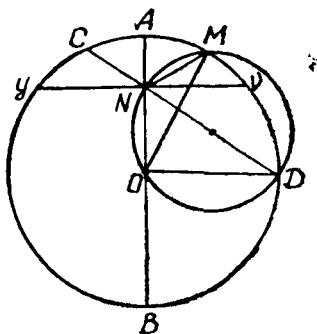
22- расм.

Исботи.  $T_{23}$  шартида берилган  $PN$ ,  $IN$ ,  $NC$  ларни  $l(O; R)$

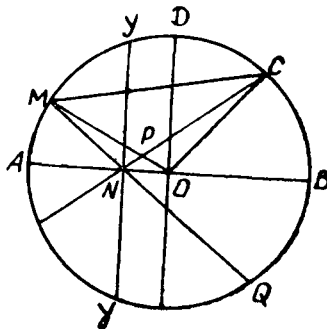
айлана билан кесишгунча давом эттирамиз, бунда  $NC$  кесма айланани  $D$  нуқтада,  $PN$  эса  $Q$  да,  $IN$  эса  $L$  нуқтада кесиб ўтади. Натижада  $\angle INP = \angle PNC = \angle LNQ = \angle DNQ$  бўлиб,  $\angle ONC = \angle ONL$  экани келиб чиқади. Бундан  $\triangle OCN = \triangle ONL$  бўлиб,  $NC = NL$  бўлади.  $\triangle INP \sim \triangle QNL$  эканидан  $IN : NP = NQ : NL$  бўлади, бунда  $PN = NQ$ ,  $LN = NC$  эканидан  $IN : PN = PN : NC \Rightarrow PN^2 = IN \cdot NC$  бўлади. Шу билан теорема исбот қилинди.

**24-теорема.** Агар  $MOD$  секторнинг  $M, O, D$  нуқталари орқали айлана ўтказилиб (23-расм), у  $AB$  диаметрни  $N$  нуқтада кесиб ўтса, у ҳолда  $NY$  биссектриса  $NM$  ва  $ND$  ватарлари орасида ўрта пропорционал бўлади.

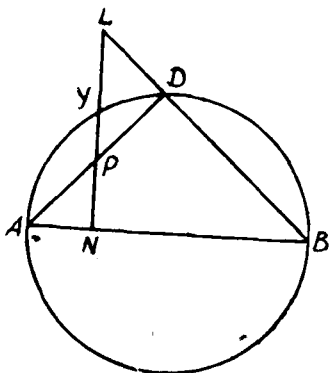
Исботи.  $N$  нуқта билан  $D$  нуқтани туташтириб давом эттирсак, доирани  $C$  нуқтада кесиб ўтади. Натижада



23- расм.



24- расм.



25- расм.

$\angle BND = \angle AOC = \angle ANM$   
 бўлади, шартга кўра  $\angle DNY =$   
 $= \angle MNY$ , бундан  $\angle BNY =$   
 $= \angle ANY$  бўлиб,  $NY \perp AB$   
 экани келиб чиқади.  $T_{23}$  га  
 асосан  $NY^2 = NM \cdot ND$  бўла-  
 ди. Шу билан теорема исбот  
 бўлди.

**25-теорема.** Агар доирада олинган  $N$  нуқтадан ўтувчи диаметрга (24-расм) перпендикуляр ватар ўтказилган бўлиб,  $NM$  ва  $NC$  лар  $\angle ANY$  ва  $\angle YNB$  ларнинг биссектрисаси ва  $OD \perp AB$  бўлса;

- 1)  $NM : NY = NY : NC$ ;
- 2)  $\sphericalangle MYC = \sphericalangle AYD = 90^\circ$ ;
- 3)  $NM^2 + NC^2 = 2R^2 = 2AO^2$  бўлади.

Исботи.  $T_{23}$  га асосан  $NY^2 = NM \cdot NC$  экани маълум, бундан биринчи шарт исбот бўлади. Шартга кўра  $\angle MNY = \angle YNC = 45^\circ$ ,  $\sphericalangle MYC = \sphericalangle MY + \sphericalangle YC = 90^\circ$  ҳамда  $OD \perp AB$  ва  $OD \parallel NY$  эканидан  $\sphericalangle MYC = \sphericalangle AYD = 90^\circ$ . Ҳақиқатан ҳам,  $\angle MOC = 90^\circ$  тўғри бурчак эканидан ва  $\triangle MCO$  дан  $MC^2 = OM^2 + OC^2 = 2AO^2$ ,  $\triangle MNC$  да  $\angle MNC = \angle MOC$  эканидан  $MN^2 + NC^2 = MC^2 = 2R^2$  экани келиб чиқади. Шу билан теорема исбот бўлди.

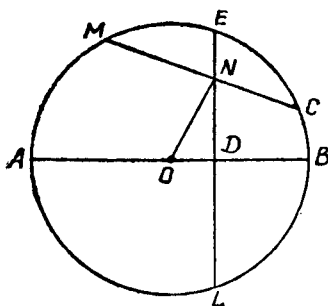
**26-теорема.** Агар  $AB$  диаметрнинг ихтиёрий  $N$  нуқтасидан (25-расм) ўтказилган перпендикуляр  $AB$  га ясалган тенг ёнли учбурчакнинг  $AD$  томонини  $P$  нуқтада ва  $BD$  томоннинг давомини  $L$  нуқтада кесиб ўтса,  $y$  ҳолда  $NY^2 = NP \cdot NL$  бўлади.

Исботи. Маълумки,  $\triangle ANP \sim \triangle BNL$  эканидан  $AN : NP = BN : LN$ . Худди шунга ўхшаш  $AN : NY = NY : NB$  ёки  $AN : NY = NY : NL$  бўлади, бу ерда  $AN = NP$  эканидан  $NP : NY = NY : NL \Rightarrow NY^2 = NP \cdot NL$  бўлади. Шу билан теорема исбот қилинди.

**Масала.** Агар доира ичида олинган  $N$  нуқта орқали  $MC$  ватар ўтказиб ва ихтиёрий  $AB$  диаметрга шу нуқтадан перпендикуляр туширилса (26-расм),  $y$  ҳолда  $MN \cdot NC = AD \times DB - ND^2$  бўлишини исботланг.

Исботи.  $ND$  перпендикулярни доира айланаси билан

кесишгунча давом эттириб,  $E$ ,  $L$  ларни топамиз.  $T_{17}$  га асосан  $MN \cdot NC = NE \cdot NL$  бўлади, бунда  $NE = DE - ND \times NL = DL + ND = DE + ND$  бўлганидан  $MN \cdot NC = NE \cdot NL = (DE - ND)(DE + ND) = DE^2 - ND^2$  бўлиб,  $T_{23}$  га асосан  $DE^2 = AD \cdot DB$  эканлигидан  $MN \cdot NC = DE^2 - ND^2 = AD \cdot DB - ND^2$  экани келиб чиқади.



26-расм.

Қуйидаги масалаларни ечинг:

1. Айлана ташқарисида олинган  $N$  нуқтадан  $ML$  ватар ўтказиб, ихтиёрий  $AB$  диаметрга  $ND$  перпендикуляр ўтказилса, у ҳолда  $NM \cdot NL = DA \cdot DB + ND^2$  эканини исботланг.

2. Иккита кесишган ватарнинг бири 12 м ва 18 м ли бўлақларга бўлинган, иккинчиси 3 : 8 нисбатда бўлинган бўлса, иккинчи ватарнинг узунлигини топинг.

3. Уринма 20 см бўлиб, ўша нуқтадан ўтказилган энг катта кесувчи 50 см бўлса, доиранинг радиусини топинг.

4. Айлананинг  $N$  нуқтасидан ўтказилган тўғри кичинчи концентрик айланани  $C$  ва  $D$  нуқталарда кесиб ўтса, у ҳолда  $NC \cdot ND = R_1^2 - R_2^2$  ( $R_1 > R_2$ ) бўлишини исботланг.

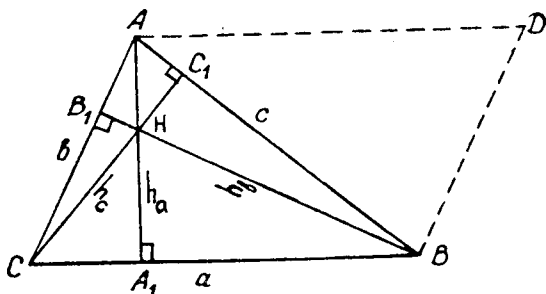
5. Берилган ёйнинг ватари  $a$  га, радиуси  $r$  га тенг. Иккиланган ёй ватарининг узунлигини аниқланг.

6. Ўзаро кесишган икки айлананинг умумий ватарини узайтириб, унинг давомида олинган бир нуқтадан шу айланаларга уринмалар ўтказилган. Шу уринмаларнинг тенг эканини исботланг.

#### 4-§. Учбурчакнинг юзи. Учбурчакнинг доира билан ўзаро алоқаси

**27-теорема.** Учбурчакнинг юзи унинг асоси билан бандлиги кўпайтмасининг ярмига тенг.

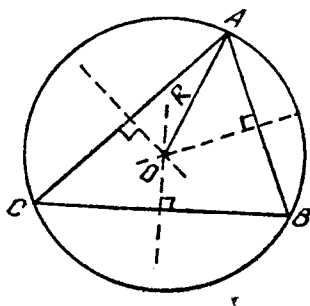
Исботи. Берилган учбурчак  $ABC$  ни (27-расм)  $ADBC$  параллелограммгача тўлдирамиз, натижада параллелограммнинг юзи  $S_{ADBC} = CB \cdot AA_1 = a \cdot h_a$  бўлади.  $ADBC$  параллелограммнинг  $AB$  диагонали уни тенг иккита учбурчакка ажратади. Бундан  $\Delta ABC$  нинг юзи  $S_{\Delta ABC} = \frac{1}{2} S_{ADBC} =$



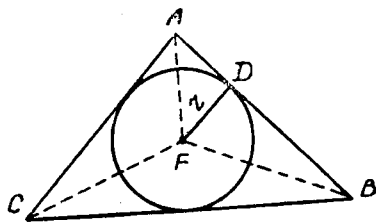
27- расм.

$= \frac{1}{2} a \cdot h_a$  бўлади. Демак,  $S_{\triangle ABC} = \frac{1}{2} a \cdot h_a = \frac{1}{2} b \cdot h_b =$   
 $= \frac{1}{2} c \cdot h_c$  бўлади. Шу билан теорема исбот қилинди.

$S_{\triangle ABC} = \frac{1}{2} a \cdot h_a$  формулада қатнашаётган  $h_a$  нинг ўрни-  
 га  $h_a = \frac{2}{a} \sqrt{\rho(\rho-a)(\rho-b)(\rho-c)}$  ни қўйсак, у олда  
 $S_{\triangle ABC} = \sqrt{\rho(\rho-a)(\rho-b)(\rho-c)}$  Герон формуласини ҳо-  
 сил қиламиз. Агар  $S_{\triangle ABC} = \frac{1}{2} a \cdot h_a$  формуладаги  $h_a$  нинг  
 (27- расм)  $\triangle AA_1B$  дан  $h_a = c \sin B$  қийматни топиб ўрни-  
 га қўйсак, у ҳолда  $S_{\triangle ABC} = \frac{1}{2} a \cdot c \sin B$  ни ҳосил қила-



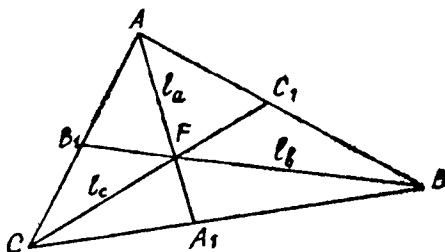
28- расм.



29- расм.

миз. Худди шунга ўхшаш  $S_{\Delta ABC} = \frac{1}{2} a \cdot b \sin C = \frac{1}{2} b \cdot c \sin A$  ларни ёзиш мумкин.

Маълумки, ҳар қандай учбурчакка ички ва ташқи айлана чизиш мумкин. Ташқи чизилган айлана маркази (28-расм) учбурчакнинг томонларига ўтказилган ўрта перпендикулярнинг кесишган нуқтасида, ички чизилган айлананинг маркази (29-расм) эса биссектрисалар кесишган (30-расм) нуқта  $F$  да ётади. Ташқи чизилган айлананинг радиуси  $R$ , ичкисиники  $r$  орқали белгиланади. Юқорида кўриб ўтилган

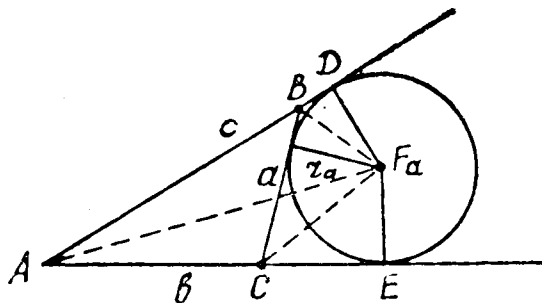


30-расм.

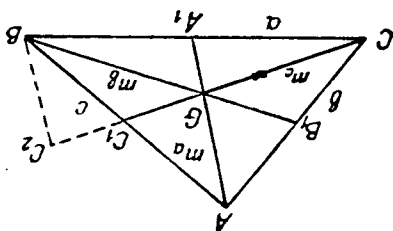
$T_{14}$  га асосан,  $\frac{a}{\sin A} = \frac{b}{\sin B} = \frac{c}{\sin C} = 2R$  экани маълум.

Демак,  $S_{\Delta ABC} = \frac{1}{2} bc \sin A$  га  $\sin A = \frac{a}{2R}$  ни қўйсак, у ҳолда  $S_{\Delta ABC} = \frac{1}{2} bc \sin A = \frac{1}{2} bc \cdot \frac{a}{2R} = \frac{abc}{4R}$ ;  $S_{\Delta ABC} = \frac{abc}{4R}$  ҳосил бўлади. Агар  $\Delta ABC$  га (30-расм) ички чизилган айлана радиусини эътиборга олсак, у ҳолда  $S_{\Delta ABC} = S_{\Delta AFB} + S_{\Delta BFC} + S_{\Delta CFA}$  эканидан  $S_{\Delta ABC} = \frac{1}{2} AB \cdot r + \frac{1}{2} BC \cdot r + \frac{1}{2} AC \cdot r = \frac{1}{2} (a + b + c) \cdot r = p \cdot r$  бўлади, яъни  $S_{\Delta ABC} = p \cdot r$  бўлади (бунда  $p = \frac{a+b+c}{2}$ ). Берилган учбурчак  $ABC$

нинг ихтиёрий бир томонига ташқаридан, қолган томонларнинг эса давомига урилиб ўтувчи айлана учбурчакнинг шу томонига ташқи-ички чизилган айлана деб қаралади. Агар шу айлана учбурчак  $ABC$  нинг  $a$  томонига ташқи-ички чизилган бўлса (31-расм), унинг маркази  $\angle BCE$  ва  $\angle DBC$  ларнинг биссектрисалари кесишиш нуқтаси  $F_a$  да ётади ва унинг радиуси  $r_a$  орқали ифодаланади. Бундан келиб чиқа-



31- расм.



32- расм.

дики,  $S_{\triangle ABC} = S_{\triangle ABF_a} + S_{\triangle AFC} - S_{\triangle BF_aC} = \frac{1}{2}c \cdot r_a + \frac{1}{2}b \cdot r_a - \frac{1}{2} \times a \cdot r_a = \frac{1}{2}r_a(b + c - a)$  бўлади, бу ерда  $b + c - a = b + c + a - 2a = 2p - 2a = 2(p - a)$  эканини эътиборга олсак, у ҳолда  $S_{\triangle ABC} = (p - a) \cdot r_a$  бўлади. Худди

шунга ўхшаш  $S_{\triangle ABC} = (p - a)r_a = (p - b)r_b = (p - c) \cdot r_c$  эканини ёза оламиз. Энди учбурчак юзини унинг медианасига кўра топамиз. Учбурчакнинг медианалари кесишган (оғирлик маркази) нуқтаси  $G$  бўлсин, медиана учбурчак юзини тенг иккига бўлганидан (32-расм)  $S_{\triangle AA_1B} = S_{\triangle ACA_1}$  бўлиб, бундан  $S_{\triangle AGB} = S_{\triangle BGC} = S_{\triangle CGA}$  ва  $S_{\triangle C_1C_2B} = S_{\triangle AGC_1}$  ( $BC_2 \parallel AG$ ) бўлади. Бундан  $BC_2 = \frac{2}{3} m_a$ ;  $BG = \frac{2}{3} m_b$ ;  $C_2G = \frac{2}{3} m_c$  эканлиги ҳамда  $\triangle AGB = \triangle BGC_2$  эканидан  $\triangle BGC_2$  нинг ярим периметри  $p = \frac{2}{3} \cdot \frac{m_a + m_b + m_c}{2}$  ёки  $T = \frac{m_a + m_b + m_c}{2}$ ,  $p = \frac{m_a + m_b + m_c}{3}$  десак, у ҳолда  $p = \frac{2}{3} T$  бўлади. Демак,

$$S_{\triangle BGC_2} = \sqrt{\frac{2}{3} T (T - m_a) (T - m_b) (T - m_c) \cdot \frac{8}{27}} = \frac{4}{9} \sqrt{T (T - m_a) (T - m_b) (T - m_c)}$$

бўлади. Юқоридагига



асосан  $S_{\Delta ABC} = 3S_{\Delta BGC} = 3 \cdot \frac{4}{9} \sqrt{T(T-m_a)(T-m_b)(T-m_c)} \Rightarrow$   
 $= \frac{4}{3} \sqrt{T(T-m_a)(T-m_b)(T-m_c)}$ ;  $S_{\Delta ABC} =$   
 $= \frac{4}{3} \sqrt{T(T-m_a)(T-m_b)(T-m_c)}$  бўлади. Агар  $S_{\Delta ABC}$   
ни унинг баландлиги орқали ифодаласак, у ҳолда  $2S =$   
 $= ah_a = bh_b = ch_c$  га асосан  $b = \frac{ah_a}{h_b}$ ;  $c = \frac{ah_a}{h_c}$  бўлиб,  $p = \frac{a+b+c}{2} =$   
 $= \frac{1}{2} \left( a + \frac{ah_a}{h_b} + \frac{ah_a}{h_c} \right) = \frac{1}{2} ah_a (h_a^{-1} + h_b^{-1} + h_c^{-1})$  бўлади, бу  
ерда  $h_a^{-1} + h_b^{-1} + h_c^{-1} = 2V$  десак, унда  $p = Vah_a$  бўлиб,  
 $p - a = Vah_a - a = ah_a V - \frac{ah_a}{h_a} = ah_a (V - h_a^{-1})$  бўлади.  
Худди шунга ўхшаш  $p - b = ah_a (V - h_b^{-1})$ ;  $p - c = ah_a (V -$   
 $- h_c^{-1})$ ,  $S = a^2 h_a^2 V \sqrt{(V - h_a^{-1})(V - h_b^{-1})(V - h_c^{-1})}$  бўлиб,  
 $2S = ah_a$  эканидан  $\frac{1}{S} = 4V \sqrt{(V - h_a^{-1})(V - h_b^{-1})(V - h_c^{-1})}$   
экани келиб чиқади.

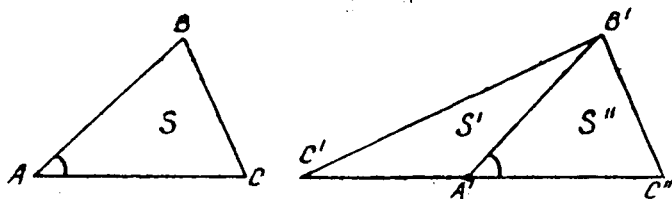
$F'$  ва  $F''$  ўхшаш содда шакллар бўлсин. Бу шаклларнинг юзлари қандай нисбатда бўлишини аниқлаймиз. Шакллар ўхшаш бўлгани учун  $F'$  ни  $F''$  га ўтказадиган алмаштириш мавжуддир.  $F'$  шаклни учбурчакларга бўлиб чиқамиз:  $\Delta'_1, \Delta'_2, \dots, \Delta'_k$ .  $F'$  шаклнинг юзи шу учбурчаклар юзларининг йиғиндисига тенг.  $F'$  шаклни  $F''$  шаклга ўтказувчи ўхшаш алмаштириш бу учбурчакларни  $F''$  шаклнинг бўлинишидан ҳосил қилинган  $\Delta''_1, \Delta''_2, \dots, \Delta''_k$  учбурчакларга ўтказди.  $F''$  шаклнинг юзи шу учбурчак юзларининг йиғиндисига тенгдир. Демак,  $S(\Delta''_k) = k^2 S(\Delta'_k) \Rightarrow S(F'') = k^2 S(F')$  экани келиб чиқади.

**28-теорема.** *Ўхшаш учбурчак юзларининг нисбати мос чиқиқли элементлар квадратларининг нисбати кабилдир.*

Исботи.  $T_{28}$  шартига кўра  $\Delta ABC \sim \Delta A_1 B_1 C_1$  берилган. Бундан  $A_1 B_1 = k AB$ ;  $A_1 C_1 = k AC$ ;  $B_1 C_1 = k BC$  экани маълум.  $T_{27}$  га кўра  $S_{\Delta ABC} = \frac{1}{2} ah_a = \frac{1}{2} bh_b = \frac{1}{2} ch_c$  бўлиб,

$S_{\Delta A_1 B_1 C_1} = \frac{1}{2} a_1 h_{a_1} = \frac{1}{2} b_1 h_{b_1} = \frac{1}{2} c_1 h_{c_1}$  бўлиши берилган.

$S_{\Delta A_1 B_1 C_1} : S_{\Delta ABC} = \frac{1}{2} a_1 h_{a_1} : \frac{1}{2} ah_a = \frac{a_1}{a} \cdot \frac{h_{a_1}}{h_a}$  бўлиб,  $\frac{a_1}{a} = \frac{h_{a_1}}{h_a}$



33- расм.

экидан  $S_{\Delta A_1 B_1 C_1} : S_{\Delta ABC} = \frac{a_1}{a} \cdot \frac{a_1}{a} = \frac{a_1^2}{a^2} = k^2$  бўлади. Бундан  $S_{\Delta A_1 B_1 C_1} = k^2 S_{\Delta ABC}$  бўлади. Шу билан теорема исбот бўлди.

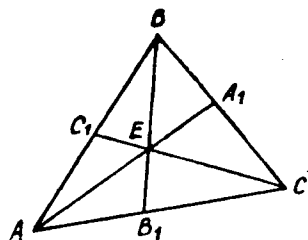
**29-теорема.** Агар  $ABC$  учбурчакнинг  $A$  бурчаги  $A'B'C'$  учбурчакнинг  $A'$  бурчагига тенг бўлса, бу учбурчаклар юзларининг нисбати тенг бурчакларни ташкил этган томонлар кўпайтмасининг нисбатига тенгдир, яъни  $S_{\Delta ABC} : S_{\Delta A'B'C'} = bc : b'c'$  бўлади.

Агар  $ABC$  учбурчакнинг  $A$  бурчаги билан  $A'B'C'$  учбурчакнинг  $A'$  бурчагининг йиғиндис  $180^\circ$  га тенг бўлса (33- расм), учбурчак юзларининг нисбати шу  $A$  ва  $A'$  бурчакларни ташкил этган томонлар кўпайтмасининг нисбатига тенгдир, яъни  $S : S' = bc : b'c'$ .

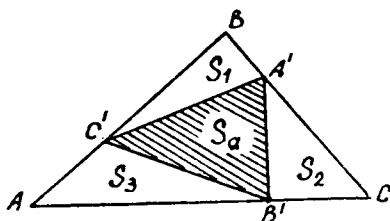
$A'B'C'$  учбурчакда  $C'A'$  нинг давомида  $A'$  нуқтага нисбатан  $C'$  нуқтага симметрик қилиб  $C''$  нуқта оламыз.  $A'C'' = A'C' = b'$ . Энди  $B'$  ва  $C''$  нуқталарни туташтирамыз. Ҳосил бўлган  $A'B'C''$  нинг юзини  $S''$  билан белгилайлик, бунда  $\angle B'A'C'' = \angle A$  бўлганидан юқоридаги фикрга кўра  $S : S'' = bc : b'c'$ . Бу ерда  $S_{\Delta C'A'B'} = S_{\Delta A'B'C''}$ , чунки  $C'A' = A'C''$  ҳамда баландликлар тенг. Демак,  $S' = S''$  эканидан  $S : S' = bc : b'c'$  бўлади.

**30-теорема.** Агар  $ABC$  учбурчакнинг учларидан чиқувчи тўғри чизиқлар учбурчакнинг томонларини  $A_1, B_1, C_1$  нуқталарда кесиб, улар биргина  $E$  (34- расм) нуқтада кесишса, у ҳолда  $\frac{EA_1}{AA_1} + \frac{EB_1}{BB_1} + \frac{EC_1}{CC_1} = 1$  бўлишини исботланг.

Исботи. Маълумки,  $S_{\Delta ABC} = S_{\Delta AEB} + S_{\Delta BEC} + S_{\Delta CEA}$  бўлиб,  $\frac{S_{\Delta AEB}}{S_{\Delta ABC}} + \frac{S_{\Delta BEC}}{S_{\Delta ABC}} + \frac{S_{\Delta CEA}}{S_{\Delta ABC}} = 1$  бўлади. Бунда



34- расм.



35- расм.

$$\frac{S_{\Delta AEB}}{S_{\Delta ABC}} = \frac{c \cdot EC_1}{c \cdot CC_1}, \quad \frac{S_{\Delta BFC}}{S_{\Delta ABC}} = \frac{a \cdot EA_1}{a \cdot AA_1}, \quad \frac{S_{\Delta CEA}}{S_{\Delta ABC}} = \frac{b \cdot EB_1}{b \cdot BB_1}$$

экидан  $\frac{EA_1}{AA_1} + \frac{EB_1}{BB_1} + \frac{EC_1}{CC_1} = 1$  бўлади. Шу билан  $T_{30}$  исбот қилинди.

**Масала.**  $ABC$  учбурчакнинг томонларида мос равишда  $A'$ ,  $B'$ ,  $C'$  нуқталар  $A'B = u \cdot A'C$ ;  $B'C = v \cdot B'A$ ;  $C'A = w \cdot C'A'$  шarti бўйича олинган бўлиб, унинг юзи  $S$  бўлса,  $A'B'C'$  учбурчак юзини топинг.

Е чиш. Қисқалик учун  $A'B = a_1$ ;  $A'C = a_2$ ;  $B'C = b_1$ ;  $B'A = b_2$ ;  $BC' = c_2$ ;  $AC' = c_1$  деб олсак, у ҳолда (35- расм)  $S_{\Delta A'BC'} = S_1$ ;  $S_{\Delta A'B'C} = S_2$ ;  $S_{\Delta AB'C'} = S_3$  кўринишда белгилаймиз. Юқоридагиларга таяниб ва  $T_{29}$  га асосан  $S_1 : S = a_1 c_2 : ac$ ;  $S_2 : S = a_2 b_1 : ab$ ;  $S_3 : S = c_1 b_2 : cb$  ни ёзамиз ва уларни ҳадма-ҳад қўшсак, у ҳолда  $\frac{S_1 + S_2 + S_3}{S} = \frac{a_1 c_2 + a_2 b_1 + a b_2 c_1}{abc}$  ёки  $S_1 + S_2 + S_3 = S_k$  десак,  $S = \frac{S_k abc}{a_1 b c_2 + a_2 b_1 c + a b_2 c_1}$  (1) ҳосил бўлади. Белгилашларга кўра

$$\begin{aligned} a &= a_1 + a_2 = a_2(1 + u), \\ b &= b_1 + b_2 = b_2(1 + v), \\ c &= c_1 + c_2 = c_2(1 + w). \end{aligned} \quad 2)$$

Топилган натижаларни (1) га қўйиб, сўнгра тегишли содда-лаштиришларни бажарсак, у ҳолда

$$\begin{aligned} \frac{S_k}{S} &= \frac{u(1+v) + v(1+w) + w(1+u)}{(1+u)(1+v)(1+w)} \Rightarrow S_k = \\ &= S \cdot \frac{u(1+v) + v(1+w) + w(1+u)}{(1+u)(1+v)(1+w)} \text{ бўлиб, } S_a = S - S_k \end{aligned}$$

эканидан

$$S_a = S \cdot \frac{1 + u \cdot v \cdot w}{(1 + u)(1 + v)(1 + w)}$$

ҳосил бўлади.

Маълумки,  $ABC$  учбурчак томонлари узунликлари йи-  
гиндисининг ярмини  $p = \frac{a+b+c}{2} \Rightarrow 2p = a + b + c$  деб бел-  
гиллаган эдик.

1.  $ab + bc + ca = p^2 + r^2 + 2Rr$  эканини исботланг.

Исботи. Бунинг учун  $a + b + c = 2p$ ;  $r = \frac{S}{p}$ ;  $R =$   
 $= \frac{abc}{4S}$  каби муносабатлардан фойдаланамиз. Булардан

$$\begin{aligned} p^2 + r^2 + 4Rr &= p^2 + \frac{S^2}{p^2} + \frac{abc}{S} \cdot \frac{S}{p} = \\ &= p^2 + \frac{(p-a)(p-b)(p-c) + abc}{p} = \\ &= \frac{p^3 - p^2(a+b+c) + p(ab+ac+bc) - abc + abc}{p} + p^2 = \\ &= p^2 - p^2 + ab + bc + ac = ab + ac + bc \end{aligned}$$

экани келиб чиқади. Шу билан исбот бўлди.

2. Учбурчак  $ABC$  да  $a^2 + b^2 + c^2 = 2(p^2 - r^2 - 4Rr)$   
эканини исботланг.

Исботи.  $a^2 + b^2 + c^2 = a^2 + b^2 + c^2 + 2ab + 2ac +$   
 $+ 2bc - 2(ab + ac + bc) = (a + b + c)^2 - 2(ab + ac + bc) =$   
 $= 4p^2 - 2(p^2 + r^2 + 4Rr) = 2(p^2 - r^2 - 4Rr).$

3. Берилган:  $\left(\frac{a}{r_a} + \frac{b}{r_b} + \frac{c}{r_c}\right)\left(\frac{a+b+c}{r_a+r_b+r_c}\right) = 4$ ;  $a^2 =$   
 $= (r_a - r)(r_b + r_c)$  эканлигини исботланг.

Исботи.  $\frac{a}{r_a} + \frac{b}{r_b} + \frac{c}{r_c} = \frac{ar_b r_c + br_a r_c + cr_a r_b}{r_a r_b r_c}$  деб ёзиб,  
сўнгра  $S = (p-a)r_a = (p-b)r_b = (p-c)r_c$  муносабатдан  
фойдаланиб,  $\frac{a}{r_a} + \frac{b}{r_b} + \frac{c}{r_c} = \frac{(p-a)(p-b)(p-c)}{S} \left[ \frac{a}{(p-b)(p-c)} + \right.$   
 $\left. + \frac{b}{(p-a)(p-c)} + \frac{c}{(p-a)(p-b)} \right] = \frac{a(p-a) + b(p-b) + c(p-c)}{S} =$   
 $= \frac{p(a+b+c) - (a^2 + b^2 + c^2)}{S} = \frac{2p^2 - (2p^2 - 2r^2 - 8Rr)}{S} =$   
 $= \frac{2r^2 + 8Rr}{S} = \frac{2r}{S}(r + 4R)$  ни

ҳосил қиламиз. Худди шунга ўхшаш  $r_a + r_b + r_c = r + 4R$  эканини эътиборга олсак, у ҳолда  $\frac{a+b+c}{r_a+r_b+r_c} = \frac{2p}{r+4R}$  бўлиб,  $\left(\frac{a}{r_a} + \frac{b}{r_b} + \frac{c}{r_c}\right)\left(\frac{a+b+c}{r_a+r_b+r_c}\right) = \frac{2r}{S}(r+4R) \cdot \frac{2p}{r+4R} = \frac{4pr}{S} = 4 \frac{S}{S} = 4$

ҳосил бўлади.

Юқорида келтирилган формулалардан фойдаланиб, қуйидаги тенгликларнинг тўғрилигини текшириб кўринг:

1.  $h_a + h_b + h_c = \frac{ab + bc + ac}{2R}$ .
2.  $\frac{1}{r_a} + \frac{1}{r_b} + \frac{1}{r_c} = \frac{1}{r}$ .
3.  $\frac{1}{h_a} + \frac{1}{h_b} + \frac{1}{h_c} = \frac{1}{r}$ .
4.  $p^2 r = r_a r_b r_c$ .
5.  $a^3 + b^3 + c^3 = 2p(p^2 - 3r^2 - 6Rr)$ .
6.  $(a+b)(b+c)(a+c) = 2p(p^2 + r^2 + 2Rr)$ .
7.  $\frac{1}{a} + \frac{1}{b} + \frac{1}{c} = \frac{1}{4R} \left(\frac{p}{r} + \frac{r}{p}\right) + \frac{1}{p}$ .
8.  $\frac{1}{ab} + \frac{1}{bc} + \frac{1}{ac} = \frac{1}{2Rr}$ .
9.  $\frac{1}{a^2} + \frac{1}{b^2} + \frac{1}{c^2} = \left(\frac{p^2 + 4Rr + r^2}{4pRr}\right)^2 - \frac{1}{Rr}$ .
10.  $\frac{a+b}{c} + \frac{b+c}{a} + \frac{a+c}{b} = \frac{p^2 + r^2 - 2Rr}{2Rr}$ .
11.  $(p-a)^2 + (p-b)^2 + (p-c)^2 = p^2 - 2r(4R+r)$ .
12.  $(p-a)^3 + (p-b)^3 + (p-c)^3 = p(p^2 - 12Rr)$ .
13.  $\frac{1}{p-a} + \frac{1}{p-b} + \frac{1}{p-c} = \frac{4R+r}{pr}$ .
14.  $\frac{a}{p-a} + \frac{b}{p-b} + \frac{c}{p-c} = \frac{4R-2r}{r}$ .
15.  $h_a h_b + h_b h_c + h_a h_c = \frac{2p^2 r}{R}$ ;  $h_a h_b h_c = \frac{2p^2 r^2}{R}$ .
16.  $(h_a + h_b)(h_b + h_c)(h_a + h_c) = \frac{p^2 r}{R^2}(p^2 + r^2 + 2Rr)$ .
17.  $\frac{h_a + h_b}{h_c} + \frac{h_b + h_c}{h_a} + \frac{h_a + h_c}{h_b} = \frac{p^2 + r^2 - 2Rr}{2Rr}$ .

$$18. \frac{h_a+h_b}{a+b} \cdot \frac{h_b+h_c}{b+c} \cdot \frac{h_a+h_c}{a+c} = \frac{pr}{2R^2}.$$

$$19. \frac{h_a+h_b}{r_c} + \frac{h_b+h_c}{r_a} + \frac{h_a+h_c}{r_b} = 6.$$

$$20. \frac{r_a r_b r_c}{h_a h_b h_c} = \frac{r_a r_b + r_a r_c + r_b r_c}{h_a h_b + h_a h_c + h_b h_c}.$$

$$21. S = \frac{r_a r_b r_c}{p}.$$

$$22. S = r \cdot r_a \sqrt{\frac{4R - r_a + r}{r_a - r}}.$$

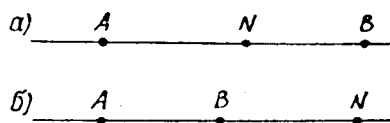
$$23. S = \frac{ar_b r_c}{r_b + r_c}.$$

$$24. S = \frac{(a+b)r \cdot r_c}{r + r_c}.$$

## II БОБ. УЧБУРЧАКНИНГ АСОСИЙ НУҚТАЛАРИ, ЧИЗИҚЛАРИ ВА УЛАРДАН КЕЛИБ ЧИҚАДИГАН МУНОСАБАТЛАР

### 1-§. ЧЕВИАНЛАР

Юқориди келтирилган  $\partial f 2$  дан мусбат ва манфий йўналиш тушунчаси маълум. Бизга берилган тўғри чизиқда (36-а расм)  $A$  ва  $B$  асосий нуқта ва қандайдир  $N$  нуқта берилган бўлсин. Бундай ҳолатда ҳосил бўлган кесмаларнинг ўзаро нисбатини  $AN:BN$  деб ёзсак, у ҳолда бу ёзув



36- расм.

уч нуқтанинг оддий нисбати дейилиб, у  $(ABN)$  кўринишда белгиланади, яъни  $(ABN) = AN:BN$ . Энди  $(ABN)$  ни  $N$  нинг тўғри чизиқдаги ҳар хил ҳолатига қараб, ишораси ҳамда қийматини аниқлашга ҳаракат қилайлик:

1) Агар  $N$  нуқта  $A$  ва  $B$  нуқталар орасида бўлса, у ҳолда  $df2$  га асосан  $AN$  ва  $BN$  лар қарама-қарши йўналишга эга бўлганлиги сабабли  $(ABN) = AN:BN$  манфий бўлади.

2) Агар  $A = N$  бўлса, у ҳолда  $(ABA) = AA:BA = 0$  бўлади.

3)  $B = N$  бўлса, у ҳолда  $(ABN) = (ABB) = \infty$  бўлади.

4) Агар  $A \neq N$ ,  $B \neq N$  бўлиб,  $N$  нуқта  $AB$  кесманинг давомида ётсин дейлик, у ҳолда  $(ABN) > 0$  бўлиб (36-б расм),

$$(ABN) = \frac{AN}{BN} = \frac{AB + BN}{BN} = \frac{AB}{BN} + 1$$

ҳосил бўлади.

Бунда  $N$  нуқта  $B$  нуқтадан чексиз узоқлашса, у ҳолда  $\frac{AB}{BN}$  нисбат нолга интилади,  $(ABN)$  эса бирга интилади. Шунинг учун ҳам  $(ABN)$  да  $N$  нуқтанинг ҳар бир ўрни учун  $(ABN)$  нинг шунга мос қиймати мавжуддир. Агар берилган  $(ABN)$  ва  $(ABC)$  лар учун  $(ABN) = (ABC)$  бўлса, у ҳолда  $\frac{AN}{BN} = \frac{AC}{BC}$  бўлиб,  $AN = AB + BN$ ;  $AC = AB + BC$  эканидан

$$\begin{aligned} (ABN) = \frac{AB}{BN} + 1 &= \frac{AB}{BC} + 1 = (ABC) \Rightarrow \frac{AB}{BN} = \\ &= \frac{AB}{BC} \Rightarrow N = C \end{aligned}$$

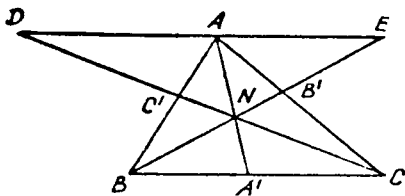
экани келиб чиқади. Демак,  $N$  ва  $C$  нуқталар устма-уст тушар экан.

8-таъриф. Агар тўғри чизиклар учбурчак  $ABC$  нинг учларидан чиқиб, қаршисидаги томонни ёки унинг давомини  $A'$ ,  $B'$ ,  $C'$  нуқталарда кесиб, ўзлари бир нуқтада кесишса ёки параллел бўлса, у ҳолда бундай тўғри чизиклар **Чеву чизиклари** ёки **чевуанлар** дейилади.

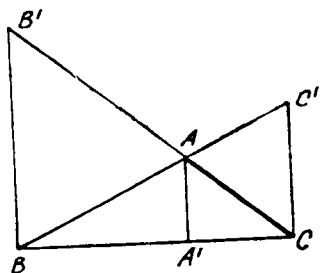
31-теорема. Агар  $AA'$ ,  $BB'$ ,  $CC'$  тўғри чизиклар учбурчак  $ABC$  нинг учларидан чиқиб, бир нуқтада кесишса ёки параллел бўлиб  $AB$ ,  $BC$ ,  $CA$  томонларни ёки уларнинг давомини  $C'$ ,  $A'$ ,  $B'$  нуқталарда кесиб ўтса, у ҳолда  $\frac{AB'}{B'C} \cdot \frac{CA'}{A'B} \cdot \frac{BC'}{C'A} = 1$  бўлади.

Исботи. Учбурчак  $ABC$  нинг  $A$  учидан  $BC$  томонига параллел бўлган  $DE$  ни ўтказамиз (37-расм), натижада  $ADC'$  ва  $BCC'$  учбурчаклари ҳосил бўлади.  $T_4$  га асосан  $\triangle ADC' \sim \triangle BCC'$  эканлигидан  $\frac{DA}{BC} = \frac{AC'}{C'B}$  (1) бўлади. Худди шунга ўхшаш  $\triangle AEB' \sim \triangle CBV'$  га асосан  $\frac{BC}{AE} = \frac{B'C}{AB'}$  (2) эканини ёза оламиз. Ҳосил қилинган ўхшаш учбурчаклардан бевосита

$$\frac{AE}{BA'} = \frac{AN}{NA'} = \frac{DA}{A'C} \quad \text{ёки} \quad \frac{BA'}{A'C} = \frac{AE}{DA} \quad (3)$$



37- расм.



38- расм.

келиб чиқади. Натижада (1), (2) ва (3) ларни ҳадлаб кўпайтирсак,  $\frac{AC'}{C'B} \cdot \frac{BA'}{A'C} \cdot \frac{CB'}{B'A} = 1$  экани келиб чиқади.

Агар  $AA' \parallel BB' \parallel CC'$  бўлса, у ҳолда (38-расм)  $\triangle BAA' \sim \triangle BC'C$  ёки  $\triangle BCB' \sim \triangle AA'C$  эканлигидан  $\frac{AB'}{B'C} = \frac{A'B}{BC}$  (1);

$\frac{BC'}{CA} = \frac{BC}{CA'}$  (2);  $\frac{CA'}{A'B} = \frac{CA}{A'B}$  (3) ҳосил қилиб, сўнгра

уларни ҳадлаб кўпайтирсак, у ҳолда  $\frac{AB'}{B'C} \cdot \frac{BC'}{C'A} \cdot \frac{CA'}{A'B} = 1$

экани келиб чиқади. Шу билан теорема исбот қилинди.

**32- тесқари теорема.** Агар учбурчак  $ABC$  нинг учларидан чиқувчи  $AA'$ ,  $BB'$ ,  $CC'$  тўғри чизиқлар шу бурчак қаршиисидаги томонни

$$\frac{AB'}{B'C} \cdot \frac{CA'}{A'B} \cdot \frac{BC'}{C'A} = 1$$

муносабатда бўлса, у ҳолда бу тўғри чизиқлар бир нуқтада кесишади ёки параллел бўлади.

(Исботи ўқувчига ҳавола)

Чеви теоремасидан қуйидаги натижалар келиб чиқади.

**2- натижа.** Учбурчакнинг медианалари бир нуқтада кесишади.

Ҳақиқатан ҳам (37-расм), медиана шартига кўра  $AB' = B'C$  ва  $BC' = C'A$  ҳамда  $BA' = A'C$  бўлгани ва булардан ҳосил бўладиган  $AB' : B'C = 1$  бўлгани учун Чеви теоремаси ўринлидир.

**3- натижа.** Учбурчакнинг ички бурчакларининг биссектрисалари бир нуқтада кесишади.

Ҳақиқатан ҳам (37-расм),  $AA'$ ,  $BB'$ ,  $CC'$  ларни биссектриса деб қарасак, у ҳолда биссектриса хоссасига кўра

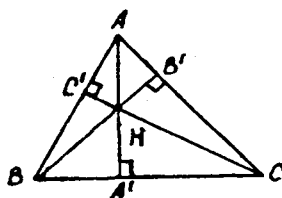


$$\frac{AB'}{B'C} = \frac{c}{a}; \quad \frac{CA'}{A'B} = \frac{b}{c}, \quad \frac{BC'}{C'A} = \frac{a}{b}$$

эқанидан

$$\frac{AB'}{B'C} \cdot \frac{CA'}{A'B} \cdot \frac{BC'}{C'A} =$$

$$= \frac{c}{a} \cdot \frac{b}{c} \cdot \frac{a}{b} = 1 \text{ экани келиб чиқади.}$$



39-расм.

4-*натиж*а. Учбурчакнинг ба- ландликлари бир нуқтада кеси- шади ва бу нуқта учбурчакнинг ортомарказидир.

Ҳақиқатан ҳам (39-расм), ҳосил бўлган тўғри бурчакли учбурчаклардан мос ҳолда  $AC' = b \cos A$ ;  $BA' = c \cos B$ ;  $CB' = a \cos C$ ;  $C'B = a \cos B$ ;  $A'C = b \cos C$ ;  $B'A = c \cos A$  ларни топиб, Чеви теоремасига кўра

$$\frac{AC'}{C'B} \cdot \frac{BA'}{A'C} \cdot \frac{CB'}{B'A} = 1$$

ни ҳосил қиламиз.

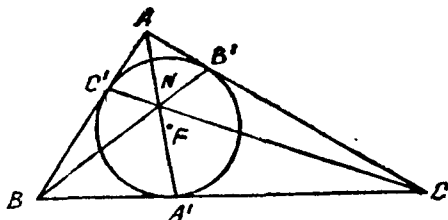
5-*натиж*а. Учбурчакка ички чизилган айлананинг ури- ниш нуқталарини учбурчакнинг учлари билан туташтирувчи тўғри чизиқлар *Жергон нуқтаси*да кесишади.

Ҳақиқатан ҳам (40-расм),  $A'$ ,  $B'$ ,  $C'$  нуқталар айлана- нинг учбурчак томонларига уриниш нуқтаси эканидан  $BC' = BA'$ ;  $AC' = AB'$  ва  $CB' = CA'$  бўлиб, Чеви теоремасига кўра  $\frac{AB'}{B'C} \cdot \frac{CA'}{A'B} \cdot \frac{BC'}{C'A} = 1$  бўлади. Шу билан  $H_2$ ,  $H_3$ ,  $H_4$ ,

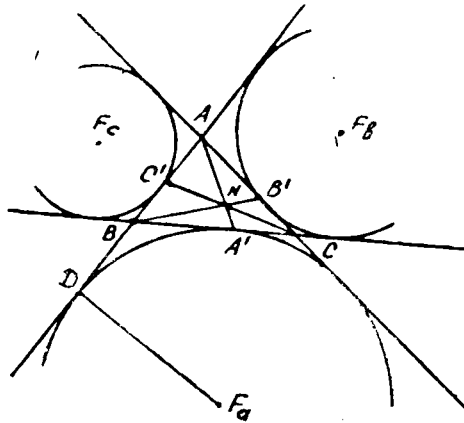
$H_5$  лар исбот қилинди.

33-*теорема*. Агар тўғри чизиқ учбурчакнинг учидан чиқиб, унинг қаршисидаги томонни шу томонга ёпишган бурчакларга пропорционал бўлса, у ҳолда бу тўғри чизиқ- лар бир нуқтада кесишади.

Исботи. Теореманинг шартига кўра (37-расм),  $AA'$ ,  $BB'$ ,  $CC'$  тўғри чи- зиқлар бурчак қарши- сидаги томонни  $\frac{AB'}{B'C} =$   
 $= \frac{\angle A}{\angle C}$ ;  $\frac{CA'}{A'B} = \frac{\angle C}{\angle B}$ ;  
 $\frac{BC'}{C'A} = \frac{\angle B}{\angle A}$  нисбатлар- да бўлиши берилган. Ҳосил бўлган тенг- ликларни ҳадлаб кў-



40-расм.



41-расм.

пайтирсак, у ҳолда  $\frac{AB'}{B'C} \cdot \frac{CA'}{A'B} \cdot \frac{BC'}{C'A} = \frac{\angle A}{\angle C} \cdot \frac{\angle C}{\angle B} \cdot \frac{\angle B}{\angle A} = 1$  бўлади.

Шу билан теорема исбот қилинди.

9-таъриф. Учбурчакнинг томонларига ташқи-ички чизилган айланаларнинг уриниш нуқтасини шу томон қаршисидаги уч билан туташтиришдан ҳосил бўлган тўғри чизиқлар бир нуқтада кесишса, шу нуқта **Негел нуқтаси** дейилади.

Учбурчак  $ABC$  да унинг ихтиёрий учидан ташқи-ички чизилган айлананинг уриниш нуқтасигача бўлган масофани топамиз, яъни  $AD = AB + BD$  экани (41-расм) маълум. Айлана ташқарисидagi нуқтадан ўтказилган уринма хоссасига асосан  $BD = BA'$  эканлигидан  $AD = AB + BA' = c + BA'$  ёки  $AD = AC + CA' = b + CA'$  бўлади, буларни ҳадлаб қўшсак,  $2AD = a + b + c = 2r$ , бундан,  $AD = r$  бўлади.  $AD = c + BA'$  эканидан  $BA' = r - c$  бўлади. Худди шунга ўхшаш қолганларни ҳам аниқлаш мумкин.

**34-теорема.** Агар учбурчак  $ABC$  нинг томонларига ташқи-ички чизилган айланаларнинг уриниш нуқтасини учбурчакнинг учлари билан мос ҳолда туташтирсак, ҳосил бўлган тўғри чизиқлар бир нуқтада кесишади.

Исботи. Маълумки,  $T_{31}$  га асосан  $\frac{AB'}{B'C}$ ;  $\frac{CA'}{A'B}$ ;  $\frac{BC'}{C'A}$  нисбатларни топамиз, яъни  $BA' = r - c$  экани маълум

41 расм). Худди шунга ўхшаш  $CA' = p - b$ ;  $BC' = p - a$ ;  $CB' = p - a$ ;  $C'A = p - b$ ;  $AB' = p - c$  ларни ҳосил қиламиз. Топилган натижаларни  $\frac{AB'}{B'C} \cdot \frac{CA'}{A'B} \cdot \frac{BC'}{C'A}$  га қўйилса,

$$\text{у ҳолда } \frac{AB'}{B'C} \cdot \frac{CA'}{A'B} \cdot \frac{BC'}{C'A} = \frac{p-c}{p-a} \cdot \frac{p-b}{p-c} \cdot \frac{p-a}{p-b} = 1.$$

Демак, бу тўғри чизиқлар бир нуқтада кесишар экан. Шу билан теорема исбот қилинди.

Демак, учбурчак  $ABC$  да Чеви тўғри чизиғи Негел нуқтаси орқали ўтса, унинг периметрини тенг иккига бўлар экан.

**35- Ван-Обел теоремаси.** Учбурчакнинг ички қисмида кесишадиган Чеви тўғри чизиғининг ҳар бири учун  $\frac{AN}{A'N} = \frac{AB'}{B'C} + \frac{AC'}{C'B}$  муносабати ўринлидир.

Исботи. Учбурчак  $ABC$  нинг  $A$  учидан  $BC$  га параллел қилиб  $DE$  ни (37- расм) ўтказамиз. Натижада  $\triangle DNE \sim \triangle BNC$  дан бевосита  $\frac{AN}{NA'} = \frac{DE}{BC} = \frac{DA+AE}{BC} = \frac{DA}{BC} + \frac{AE}{BC}$ ;

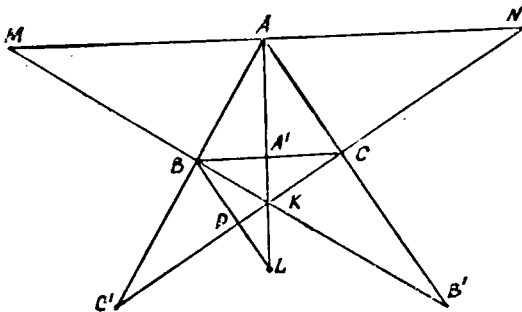
$\triangle DAC' \sim \triangle BC'C$  дан  $\frac{DA}{BC} = \frac{AC'}{C'B}$  бўлади.  $\triangle AEB' \sim$

$\triangle BB'C$  дан  $\frac{AE}{BC} = \frac{AB'}{B'C}$  бўлади. Топилган натижаларни

$\frac{AN}{NA'}$  га қўйсақ, у ҳолда  $\frac{AN}{NA'} = \frac{DA}{BC} + \frac{AE}{BC} = \frac{AC'}{C'B} + \frac{AB'}{B'C}$  бўлади. Шу билан  $T_{35}$  исбот қилинди.

Энди Чеви тўғри чизиқлари учбурчак текислигидан ташқарида кесишадиган бўлган ҳоли (42- расм) ни кўриб ўтамиз.

Учбурчак  $ABC$  да  $AA'$ ,  $CC'$ ,  $BB'$  тўғри чизиқлар учбур-



42- расм.

чак ташқарисида —  $K$  нуқтада кесишсин дейлик, у ҳолда  $\triangle MKN \sim \triangle BKC$  эканидан  $\frac{AK}{KA'} = \frac{MN}{BC} = \frac{MA}{BC} + \frac{AN}{BC}$  бўлиб,  $\triangle MAB' \sim \triangle BCB'$  ҳамда  $\triangle NAC' \sim \triangle BCC'$  лардан бевосита  $\frac{MA}{BC} = \frac{AB'}{B'C}$ ;  $\frac{AN}{BC} = \frac{AC'}{C'B}$  эканини ёза оламиз. Бундан  $\frac{AK}{KA'} = \frac{AB'}{B'C} + \frac{AC'}{C'B}$  бўлади. Агар кесмаларнинг йўналишини эътиборга олинса ҳам бу муносабат ўзгармайди.

Энди  $\frac{BK}{KB'}$  ни аниқлаймиз. Бунинг учун  $B$  учидан  $AC \parallel BL$  ни ўтказамиз. Натижада  $\triangle KBL \sim \triangle KBV'$  дан  $\frac{BK}{KB'} = \frac{PL}{AC} = \frac{BL - BP}{AC} = \frac{BL}{AC} - \frac{BP}{AC} = \frac{BA'}{A'C} - \frac{BC'}{C'A}$  бўлади. Агар йўналиш тушунчасига кўра  $\frac{BC'}{C'A} = -\frac{BC'}{AC'}$  эканини эътиборга олсак, у ҳолда  $\frac{BK}{KB'} = \frac{BA'}{A'C} + \frac{BC'}{AC'}$  келиб чиқади.

Шу билан  $T_{35}$  тўла ҳолда исбот қилинди. Бу  $T_{35}$  дан қуйидаги натижалар келиб чиқади.

6- натижа. Учбурчакнинг медианалари кесишиш нуқтасида учбурчак учидан бошлаб 2:1 нисбатда бўлинади, чунки  $AK:KA' = 2:1 = 2$  экани маълум.

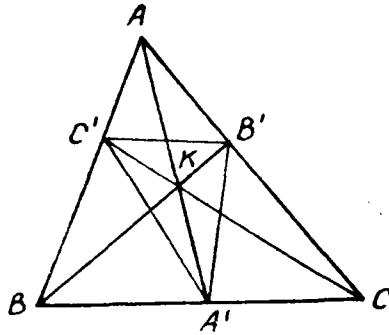
7- натижа. Учбурчак ички бурчагининг биссектрисалари кесишиш нуқтасида  $\frac{b+c}{a}$ ,  $\frac{b+a}{c}$ ,  $\frac{a+c}{b}$  каби нисбатларда бўлинади. Ҳақиқатан ҳам (37-расм),  $AA'$ ,  $BB'$ ,  $CC'$  ларни учбурчакнинг ички биссектрисалари десак, у ҳолда  $\frac{AB'}{BC'} = \frac{c}{a}$ ;  $\frac{AC'}{BC'} = \frac{b}{a}$  эканидан  $\frac{AK}{KA'} = \frac{b+c}{a}$  экани келиб чиқади. Қолган нисбатларни ҳам шундай келтириб чиқариш мумкин.

8- натижа. Агар  $K$  нуқта Жергон нуқтаси бўлса, у ҳолда  $\frac{AC'}{C'B} = \frac{p-a}{p-b}$ ;  $\frac{AB'}{B'C} = \frac{p-a}{p-c}$  бўлиб,  $\frac{AK}{KA'} = \frac{p-a}{p-b} + \frac{p-a}{p-c} = \frac{a(p-a)}{(p-b)(p-c)}$ ;  $\frac{BK}{KB'} = \frac{b(p-b)}{(p-a)(p-c)}$ ;  $\frac{CK}{KC'} = \frac{c(p-c)}{(p-a)(p-b)}$  бўлади.

9- натижа. Агар  $K$  нуқта Негел нуқтаси бўлса, у ҳолда

$$\frac{AC'}{C'B} = \frac{p-b}{p-a}; \quad \frac{AB'}{B'C} = \frac{p-c}{p-a}$$

эқанидан  $\frac{AK}{KA'} = \frac{p-b}{p-a} +$   
 $+\frac{p-c}{p-a} = \frac{p-b+p-c}{p-a}; \quad \frac{BK}{KB'} =$   
 $= \frac{b}{p-b}; \quad \frac{CK}{KC'} = \frac{c}{p-c}$  бў-



43- расм.

**Масала.** Агар Чеви тўғри чизиқлари учбурчак  $ABC$  нинг ичида кесишса, у ҳолда учлари  $A', B', C'$  нуқталарда ётувчи учбурчакнинг юзи топилсин.

Ечиш. Изланаётган учбурчакнинг юзини  $S' = S_{\Delta A'B'C'}$  (43-расм) орқали белгилайлик, у ҳолда  $S = S - S_{\Delta AC'B'} - S_{\Delta BC'A'} - S_{\Delta CA'B'} = S \left( 1 - \frac{S_{\Delta AC'B'}}{S} - \frac{S_{\Delta BC'A'}}{S} - \frac{S_{\Delta CA'B'}}{S} \right)$  бўлади ва  $T_{29}$  га асосан қуйидагиларни ёза оламиз:

$$\frac{S_{\Delta AC'B'}}{S} = \frac{AB' \cdot AC'}{AB \cdot AC}; \quad \frac{S_{\Delta BC'A'}}{S} = \frac{BC' \cdot BA'}{BC \cdot BA};$$

$$\frac{S_{\Delta CA'B'}}{S} = \frac{CA' \cdot CB'}{CA \cdot CB}.$$

$$BA' : CA' = \lambda_a; \quad CA' : AB' = \lambda_b; \quad AC' : BC' = \lambda_c$$

деб олсак, у ҳолда

$$\frac{AC'}{AB} = \frac{AC'}{AC' + C'B} = \frac{AC'}{AC' - BC'} = \frac{\frac{AC'}{BC'}}{\frac{AC'}{BC'} - 1} = -\frac{\lambda_c}{1 - \lambda_c};$$

$$\frac{AB'}{AC} = \frac{AB'}{AB' + B'C} = \frac{AB'}{AB' - CB'} = \frac{1}{1 - \frac{CB'}{AB'}} = \frac{1}{1 - \lambda_b};$$

$$\frac{BA'}{BC} = -\frac{\lambda_a}{1 - \lambda_a}; \quad \frac{BC'}{BA} = \frac{1}{1 - \lambda_c}; \quad \frac{CB'}{CA} = -\frac{\lambda_b}{1 - \lambda_b};$$

$$\frac{CA'}{CB} = \frac{1}{1 - \lambda_a}$$

бўлади. Бу топилган натижалардан

$$S' = S \left( 1 + \frac{\lambda_a}{(1-\lambda_c)(1-\lambda_a)} + \frac{\lambda_b}{(1-\lambda_a)(1-\lambda_b)} + \frac{\lambda_c}{(1-\lambda_a)(1-\lambda_c)} \right) = \frac{2S}{(1-\lambda_a)(1-\lambda_b)(1-\lambda_c)}$$

ҳосил бўлади.

$$S' = \frac{2S}{(1-\lambda_a)(1-\lambda_b)(1-\lambda_c)}$$

дан қуйидаги ҳулосага эга бўламиз:

1) Агар Чевии тўғри чизиқлари биссектриса бўлса, у ҳолда  $S' = \frac{2Sabc}{(a+b)(b+c)(a+c)}$  бўлади.

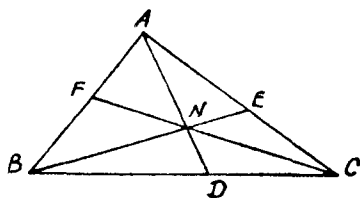
2) Агар Чевии тўғри чизиқлари медиана бўлса, у ҳолда

$$S' = \frac{2S}{8} = \frac{S}{4}$$

бўлади.

3) Агар чевианлар баландликлар бўлса,  $S' = 2S \cos A \cos B \cos C$  бўлади.

4) Агар учбурчакка ички чизилган айлананинг уриниш нуқталаридан чевианлар ўтувчи бўлса, у ҳолда  $S' = \frac{pr^2}{2R}$  бўлади.



44- расм.

5) Агар учбурчак  $ABC$  да  $b^2 + c^2 = 5a^2$  муносабат ўринли бўлса,  $m_b \perp m_c$  бўлади.

**36- Жергон теоремаси.**  
Агар  $AD, BE, CF$  тўғри чизиқлар учбурчак учларидан чиқиб, учбурчак ичида кесишса, у ҳолда  $\frac{ND}{AD} + \frac{NE}{BE} + \frac{NF}{CF} = 1$  ва  $\frac{AN}{AD} + \frac{BN}{BE} + \frac{CN}{CF} = 2$

бўлади.

Исботи. 1. Маълумки,  $T_{30}$  га асосан (44- расм)

$$\begin{aligned} \frac{S_{\triangle ANC}}{S_{\triangle ABC}} &= \frac{NE}{BE}; \quad \frac{S_{\triangle BNC}}{S_{\triangle ABC}} = \frac{ND}{AD}; \quad \frac{S_{\triangle ANB}}{S_{\triangle ABC}} = \frac{NF}{CF} \cdot S_{\triangle ABC} = \\ &= S_{\triangle ANC} + S_{\triangle BNC} + S_{\triangle ANB} \text{ эканидан } \frac{ND}{AD} + \frac{NE}{BE} + \frac{NF}{CF} = \end{aligned}$$

$= 1$  келиб чиқади. Худди шунга ўхшаш  $\frac{AN}{AD} = \frac{AD - ND}{AD} =$   
 $= 1 - \frac{ND}{AD}$ ;  $\frac{BN}{BE} = 1 - \frac{NE}{BE}$ ;  $\frac{CN}{CF} = 1 - \frac{NF}{CF}$  муносабатлардан бевосита

$$\frac{AN}{AD} + \frac{BN}{BE} + \frac{CN}{CF} = 3 - \left( \frac{ND}{AD} + \frac{NE}{BE} + \frac{NF}{CF} \right) = 3 - 1 = 2$$

экани келиб чиқади.

2. Берилган  $\frac{AO}{AA_1} + \frac{BO}{BB_1} + \frac{CO}{CC_1} = 2$  (45-расм) муносабатнинг бошқача исботини келтирамиз, яъни  $\triangle ABC$  нинг учта учидан чиқиб  $O$  нуқтада кесишиб, мос томонларни  $A_1, B_1, C_1$  нуқталарда кесиб ўтиши  $\triangle ABC$  нинг юзи мос ҳолда  $S_1, S_2, S_3, S_4, S_5, S_6$  ларга бўлинишини кўрсатади. Натижада  $T_{30}$  га асосан

$$\frac{AO}{AA_1} = \frac{S_1 + S_2}{S_1 + S_2 + S_3} \quad (1); \quad \frac{OC}{CC_1} = \frac{S_5 + S_4}{S_3 + S_4 + S_5} \quad (2);$$

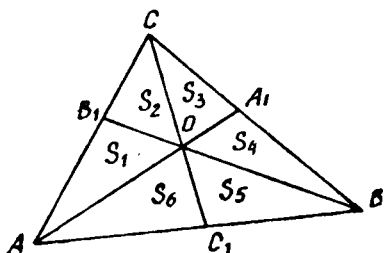
$$\frac{OB}{BB_1} = \frac{S_5 + S_6}{S_1 + S_5 + S_6} \quad (3); \quad \frac{AO}{AA_1} = \frac{S_5 + S_6}{S_4 + S_5 + S_6} \quad (4)$$

ни ёза оламиз. Энди (1) ва (4) ни ҳадлаб қўшсак,  $(S_1 + S_2 + S_3 + S_4 + S_5 + S_6) \frac{AO}{AA_1} = S_1 + S_2 + S_5 + S_6 =$   
 $= S - (S_3 + S_4)$  бўлади. Демак,

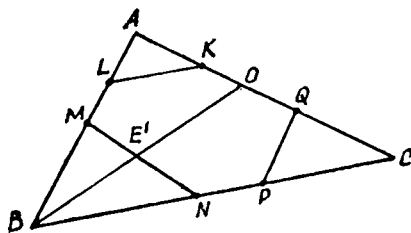
$$\frac{AO}{AA_1} \cdot S = S - (S_3 + S_4) \quad (5); \quad \frac{BO}{BB_1} \cdot S = S - (S_1 + S_2) \quad (6);$$

$$\frac{OC}{CC_1} \cdot S = S - (S_5 + S_6) \quad (7).$$

Натижада (5), (6) ва (7) ларни ҳадлаб қўшсак,



45-расм.



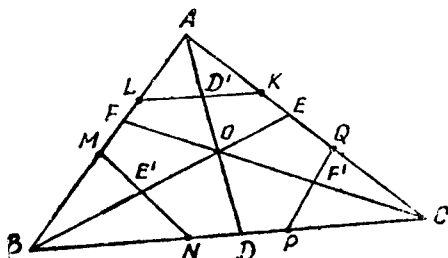
46-расм.

$$\frac{AO}{AA_1} + \frac{BO}{BB_1} + \frac{CO}{CC_1} = \frac{3S - (S_1 + S_2 + S_3 + S_4 + S_5 + S_6)}{S} =$$

$$= \frac{3S - S}{S} = 2$$

ни ҳосил қиламиз. Демак,  $\frac{AO}{AA_1} + \frac{BO}{BB_1} + \frac{CO}{CC_1} = 2$  бўлар экан.

Шу билан теорема исбот бўлди.



47- расм.

Агар нуқта учбурчакнинг томонида (46-расм) ётса ҳам  $OC:AC + OA:CA = 1$  бўлади, яъни теорема ўринли бўлади.

Бу теоремадан қуйидаги натижани аниқлаш мумкин.

**10- натижа.** Агар учбурчак  $ABC$  нинг учларидан унинг ичида ётувчи нуқтагача бўлган кесма ўртасидан

дан учбурчакнинг шу учлар қаршисидаги томонига параллел тўғри чизиқлар ўтказилса, ҳосил бўлган учбурчаклар мос элементларининг йиғиндиси учбурчак мос элементига тенг бўлади.

Исботи.  $H_{10}$  нинг шартига кўра  $O$  нуқтани учбурчак ичида (47- расм) ёки томонида (46- расм) оламиз ва уни учбурчакнинг учлари билан туташтирамиз. Ҳосил бўлган  $AO$ ,  $CO$ ,  $BO$  кесмаларнинг ўргталарини мос ҳолда (47- расм)  $D'$ ,  $E'$ ,  $F'$  орқали белгилаб, бу нуқталар орқали  $BC$ ,  $AC$ ,  $AB$  томонларга параллел ўтказамиз. Натижада ҳосил бўлган  $LAK$  ва  $BAC$ ;  $MBN$  ва  $ABC$ ;  $PCQ$  ва  $BCA$  учбурчакларнинг чизиқли элементларини мос ҳолда  $K_A = \frac{AD'}{AD} = \frac{1}{2} \frac{AO}{AD}$ ;

$K_B = \frac{1}{2} \frac{BO}{BE}$ ;  $K_C = \frac{1}{2} \frac{CO}{CF}$  деб олсак, у ҳолда

$$K_A + K_B + K_C = \frac{1}{2} \left( \frac{AO}{AD} + \frac{BO}{BE} + \frac{CO}{CF} \right) = \frac{1}{2} \cdot 2 = 1$$

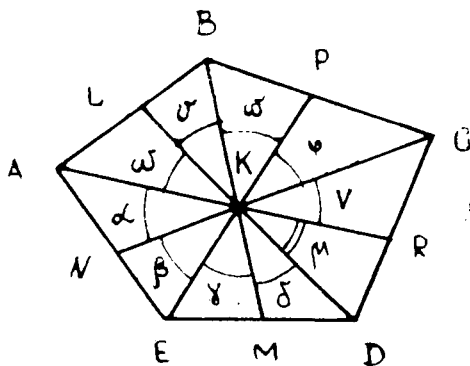
экани келиб чиқади. Демак,  $K_A + K_B + K_C = 1$  бўлади. Энди учбурчак  $ABC$  нинг чизиқли элементини  $d$  десак, у ҳолда  $d = dK_A + dK_B + dK_C$  бўлиб,  $dK_A = d_A$ ;  $dK_B =$



$= d_B$ ;  $dK_C = d_C$  десак, бундан  $d_A + d_B + d_C = d$  хелиб чиқади. Масалан,  $d = r$  десак, у ҳолда шу учбурчакдан ички кесилган учбурчакларга ички чизилган айланалар радиусларининг йиғиндиси  $r_A + r_B + r_C = r$  бўлади. Агар  $N$  нуқта учбурчак ташқарисида, масалан  $BC$  га нисбатан  $A$  учга қарама-қарши ярим текисликда ётган бўлса, у ҳолда  $\frac{NF}{CF} + \frac{NE}{BE} - \frac{ND}{AD} = 1$  бўлишини кўриш мумкин.

**37-Понсоле теоремаси.** Тоқ сондаги томонга эга бўлган текис кўпбурчакнинг учларини унинг ичида олинган қандайдир нуқта билан туташтирилиб ва унинг давоми ушбу бурчак қаршисидаги томондан кесмалар ажратса, у ҳолда ўзаро чекка умумийликка эга бўлмаган кесмалар кўпайтмаси ўзаро тенг бўлади, яъни:

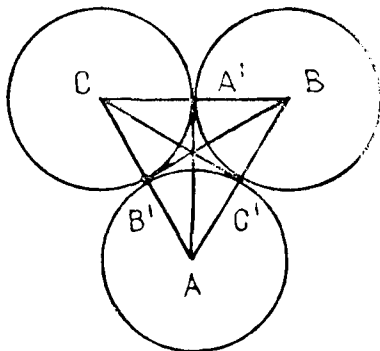
$$\frac{AN}{NE} \cdot \frac{EM}{MD} \cdot \frac{DR}{RC} \cdot \frac{CP}{PB} \cdot \frac{BL}{LA} = 1.$$



48- расм.

Исботи. Теорема шартда берилганларга кўра (48- расм) текис кўпбурчакни қараймиз ва унинг текислигида  $K$  нуқта оламиз, шу нуқтадан ўтувчи, кўпбурчакнинг учларидан чиқувчи тўғри чизиқлар қаршисидаги томондан кесмалар ажратади. Натижада ҳосил бўлган учбурчакларнинг  $K$  нуқтадаги учи ташкил этган бурчакларни  $\alpha, \beta, \gamma, \dots, \omega$  орқали белгилаймиз. Сўнгра  $\triangle AKN$  ва  $\triangle NKE$  учбурчак юзларининг

нисбати  $T_{30}$  ва  $T_{36}$  га асосан  $\frac{AN}{NE} = \frac{AK \sin \alpha}{KE \sin \beta}$ ;  $\frac{EM}{MD} = \frac{KE \sin \gamma}{KD \sin \delta}$ ;  $\frac{DR}{RC} = \frac{KD \sin \mu}{KC \sin \nu}$ ;  $\frac{CP}{PB} = \frac{KC \sin \varphi}{KB \sin \omega}$ ;  $\frac{BL}{LA} = \frac{KB \sin \nu}{KA \sin \omega}$  бўлиб,  $\alpha = \nu$ ;  $\beta = \varphi$ ;  $\gamma = \omega$ ;  $\delta = \nu$ ,  $\mu = \omega$  эканини эътиборга олиб топилган нисбатларни ҳадлаб кўпайтирсак, у ҳолда  $\frac{AN}{NE} \cdot \frac{EM}{MD} \cdot \frac{DR}{RC} \cdot \frac{CP}{PB} \cdot \frac{BL}{LA} = 1$  бўлади. Шу билан теорема исбот қилинди.



49-расм.

**Масала.** Марказлари  $A$ ,  $B$ ,  $C$  нуқталарда бўлган айланалар жуфт-жуфти билан ўзаро ташқи уринади (49-расм). Айлана марказларини ташқи уриниш нуқталари билан туташтирувчи тўғри чизиқлар бир нуқтада кесишишини исботланг.

**Исботи.** Масала шартига кўра  $ABC$  учбурчак ҳосил қилиб, унда  $AB' = AC'$ ;  $BC' = BA'$ ;  $CA' = CB'$  эканини эътиборга олсак, у ҳолда  $T_{31}$  га асосан

$$\frac{BA'}{A'C} \cdot \frac{AB'}{B'A} \cdot \frac{AC'}{C'B} = 1 \text{ экани келиб чиқади.}$$

Шу билан исбот бўлди.

Қўйидаги масалаларни ечинг:

1. Учбурчак  $ABC$  да  $AB = c$ ;  $AC = b$ ;  $BC = a$  бўлиб,  $BC$  томонда  $E$  нуқта  $BE = m$  ва  $EC = n$  бўладиган қилиб олинган бўлса,  $AE$  нинг узунлигини топинг.

2. Учбурчак  $ABC$  нинг текислигида  $N$  нуқта олиниб, унинг томонларига  $t_a$ ,  $t_b$ ,  $t_c$  перпендикуляр туширилган бўлса, у ҳолда  $t_a : h_a + t_b : h_b + t_c : h_c = 1$  эканини исботланг.

3. Учбурчак ичида олинган нуқтадан учбурчакнинг томонларига параллел учта тўғри чизиқ ўтказилган. Бу тўғри чизиқлар учбурчакни олти бўлакка бўлади, булардан учтаси учбурчак бўлиб, уларнинг юзлари  $S_1$ ;  $S_2$ ;  $S_3$  га тенг. Берилган учбурчакнинг юзини топинг.

4. Учбурчак  $ABC$  да  $AA_1$ ,  $BB_1$ ,  $CC_1$  биссектрисалар ўтказилса, унда  $AB_1 = \frac{bc}{a+c}$ ;  $B_1C = \frac{ab}{a+c}$ ;  $CA_1 = \frac{ab}{b+c}$ ;

$$A_1B = \frac{ac}{b+c}; \quad AC_1 = \frac{bc}{a+b}; \quad BC_1 = \frac{a^2}{a+b}$$

бўлишини ва улар бир нуқтада кесишишини исботланг.

5. Учбурчакнинг ичидаги исталган нуқтадан унинг томонларига мос равишда параллел учта тўғри чизиқ ўтказилган. Бу тўғри чизиқларнинг учбурчак томонлари орасида қолган  $a', b', c'$  кесмалари  $\frac{a'}{a} + \frac{b'}{b} + \frac{c'}{c} = 2$  шартни бажаришини кўрсатинг.

6. Агар  $N$  нуқта учбурчак текислигига тегишли бўлиб,  $AN, BN, CN$  лар учбурчакнинг томонларини  $A', B', C'$  нуқталарда кесса,  $\frac{NA'}{AA'} + \frac{NB'}{BB'} + \frac{NC'}{CC'} = 1$  бўлишини исботланг.

7. Агар  $ABC$  ва  $A_1B_1C$  учбурчаклар учун  $\angle A + \angle A_1 = 90^\circ$  бўлса,  $(S:bc)^2 + (S_1:b_1c_1)^2 = \frac{1}{4}$  эканини исботланг.

8. Агар  $A_1, B_1, C_1$  нуқталар  $ABC$  учбурчак баландликларининг асоси бўлса, у ҳолда  $AB \cdot AC_1 + BC \cdot BA_1 + CA \cdot CA_1 = AB \cdot BC_1 + BC \cdot CA_1 + CA \cdot AB_1 = (a^2 + b^2 + c^2) : 2$  бўлишини исботланг.

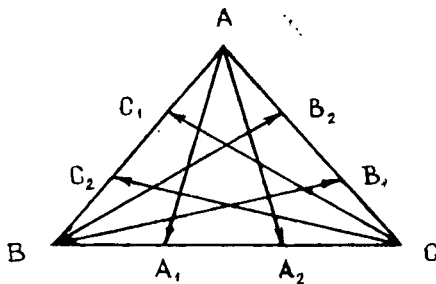
## 2-§. Учбурчакнинг медианаси

10-таъриф. Агар тўғри чизиқ учбурчак учидан чиқиб, шу бурчак қаршисидаги томондан  $\frac{1}{n}$  бўлак ажратса, у ҳолда бу тўғри чизиқ (50-расм) учбурчакнинг **медианаси** дейилади.

Маълумки,  $n \neq 1$  бўлиб,  $n = 2$  бўлганда томонни тенг икки бўлакка бўлади — бу медианадир,  $n = 3$  бўлса, томонни тенг уч бўлакка бўлади — бу терцианадир ва ҳоказо.

Шаклдан кўриниб турибдики,  $n = 3$  бўлганда ҳар бир бурчакдан иккитадан медиана чиқиб, шу бурчак қаршисидаги томонни тенг уч бўлакка

бўлади. Натижада  $\overrightarrow{AA_1}$   
 $\overrightarrow{AA_2}, \overrightarrow{BB_1}, \overrightarrow{BB_2}, \overrightarrow{CC_1}, \overrightarrow{CC_2}$



50-расм.

векторларни қараш мумкин. Юқориди кўриб ўтилганига асосан учбурчак  $ABC$  учун  $\vec{AB} + \vec{BC} + \vec{CA} = 0$  бўлади. Шунинг учун ҳам ҳосил қилинган медианалар учбурчак ҳосил қилиш ёки қилмаслигини кўриб ўтамыз. Бунинг учун  $AA_1$ ,  $BB_1$ ,  $CC_1$  ларни биринчи гуруҳ,  $AA_2$ ,  $BB_2$ ,  $CC_2$  ларни иккинчи гуруҳ медианалари деб ажратсак, у ҳолда қуйидаги теоремани кўриб ўтамыз.

**38-теорема.** *Ҳар бир гуруҳ медианаларидан учбурчак яшаш мумкин.*

Исботи. Бунинг учун  $AA_1$ ,  $BB_1$ ,  $CC_1$  гуруҳ медианаларини қарасак, у ҳолда

$$\vec{AA}_1 = \vec{AB} + \frac{\vec{BC}}{n}, \quad (1)$$

$$\vec{BB}_1 = \vec{BC} + \frac{\vec{CA}}{n}, \quad (2)$$

$$\vec{CC}_1 = \vec{CA} + \frac{\vec{AB}}{n}. \quad (3)$$

Топилган (1), (2) ва (3) ларни ҳадлаб қўшсак, у ҳолда

$$\vec{AA}_1 + \vec{BB}_1 + \vec{CC}_1 = \left(1 + \frac{1}{n}\right)(\vec{AB} + \vec{BC} + \vec{CA}) = 0$$

бўлиб,  $\vec{AA}_1 + \vec{BB}_1 + \vec{CC}_1 = 0$  экани келиб чиқади. Демак, биринчи гуруҳ медианаларидан учбурчак яшаш мумкин эканлиги келиб чиқади. Бундан қолган гуруҳлардан ҳам учбурчак ҳосил қилиш мумкин эканлиги тасдиқланади. Шу билан  $T_{38}$  исботланди.

**39-теорема.** *Учбурчак  $ABC$  да биринчи гуруҳ медианалари квадратларининг йиғиндисига иккинчи гуруҳ медианалари квадратларининг йиғиндисига тенгдир.*

Исботи. Бунинг учун биринчи гуруҳ медианаларини

$T_{38}$  га асосан ёзсак, у ҳолда  $\vec{AA}_1 = \vec{AB} + \frac{\vec{BC}}{n}$ , бундан

$\vec{AA}_1^2 = \vec{AB}^2 + \frac{\vec{BC}^2}{n^2} + \frac{2\vec{AB} \cdot \vec{BC}}{n}$  ёки  $\vec{BB}_1 = \vec{BC} + \frac{\vec{CA}}{n}$ , бундан

$\vec{BB}_1^2 = \vec{BC}^2 + \frac{\vec{CA}^2}{n^2} + \frac{2\vec{BC} \cdot \vec{CA}}{n}$ , ёки  $\vec{CC}_1 = \vec{CA} + \frac{\vec{AB}}{n}$ , бундан

$\vec{CC}_1^2 = \vec{CA}^2 + \frac{\vec{AB}^2}{n^2} + \frac{2\vec{CA} \cdot \vec{AB}}{n}$  бўлиб,  $\vec{AA}_2 = \vec{AC} - \frac{\vec{BC}}{n}$ ,

бундан  $\overrightarrow{AA_2^2} = \overrightarrow{AC^2} + \frac{\overrightarrow{BC^2}}{n^2} - \frac{2\overrightarrow{AC} \cdot \overrightarrow{BC}}{n}$  эканидан  $\overrightarrow{AA_1^2} - \overrightarrow{AA_2^2} =$   
 $= \overrightarrow{AB^2} - \overrightarrow{AC^2} + \frac{2\overrightarrow{BC}}{n} (\overrightarrow{AB} + \overrightarrow{AC})$  бўлади. Агар ҳосил қи-  
лингн  $\overrightarrow{BC} = \overrightarrow{AC} - \overrightarrow{AB}$  ифодани ўрнига қўйсак, у ҳолда  
 $\overrightarrow{AA_1^2} - \overrightarrow{AA_2^2} = \overrightarrow{AB^2} - \overrightarrow{AC^2} + \frac{2}{n} (\overrightarrow{AC} - \overrightarrow{AB}) (\overrightarrow{AC} + \overrightarrow{AB}) =$   
 $= \overrightarrow{AB^2} - \overrightarrow{AC^2} + \frac{2}{n} (\overrightarrow{AC^2} - \overrightarrow{AB^2}) = \frac{n-2}{n} (\overrightarrow{AB^2} - \overrightarrow{AC^2}) =$   
 $= \frac{n-2}{n} (c^2 - b^2)$

ҳосил бўлади. Агар  $AA_1 = d_a$ ;  $AA_2 = d'_a$ ;  $BB_1 = d_b$ ;  $BB_2 =$   
 $= d'_b$ ;  $CC_1 = d_c$ ;  $CC_2 = d'_c$  десак, у ҳолда

$$d_a^2 - d'_a{}^2 + d_b^2 - d'_b{}^2 + d_c^2 - d'_c{}^2 = \frac{n-2}{n} (c^2 - b^2 +$$

$$+ a^2 - c^2 + b^2 - a^2) = 0$$

бўлиб,  $d_a^2 + d_b^2 + d_c^2 = d'_a{}^2 + d'_b{}^2 + d'_c{}^2$  экани келиб чиқади.

Шу билан  $T_{39}$  исбот қилинди.

**40-теорема.** *Учбурчак ABC да ҳар бир гуруҳ недиа-  
наллар квадратларининг йиғиндисини  $\frac{n^2 - n + 1}{n^2} (a^2 + b^2 + c^2)$*

*га тенгдир.*

Исботи.  $T_{39}$  га асосан

$$d_a^2 = \overrightarrow{AB^2} + \frac{\overrightarrow{BC^2}}{n^2} + \frac{2\overrightarrow{AB} \cdot \overrightarrow{BC}}{n} = \overrightarrow{AB^2} + \frac{\overrightarrow{BC^2}}{n^2} +$$

$$+ \frac{2}{n} |\overrightarrow{AB}| |\overrightarrow{BC}| \cos B = c^2 + \frac{a^2}{n^2} + \frac{2ac \cos B}{n};$$

$$d_b^2 = \overrightarrow{BC^2} + \frac{\overrightarrow{CA^2}}{n^2} + \frac{2\overrightarrow{BC} \cdot \overrightarrow{CA}}{n} = a^2 + \frac{b^2}{n^2} + \frac{2ab \cos C}{n};$$

$$d_c^2 = \overrightarrow{CA^2} + \frac{\overrightarrow{AB^2}}{n^2} + \frac{2\overrightarrow{CA} \cdot \overrightarrow{AB}}{n} = b^2 + \frac{c^2}{n^2} + \frac{2bc \cos A}{n}.$$

Энди топилган недианаларни ҳадма-ҳад қўшсак, у ҳолда

$$d_a^2 + d_b^2 + d_c^2 = (a^2 + b^2 + c^2) + \frac{1}{n^2} (a^2 + b^2 + c^2) - \frac{1}{n} (a^2 +$$

$+ b^2 + c^2) = \frac{n^2 - n + 1}{n^2} (a^2 + b^2 + c^2)$  ҳосил бўлади, чунки  $2 ab \cos C = a^2 + b^2 - c^2$ . Демак, шу билан теорема исбот қилинди.

**41-теорема.** Учбурчак  $ABC$  нинг ҳар бир гуруҳ недианаларидан тузилган учбурчак юзининг  $ABC$  учбурчак юзига нисбати  $\frac{n^2 - n + 1}{n^2}$  га тенгдир.

Исботи.  $T_{39}$  га асосан  $\vec{AA}_1 = \vec{AB} + \frac{\vec{BC}}{n}$ ;  $\vec{BB}_1 = \vec{BC} + \frac{\vec{CA}}{n}$  эканидан  $\vec{AA}_1 \times \vec{BB}_1 = \left( \vec{AB} + \frac{\vec{BC}}{n} \right) \left( \vec{BC} + \frac{\vec{CA}}{n} \right) = \vec{AB} \times \vec{BC} + \frac{\vec{AB} \times \vec{CA}}{n} + \frac{\vec{BC} \times \vec{CA}}{n^2} = \frac{n^2 - n + 1}{n^2} (\vec{AB} + \vec{BC})$ ;  
 $\vec{AA}_1 \times \vec{BB}_1 = 2 S_n$ .

$\vec{AB} \times \vec{BC} = 2 S$  вектор кўпайтма юзни бергани учун  $2 S_n = \frac{n^2 - n + 1}{n^2} 2 S \Rightarrow \frac{S_n}{S} = \frac{n^2 - n + 1}{n^2}$  экани келиб чиқади, бу ерда  $S_n$  недианалар ташкил қилган учбурчак юзи  $S = S_{\Delta ABC}$  дир.

Шу билан  $T_{41}$  исбот қилинди.

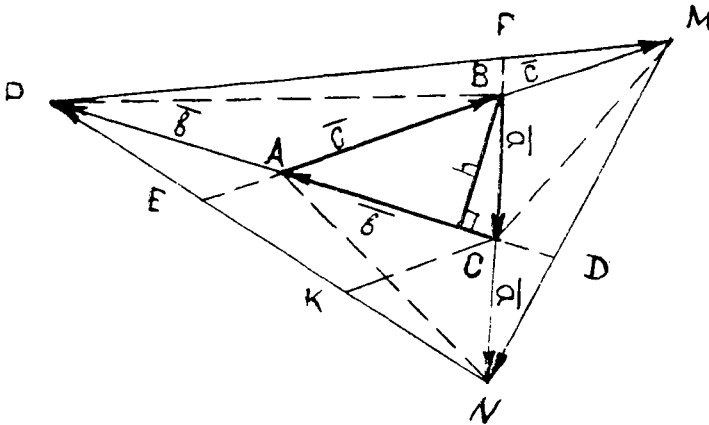
Демак,  $\frac{S_n}{S} = \frac{d_a^2 + d_b^2 + d_c^2}{a^2 + b^2 + c^2} = \frac{n^2 - n + 1}{n^2}$  га нисбатан қуйидаги хулосаларни келтириш мумкин:

а)  $n = 2$  бўлганда  $\frac{m_a^2 + m_b^2 + m_c^2}{a^2 + b^2 + c^2} = \frac{3}{4}$  бўлади;

б)  $n = 3$  бўлганда  $\frac{t_a^2 + t_b^2 + t_c^2}{a^2 + b^2 + c^2} = \frac{7}{9}$  бўлади.

**Масала.** Учбурчак  $ABC$  нинг  $AB$ ,  $BC$ ,  $CA$  томонлари давомида мос ҳолда  $M$ ,  $N$ ,  $P$  нуқталар  $BM = AB$ ;  $CN = BC$ ;  $AP = CA$  шарти бўйича танланган бўлса,  $MNP$  учбурчак томонлари квадратларининг йиғиндиси учбурчак  $ABC$  томонлари квадратлари йиғиндисидан етти марта катта бўлишини исботланг.

Исботи. Масала шартида кўрсатилганларга таянган ҳолда ҳосил бўлган  $M$ ,  $N$ ,  $P$  нуқталарни  $S$ ,  $A$ ,  $B$  нуқталар билан туташтирамик, натижада  $MNP$  учбурчак етти



51- расм.

(51-расм) тенгдош  $ABC$ ,  $PAB$ ,  $PBM$ ,  $MBC$ ,  $NCM$ ,  $NCA$ ,  $NAP$  учбурчакларга ажралади.

51-расмда кўрсатилган векторларни қараймиз, яъни  $\vec{a} + \vec{b} + \vec{c} = 0$  эканидан  $(\vec{a} + \vec{b} + \vec{c})^2 = a^2 + b^2 + c^2 + 2\vec{a}\vec{b} + 2\vec{a}\vec{c} + 2\vec{b}\vec{c} = 0 \Rightarrow a^2 + b^2 + c^2 = -2(\vec{a}\vec{b} + \vec{a}\vec{c} + \vec{b}\vec{c})$  (1) ҳосил бўлади. Энди  $MNP$  учбурчакдан  $\vec{m} = 2\vec{b} - \vec{a}$ ,  $\vec{n} = 2\vec{c} - \vec{b}$ ,  $\vec{p} = 2\vec{a} - \vec{c}$  эканини билган ҳолда

$$m^2 + n^2 + p^2 = (2\vec{b} - \vec{a})^2 + (2\vec{c} - \vec{b})^2 + (2\vec{a} - \vec{c})^2 = 5(a^2 + b^2 + c^2) - 4(\vec{a}\vec{b} + \vec{a}\vec{c} + \vec{b}\vec{c})$$

ҳосил бўлади. Энди (1) га асосан  $m^2 + n^2 + p^2 = 5(a^2 + b^2 + c^2) + 2(a^2 + b^2 + c^2) = 7(a^2 + b^2 + c^2)$  бўлади, бундан  $(m^2 + n^2 + p^2) : (a^2 + b^2 + c^2) = 7$  экани келиб чиқади. Шу билан масала ҳал бўлди.

**42-теорема.** Агар икки учбурчакнинг томонлари квадратларининг йиғиндилари нисбати улар юзларининг нисбатига пропорционал бўлса, у ҳолда улар томонларининг биквадратлари йиғиндиси нисбати уларнинг юзлари квадратлари нисбатига пропорционал бўлади.

Ишботи.  $T_{42}$  нинг шартига кўра  $\frac{a^2 + b^2 + c^2}{a_1^2 + b_1^2 + c_1^2} = \frac{S}{S_1} \Rightarrow$

$\Rightarrow \frac{a^4 + b^4 + c^4}{a_1^4 + b_1^4 + c_1^4} = \frac{S^2}{S_1^2}$  бўлишини кўрсатамиз. Бунинг учун

Герон формуласига кўра

$$S = \sqrt{\frac{a+b+c}{2} \cdot \frac{b+c-a}{2} \cdot \frac{a+b-c}{2} \cdot \frac{a+c-b}{2}} \text{ дан}$$

$$16 S^2 = [(b+c)^2 - a^2][a^2 - (c-b)^2] = 2b^2c^2 + 2c^2a^2 + 2a^2b^2 - a^4 - b^4 - c^4. \quad (1)$$

$\frac{a^2 + b^2 + c^2}{a_1^2 + b_1^2 + c_1^2} = \frac{S}{S_1}$  нинг иккала томонини квадратга ошириб,

(1) ни ва  $\frac{x}{y} = \frac{a}{b} \Rightarrow \frac{x-a}{y-b} = \frac{a}{b}$  ни татбиқ қилиб,  
 $\frac{2a^4 + 2b^4 + 2c^4}{2a_1^4 + 2b_1^4 + 2c_1^4} = \frac{S^2}{S_1^2}$  ни ҳосил қиламиз, бундан  $(a^4 + b^4 + c^4) : (a_1^4 + b_1^4 + c_1^4) = S^2 : S_1^2$  бўлади. Шу билан  $T_{4a}$  исбот бўлди. Бундан қуйидаги натижаларни олиш мумкин:

11- натижа.  $\triangle ABC$  учун:  $\frac{m_a^2 + m_b^2 + m_c^2}{a^2 + b^2 + c^2} = \frac{3}{4} \Rightarrow$

$$\Rightarrow \frac{m_a^4 + m_b^4 + m_c^4}{a^4 + b^4 + c^4} = \frac{9}{16} \text{ бўлади.}$$

12- натижа.  $\triangle ABC$  да  $\frac{t_a^2 + t_b^2 + t_c^2}{a^2 + b^2 + c^2} = \frac{7}{9} \Rightarrow \frac{t_a^4 + t_b^4 + t_c^4}{a^4 + b^4 + c^4} = \frac{49}{81}$ .

13- натижа.  $\triangle ABC$  да  $\frac{m_a^2 + m_b^2 + m_c^2}{t_a^2 + t_b^2 + t_c^2} = \frac{27}{28} \Rightarrow$

$$\Rightarrow \frac{m_a^4 + m_b^4 + m_c^4}{t_a^4 + t_b^4 + t_c^4} = \frac{729}{784}$$

14- натижа.  $\triangle ABC$  да  $\alpha, \beta, \gamma$  бурчаклар бўлиб, учбурчак  $MNP$  унинг медианаларидан ташкил топган бўлса, у ҳолда  $\text{ctg } M + \text{ctg } N + \text{ctg } P = \text{ctg } \alpha + \text{ctg } \beta + \text{ctg } \gamma$  бўлади.

Исботи. Ҳақиқатан ҳам

$$\text{ctg } \alpha = \frac{\cos \alpha}{\sin \alpha} = \frac{b^2 + c^2 - a^2}{2bc \sin \alpha} = \frac{b + c - a^2}{4S};$$



$$\operatorname{ctg} \beta = \frac{\cos \beta}{\sin \beta} = \frac{c^2 + a^2 - b^2}{2ca \sin \beta} = \frac{c^2 + a^2 - b^2}{4S};$$

$$\operatorname{ctg} \gamma = \frac{\cos \gamma}{\sin \gamma} = \frac{a^2 + b^2 - c^2}{2ab \sin \gamma} = \frac{a^2 + b^2 - c^2}{4S}$$

бўлиб,  $\operatorname{ctg} \alpha + \operatorname{ctg} \beta + \operatorname{ctg} \gamma = \frac{a^2 + b^2 + c^2}{4S}$  бўлади. Худди шунга ўхшатиб

$$\operatorname{ctg} \alpha + \operatorname{ctg} \beta + \operatorname{ctg} \gamma = \operatorname{ctg} M + \operatorname{ctg} N + \operatorname{ctg} P$$

эканини келтириб чиқарамиз. Агар учбурчак бурчаклари учун

$$\operatorname{ctg} \alpha \operatorname{ctg} \beta + \operatorname{ctg} \alpha \operatorname{ctg} \gamma + \operatorname{ctg} \beta \operatorname{ctg} \gamma = 1$$

эканини эътиборга олсак, у ҳолда бевосита  $\operatorname{ctg}^2 \alpha + \operatorname{ctg}^2 \beta + \operatorname{ctg}^2 \gamma = \operatorname{ctg}^2 M + \operatorname{ctg}^2 N + \operatorname{ctg}^2 P$  экани ҳосил бўлади.

Қуйидаги масалаларни ечинг:

1. Тенг ёнли  $ABC$  учбурчакда  $AB = BC$  бўлиб,  $AB$  ва  $BC$  томонларда  $BN = BP = \frac{1}{3} AB$  кесмалар қўйилган.  $AP$  ва  $CN$  кесмалар  $D$  нуқтада кесишади.  $BNDP$  тўртбурчакнинг юзини учбурчакнинг юзи орқали топинг.

2.  $ABC$  учбурчакнинг  $AB$ ,  $BC$  ва  $AC$  томонларида мос равишда  $C_1$ ,  $A_1$ ,  $B_1$  нуқталар шундай олинганки,

$$AC_1 = \frac{1}{5} AB, BA_1 = \frac{1}{5} BC, CB_1 = \frac{1}{5} AC.$$

$A_1$ ,  $B_1$ ,  $C_1$  нуқталар кесмалар билан туташтирилган.

а) агар  $S = S_{\triangle ABC}$  бўлса,  $S_{\triangle A_1 B_1 C_1}$  ни топинг.

б)  $AA_1$ ,  $BB_1$  ва  $CC_1$  тўғри чизиқларнинг кесишишидан ҳосил бўлган учбурчакнинг юзини топинг.

3.  $ABC$  учбурчакнинг томонлари бир хил йўналишда  $A_1$ ,  $B_1$ ,  $C_1$  нуқталар қадар шундай давом эттирилганки,  $AA_1 = 3AB$ ,  $BB_1 = 3BC$ ,  $CC_1 = 3CA$  бўлса, у ҳолда  $S_{\triangle A_1 B_1 C_1} : S_{\triangle ABC}$  ни топинг.

4.  $ABC$  учбурчакда  $\angle B - \angle C = 90^\circ$  бўлса, у ҳолда  $\frac{2}{a^2} = \frac{1}{(b+c)^2} + \frac{1}{(b-c)^2}$  бўлишини исботланг.

### III бoб. УЧБУРЧАКНИНГ ТРАНСВЕРСАЛИ ВА УЧБУРЧАКНИНГ МУҲИМ НУҚТАЛАРИ ОРАСИДАГИ МАСОФА

#### 1-§. Учбурчакнинг ва кўпбурчакнинг трансверсали

Геометрияда шакллар устида айрим муносабатларни аниқлашда ёки ўлчаш ишларини олиб боришда шу шаклни кесувчи (трансверсал) билан кесиб, сўнгра қўйилган мақсад амалга оширилиши мумкин.

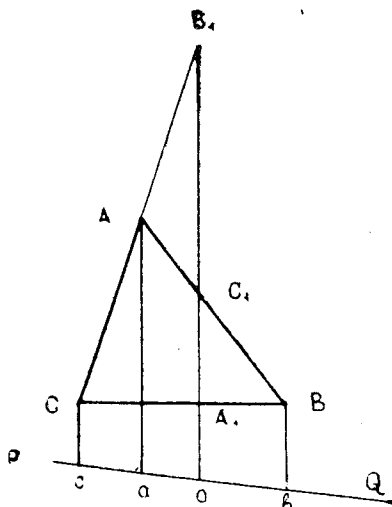
11-таъриф. Берилган  $F$  шакли кесиб ўтувчи тўғри чи-  
зиққа шу шаклнинг **кесувчиси (трансверсали)** дейилади.

Агар шакл кўпбурчакдан иборат бўлса, кесувчи на фа-  
қат шакли, балки унинг томонлари давомини кесиб ўт-  
иши мумкиндир.

43-Манелай теоремаси ( $T_M$ ). Агар тўғри чизмқ  
учбурчак  $ABC$  нинг  $AB, BC, CA$  томонларини ёки унинг  
давомини мос ҳолда  $C_1, B_1, A_1$  нуқталарда кесиб ўтса,  
у ҳолда

$$\frac{AC_1}{C_1B} \cdot \frac{BA_1}{A_1C} \cdot \frac{CB_1}{B_1A} = -1 \quad (1)$$

бўлади.



52- расм.

Исботи. Берилган  
учбурчак  $ABC$  нинг то-  
монини ёки уни давомини  
 $C_1A_1$  кесувчи кесиб  
ўтган бўлсин, у ҳолда  
учбурчакнинг ташқариси-  
да кесувчи билан умумий  
нуқтага эга бўлган  
ихтиёрий  $PQ$  тўғри чи-  
зиқни ўтказамиз (52-ра-  
см). Сўнгра учбурчак-  
нинг учларидан  $C_1A_1$  га  
параллел тўғри чизиқлар  
ўтказсак, улар  $PQ$  тўғри  
чизиқни  $c, a, b$  нуқта-  
ларда кесиб ўтади. На-  
тижада Фалес теорема-  
сига кўра ҳамда  $ABba$   
ва  $BCcb$ ;  $CBoc$  трапеция-  
лардан бевосита  $\frac{AC_1}{C_1B} =$

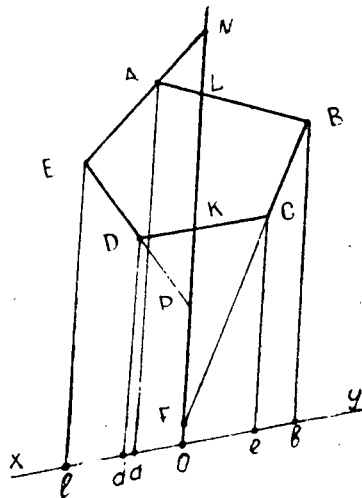
$$= \frac{aO}{ob} \quad (2); \quad \frac{BA_1}{A_1C} = \frac{bo}{oc} \quad (3);$$

$\frac{CB_1}{B_1A} = \frac{co}{ao}$  (4) ларни ҳосил қиламиз. Натижада (2), (3) ва (4)

ларни ҳадлаб кўпайтириб, йўналишни эътиборга олсак, у  
ҳолда (1) ҳосил бўлади. Буни юқорида келтирилганларга тая-  
ниб,  $T_{43}$  ни қисқалик учун учта нуқтанинг оддий нисбатига  
таянган ҳолда  $(ABC_1)(BCA_1)(CAB_1) = 1$  кўринишида ёзиш  
мумкин.

**44- Манелайнинг тескари теоремаси.** Агар  $C_1, A_1, B_1$  нуқталар учбурчакнинг томонида ёки унинг давомида ётиб,  $(ABC_1) \times (BCA_1) \cdot (CAB_1) = 1$  бўлса, у ҳолда бу нуқталар бир тўғри чизиқда ётади.

Исботи. Фараз қиламиз,  $A_1C_1$  тўғри чизиқ учбурчак  $ABC$  нинг  $CA$  томонини  $B_1$  нуқтада эмас  $D$  нуқтада кесиб ўтади дейлик (52-расм), у ҳолда  $T_{43}$  га асосан  $(ABC_1) \cdot (BCA_1) \times (CAD) = 1$  бўлади. Демак, бундан  $(CAD) : (CAB_1) = 1$  бўлиб,  $D = B_1$  бўлади. Яъни  $D$  билан  $B_1$  устма-уст тушади. Шу билан  $T_{44}$  исбот бўлди.



53- расм.

**45- Карно теоремаси.** Агар текис кўпбурчакнинг томонларини ёки унинг давомини тўғри чизиқ билан кесилса, у ҳолда умумий учга эга бўлмаган кесмалар кўпайтмалари ўзаро тенг бўлади, яъни:

$$\frac{BF}{FC} \cdot \frac{KC}{DK} \cdot \frac{DP}{EP} \cdot \frac{EN}{AN} \cdot \frac{AL}{LB} = 1.$$

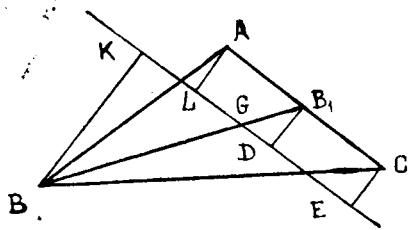
Исботи. Юқорда кўриб ўтилган  $T_{43}$  га кўра ва 53-расмдан

$$\frac{BF}{FC} = \frac{bo}{co} \quad (2); \quad \frac{KC}{DK} = \frac{co}{do} \quad (3); \quad \frac{DP}{EP} = \frac{do}{lo} \quad (4); \quad \frac{EN}{AN} = \frac{co}{ao} \quad (5); \quad \frac{AL}{LB} = \frac{ao}{bo} \quad (6)$$

ларни ҳадлаб кўпайтирсак, (1)ни ҳосил қиламиз. Шу билан  $T_{45}$  исботланди.

**46-теорема.** Агар кесувчи тўғри чизиқ учбурчак  $ABC$  нинг оғирлик марказидан ўтса, у ҳолда ундан бир томонда ётувчи учларгача бўлган масофалар йиғиндиси ушунчи учгача бўлган масофага тенг бўлади.

Исботи.  $G$  нуқта учбурчак  $ABC$  нинг оғирлик маркази;  $K, L, D, E$  нуқталар  $G$  дан ўтувчи трансверсалдаги учбурчак учларидан туширилган перпендикуляр асоси бўлсин (54-



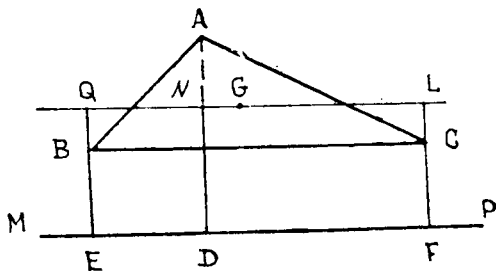
54- расм.

расм), у ҳолда  $\triangle BKG$  ва  $\triangle GB_1D$  ларнинг ўх-  
 шашлигидан  $\frac{BK}{B_1D} = \frac{BG}{GB_1} =$   
 $= 2$  ва  $ALEC$  трапециядан  
 $2B_1D = AL + EC$  ҳамда  
 $BK = 2B_1D$  эканидан  
 $BK = 2B_1D = AL + EC$  бўлади.  
 Энди  $B$  ҳамда  $A$  ва  $C$  нуқталар  
 $KE$  кесувчидан турли  
 томонда ётганини эъти-

борга олсак,  $BK = -AL - EC$  бўлиб,  
 $AL + BK + LE = 0$  бўлади.  
 Демак,  $BK = LA + EC$  бўлиб,  
 $T_{46}$  исбот бўлди.

**15-натижа.** Учбурчак  $ABC$  нинг  
 учларидан ихтиёрий тўғри  
 чизиқча бўлган масофалар  
 йиғиндисининг абсолют қий-  
 мати унинг оғирлик марказидан  
 шу тўғри чизиқча бўлган  
 масофанинг уч баробарига тенгдир.

**Исботи.** Учбурчак  $ABC$  нинг  
 оғирлик марказидан (55-  
 расм)  $QL$  ни ўтказамиз,  
 сўнгра унга параллел қилиб  
 $MP$  ни учбурчак ташқарисидан  
 ўтказамиз.  $ABC$  нинг учларидан



55- расм.

$MP$  га перпендикулярлар ўтказиб,  
 $AD = d_A$ ,  $BE = d_B$ ,  $CF =$   
 $= d_C$  деб белгиласак, у ҳолда  
 $LF = l$  бўлади. Агар учбур-  
 чак  $ABC$  нинг учларидан  $QL$   
 га бўлган масофаларни мос  
 ҳолда  $AN = d'_A$ ,  $BQ = d'_B$ ,  
 $CL = d'_C$  деб, кесмаларнинг  
 йўналишини эътиборга олсак,  
 у ҳолда  $AD = AN + ND$ ,  
 $BE = BQ + QE$ ,  $CF = CL + LF$   
 эканидан  $AD + BE + CF =$   
 $= AN + ND + BQ + QE + CL + LF$   
 бўлиб, бундан  $d_A + d_B + d_C =$   
 $= d'_A + l + d'_B + l + d'_C + l$   
 бўлади. Агар  $d'_A =$

$= d'_B + d'_C$  экани эътиборга олинса,  $d'_A + d'_B + d'_C = 0$  бўлиб,  $d_A + d_B + d_C = 3l$  бўлади.

**16- натижа.** Агар трапециянинг ён томонида ўтувчи  $N$  нуқта,  $a$  асосидан ҳисоблаганда, уни  $m:n$  нисбатда бўлса,

у ҳолда шу нуқтадан асосига параллел бўлиб ўтувчи тўғри чизиқнинг ён томонлар орасидаги қисми  $(na + mb):(m + n)$  га тенг бўлади.

**Исботи.**  $ABCD$  трапецияда  $AD = b$ ,  $BC = a$  бўлиб,  $BN:NA = m:n$  экани маълум. Биз  $BF \parallel CD$  ни, ҳамда  $ML \parallel AD$  ни ўтказамиз. Натижада (56-расм)  $\triangle ABF \sim \triangle BNK$  ҳосил бўлади.  $NK = \frac{m}{m+n} AF = \frac{m}{m+n} (b - a) = \frac{mb - ma}{m+n}$

бўлиб,  $NL = NK + LK = a + \frac{mb - ma}{m+n} = \frac{an + mb}{m+n}$  бўлади.

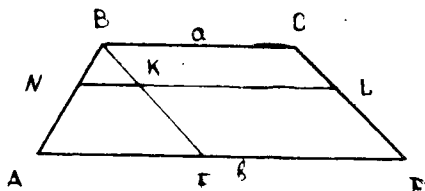
Демак,  $NL = (an + mb):(m + n)$  бўлар экан.

**1- масала.** Агар учбурчакка ички чизилган айлана марказидан трансверсал ўтиб ва унга учбурчак учларидан перпендикуляр  $d_A$ ,  $d_B$ ,  $d_C$  туширилиб, йўналиш эътиборга олинса, у ҳолда  $ad_A + bd_B + cd_C = 0$  бўлишини исботланг.

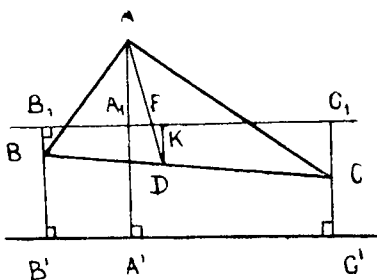
**Исботи.** Маълумки,  $H_{15}$  га асосан (57-расм)  $AA_1 = d_A$ ,  $BB_1 = d_B$ ,  $CC_1 = d_C$ . Ван-Обел теоремасига асосан  $\triangle AA_1F \sim \triangle FDK$  дан  $AA_1:KD = (b + c):a \Leftrightarrow aAA_1 = (b + c)KD$ .  $H_{16}$  га асосан  $KD = \frac{bBB_1 + cCC_1}{b + c}$

бўлиб,  $aAA_1 = bBB_1 + cCC_1$  бўлади. Агар йўналишни эътиборга олсак, у ҳолда  $aAA_1 = -bBB_1 - cCC_1$  бўлиб,  $ad_A + bd_B + cd_C = 0$  бўлади.

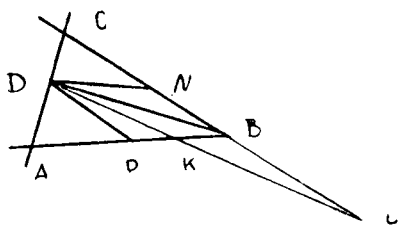
**2- масала.** Бурчак биссектрисасида олинган нуқтадан ўтувчи ва бурчак томонини ёки унинг давомини кесиб ўтувчининг



56- расм.



57- расм.



58-расм.

ажратган кесмаларининг тескари қийматининг алгебраик йиғиндиси шу нуқта учун ўзгармас эканини кўрсатинг.

Ечиш. Бурчак  $ABC$  нинг (58-расм) томонларини  $A$  ва  $C$  нуқтада кесиб, биссектрисасининг  $D$  нуқтасида ўтвчи чи-

зиқни қараймиз.  $D$  нуқтадан  $AB$  ва  $BC$  томонларга  $DN$  ва  $DP$  параллел чизиқларни ўтказсак, у ҳолда  $PB = BN = DN = DP = \frac{BD}{2 \cos \frac{B}{2}}$  бўлади.

$\triangle APD$  ва  $\triangle ABC$  ларнинг ўхшашлигидан бевосита

$$\frac{AP}{AB} = \frac{DP}{BC} \Rightarrow \frac{AB - PB}{AB} = \frac{DP}{BC} \Rightarrow 1 - \frac{PB}{AB} = \frac{DP}{BC} \Rightarrow$$

$$\Rightarrow 1 - \frac{BD}{2AB \cos \frac{B}{2}} = \frac{BD}{2BC \cos \frac{B}{2}} \Rightarrow \frac{1}{AB} + \frac{1}{BC} = \frac{2 \cos \frac{B}{2}}{BD}$$

ҳосил бўлади. Энди  $D$  нуқтадан ўтвчи бурчак томонларини  $K$  ва  $L$  нуқталарда кесиб ўтвчи трансверсални қарасак, у ҳолда

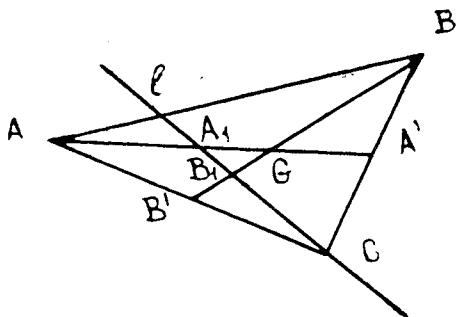
$$\frac{DN}{KB} = \frac{NL}{BL} \Rightarrow \frac{BD}{2KB \cos \frac{B}{2}} = 1 + \frac{NB}{BL} = 1 + \frac{BD}{2BL \cos \frac{B}{2}}$$

$$\frac{1}{KB} - \frac{1}{BL} = \left( \frac{BD}{2 \cos \frac{B}{2}} \right)^{-1} \text{ дан } \frac{1}{AB} + \frac{1}{BC} = \frac{1}{KB} - \frac{1}{BL} = \frac{2 \cos \frac{B}{2}}{BD}$$

экани келиб чиқади. Шу билан масала ҳал қилинди.

**3-масала.** Агар  $l$  тўғри чизиқ учбурчак  $ABC$  нинг  $C$  учидан чиқиб,  $m_a$  ва  $m_b$  медианаларни (59-расм)  $A_1$  ва  $B_1$  нуқталарда кесиб ўтса, у ҳолда  $AG : GA_1 + BG : GB_1 = 1$  ( $G \notin l$ ) бўлишини исботланг.

Исботи.  $T_m$  (Манелай теоремаси) га кўра ва кесмаларнинг йўналишини эътиборга олсак,  $\triangle AA_1C$  ҳамда  $BB_1$  кесувчи учун  $(AG : GA_1) (A_1B_1 : B_1C) = -1$  бўлиб ҳамда  $\triangle BB_1C$  ва  $AA_1$  учун ҳам  $\vec{BG} \cdot \vec{B_1A_1} = -\vec{GB_1} \cdot \vec{A_1C}$  деб ёза ола-



59- расм.

миз. Ҳосил қилинган натижалардан  $\frac{AG}{GA_1} = \frac{CB_1}{A_1B_1}$  (1),  $\frac{BG}{GB_1} = \frac{A_1C}{A_1B_1}$  (2) бўлади. (1) ва (2) ни ҳадлаб қўшсак, у ҳолда

$$\frac{AG}{GA_1} + \frac{BG}{GB_1} = \frac{CB_1}{A_1B_1} + \frac{A_1C}{A_1B_1} = \frac{A_1C + CB_1}{A_1B_1} = \frac{A_1B_1}{A_1B_1} = 1$$

бўлади. Демак,  $AG:GA_1 + BG:GB_1 = 1$  бўлар экан.

Юқорида келтирилган маълумотларга таяниб, қуйидаги масалаларни ечинг:

1. Учбурчакнинг томонлари 13, 20 ва 21 см. Катта бурчакнинг биссектрисасига параллел қилиб ўтказилган тўғри чизиқ учбурчакни икки тенгдош бўлакка бўлади. Учбурчакнинг катта томонидан бу тўғри чизиқ билан ажратилган кесмаларнинг узунликларини топинг.

2. Учбурчакнинг асосини  $m:n$  нисбатда бўлувчи  $D$  нуқтадан унинг бошқа икки томонига параллел қилиб тўғри чизиқлар ўтказилган. Учбурчакнинг юзи  $S$  бўлса, учбурчакдан ажратилган бўлақларнинг юзларини топинг.

3.  $ABC$  учбурчакнинг  $AB$  томонидаги  $K$  нуқтадан  $AC$  томонга параллел  $KP$  ва  $CB$  томонга параллел  $KN$  тўғри чизиқлар ўтказилиб, улар  $AC$  ва  $CB$  томонлар билан кесишгунча давом эттирилган. Натижада  $ND$  тўғри чизиқ  $AB$  га параллел бўлган. Агар  $ABC$  нинг томонлари 13, 14 ва 15 бўлса,  $KNP$  нинг юзини топинг.


4.  $ABC$  учбурчакнинг  $BC$  асосида  $P$  нуқта олинган. Агар  $AB^2 + AC^2 = 2AP^2 + BP^2 + CP^2$  бўлса,  $P$  нуқтанинг ҳолатини аниқланг.

5. Учбурчак ичида олинган  $P$  нуқтадан унинг ўч томонига параллел тўғри чизиқлар ўтказилган. Учбурчак томон-

ларининг бу параллеллар орасида қолган кесмалари ўзаро тенг. Параллелларнинг узунликларини топинг.

## 2-§. Кесманинг гармоник бўлинмаси

Геометрияда учбурчакнинг трансверсали тушунчаси бевосита кесманинг гармоник бўлинмаси билан боғлиқдир. Берилган бирор (60-расм) тўғри чизиқда  $AB$  кесмани қарайлик ва  $AB$  кесма ичида бирор  $C$  нуқта олиб,  $AC:BC$  нисбатни қараймиз. Агар бу нисбатга йўналиш тушунчасини тадбиқ қилсак, у



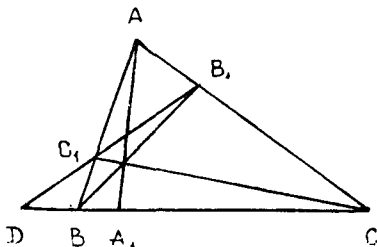
60-расм.

ҳолда  $AC:BC = -k$  эканига ишонч ҳосил қиламиз. Энди  $AB$  кесма давомида шундай  $D$  нуқтани ҳосил қилиш мумкинки, у  $AD:BD = k$  муносабатни қаноатлантиради.

12-таъриф. Агар қаралаётган тўғри чизиқда олинган  $AB$  кесмани  $C$  ва  $D$  нуқталар  $AC:BC = -(AD:BD)$  ёки  $(ABC):(ABD) = -1$  нисбатда бўлса, у ҳолда  $AB$  кесма  $C$  ва  $D$  нуқталар билан **гармоник бўлинган** дейилади.  $C$  ва  $D$  нуқталар  $A$  ва  $B$  нуқталарга нисбатан **қуш нуқталар** дейилади. Агар  $(ABCD) = -1$  бўлса,  $A, B, C, D$  нуқталар **гармоник жойлашган** дейилади ва  $A, B \div C, D$  ёки  $AB \overset{h}{-} CD$  кўринишларда белгиланади.

Нуқталарнинг гармоник тўртлиги қуйидаги хоссаларга эга:

- 1)  $AB \overset{h}{-} CD \Rightarrow CD \overset{h}{-} AB$   $df_{1,2}$  га асосан ҳосил бўлади;
- 2) агар  $A, B, C, D$  гармоник нуқталар  $AB \overset{h}{-} CD$  бўлса, у ҳолда  $(BACD) = (ABDC) = (CDAB) = (DCAB) = (CDBA) = (DCBA) = -1$  бўлади.



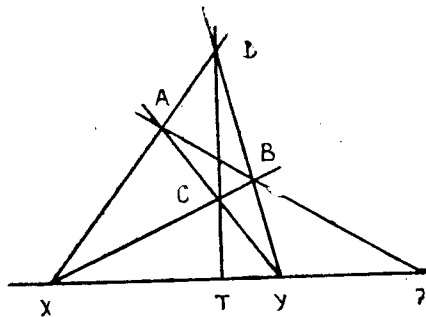
61-расм.

**47-теорема.** Учбурчак  $ABC$  нинг икки учидан чиқувчи чевианлар асосларини туташтирувчи тўғри чизиқ ва учинчи учдан чиқувчи чевиан шу уч қаршисидаги тасмонни гармоник бўлади (61-расм).

Исботи. Учбурчак  $ABC$  нинг учларидан  $AA_1, BB_1, CC_1$  чевианларни



ўтказамиз. Улар  $T_4$  га асосан бир нуқтада кесилади.  $T_{47}$  га асосан  $B_1$  ва  $C_1$  нуқталарни туташтириб, давом эттирсак, у  $BC$  нинг давомини  $D$  нуқтада кесиб ўтади.  $T_7$  га асосан  $(ACB_1)(BAC_1)(CBA_1) = -1$  ва  $T_4$  га асосан  $(ACB_1)(BAC_1)(CBD) = 1$  бўлади. Ҳосил қилинган натижаларни ҳадлаб бўлсак, у ҳолда  $(CBA_1) : (CBD) =$

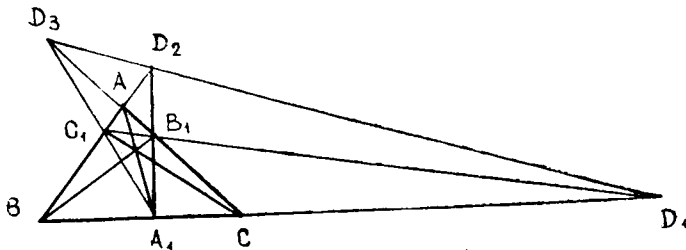


62- расм.

$= -1$  бўлади.  $df_{12}$  га асосан ҳосил қилинган нуқталар гармоник жойлашади. Шу билан  $T_{47}$  исбот қилинди.

**1- масала.** Берилган  $X, Y$  ва  $Z$  нуқталарга гармоник бўлган  $T$  нуқтани топинг.

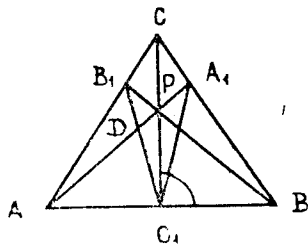
**Ечиш.** Бунинг учун бирор тўғри чизиқда  $(XYZ) = k > 0$  бўлган  $X, Y, Z$  нуқталарни ясаймиз. Сўнгра  $X$  нуқта орқали (62- расм) иккита ихтиёрий тўғри чизиқ ва  $Z$  нуқта орқали битта тўғри чизиқ ўтказамиз. Бу тўғри чизиқлар мос ҳолда  $A, B$  нуқталарда кесишади. Сўнгра  $A$  нуқтани  $Y$  билан ҳамда  $B$  нуқтани  $Y$  билан туташтирувчи тўғри чизиқларни ўтказсак, у ҳолда бу тўғри чизиқлар  $XB$  ни  $C$  нуқтада,  $XA$  ни  $D$  нуқтада кесиб ўтади. Бу топилган  $C$  ва  $D$  нуқтадан ўтувчи тўғри чизиқ  $XZ$  ни  $T$  нуқтада кесиб ўтиб,  $T_4$  га асосан  $(XUT) = -k$  бўлади.  $T_{47}$  га асосан  $(XYZ) : (XUT) = -1$  экани келиб чиқади. Шу билан масала ҳал бўлди.



63- расм.

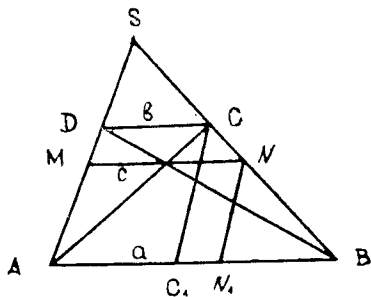
**48-теорема.** Агар учбурчак  $ABC$  да чевиан асосларидаги нуқта ва қолган икки нуқтасини туташтирувчи тўғри чизиқ билан учбурчак томонининг давомида ҳосил қилган нуқта мос томон учларидаги нуқталарга нисбатан гармоник қўш нуқталар бўлса, у ҳолда улар бир тўғри чизиқда ётади.

Исботи.  $T_{48}$  нинг шартига кўра  $AA_1, BB_1, CC_1$  чевианлар эканига асосан ҳамда  $T_{47}$  га ва юқорида келтирилган масалага асосан (63-расм)  $CA \overset{h}{-} B_1D_3$  ва  $BA \overset{h}{-} C_1D_2, BC \overset{h}{-} A_1D_1$  эканини эътиборга олсак, у ҳолда  $(ABD_2)(BCD_1)(CAD_3) = 1$  эканидан  $D_1, D_2, D_3$  нуқталарнинг бир тўғри чизиқда ётиши келиб чиқади. Шу билан  $T_{48}$  исбот қилинди.



64-расм.

$AP \overset{h}{-} DA_1$  бўлади. У ҳолда  $(C_1A, C_1P) \overset{h}{-} (C_1D, C_1A_1)$  бўлади. Агар гармоник тўртликдаги икки қўш тўғри чизиқ перпендикуляр бўлса, улар қолган иккитасига симметрия ўқлари бўладилар. Демак,  $C_1P$  нур  $B_1C_1A_1$  бурчак биссектрисаси бўлади.



65-расм.

**2-масала.** Учбурчак  $ABC$  нинг  $CC_1$  баландлигида олинган  $P$  нуқта орқали ўтган  $AP, BP$  тўғри чизиқлар  $BC$  ва  $AC$  томонларни мос ҳолда  $A_1$  ва  $B_1$  нуқталарда кесиб ўтса, у ҳолда  $PC_1$  нур бурчак  $A_1C_1B_1$  нинг биссектрисаси эканини исботланг.

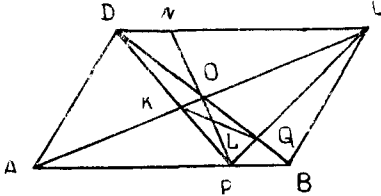
Исботи. Масала шартига кўра ҳосил бўлган  $BCB_1C_1$  (64-расм) тўртбурчакни қараймиз. Агар  $AA_1$  тўғри чизиқ  $B_1C_1$  ни  $D$  нуқтада кесиб ўтса, у ҳолда

**3-масала.** Асослари  $a$  ва  $b$  ( $a > b$ ) бўлган  $ABCD$  трапециянинг диагоналлари кесишиш нуқтаси орқали асосларига параллел қилиб  $MN = c$  ўтказилган бўлса,  $\frac{1}{c} = \frac{1}{2} \left( \frac{1}{a} + \frac{1}{b} \right)$  бўлишини исботланг.

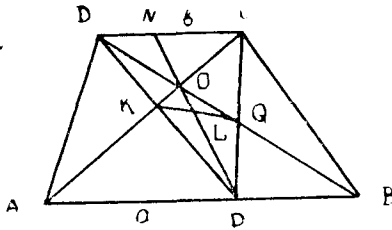
Исботи.  $ABCD$  трапецияни  $SAB$  учбурчакка

(65-расм) тўлдираимиз, сўнгра  $C$  ва  $N$  нуқталар орқали  $AD$  ён томонига параллел  $CC_1$  ва  $NN_1$  ларни ўтказамиз. Натижада  $T_{47}$  ва  $T_{48}$  га асосан  $SN \overset{h}{\perp} BC$  дан  $AN_1 \overset{h}{\perp} C_1B$  бўлиб, гармоник тўртликка асосан  $\frac{1}{AN_1} = \frac{1}{2} \left( \frac{1}{AC_1} + \frac{1}{AB} \right)$  ни ҳосил қиламиз, бундан  $\frac{1}{c} = \frac{1}{2} \left( \frac{1}{a} + \frac{1}{b} \right)$  бўлади.

**4-масала.**  $ABCD$  параллелограммнинг  $AB$  томонида ихтиёрий  $P$  нуқта берилган бўлиб,  $PD$  ва  $PC$  лар унинг диагоналлари ни мос ҳолда (66-расм)  $K$  ва  $Q$  нуқталарда кесди.  $S_{\Delta K PQ} = 2S_{\Delta K O Q}$  эканини исботланг ( $O$  диагоналлار кесишиш нуқтаси).



66-расм.



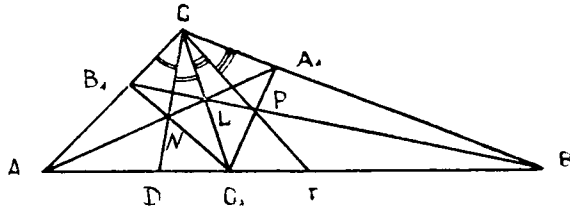
67-расм.

**Исботи.** Масаланинг шартига кўра  $PO$  кесма  $KQ$  ни  $L$  нуқтада,  $DC$  ни  $N$  нуқтада кесиб ўтади.  $T_{47}$  ва  $df12$  га асосан  $PO \overset{h}{\perp} LN$  ёки  $\frac{PL}{LO} = \frac{PN}{ON} = 2$  бўлиб,  $PL = 2LO$  дан бевосита  $S_{\Delta K PQ} = 2S_{\Delta K O Q}$  келиб чиқади.

**5-масала.** Асослари  $a$  ва  $b$  ( $a > b$ ) бўлган  $ABCD$  трапециянинг  $AB$  томонида ихтиёрий  $P$  нуқта берилган бўлиб,  $PD$  ва  $PC$  тўғри чизиқлари унинг диагоналлари ни (67-расм)  $K$  ва  $Q$  нуқталарда кесди. Агар диагоналлار кесишиш нуқтаси  $O$  бўлса,  $S_{P Q K} = \frac{a+b}{b} S_{K O Q}$  эканини исботланг.

**Исботи.** Агар  $PO$  кесма  $KQ$  ни  $L$  нуқтада,  $DC$  ни  $N$  нуқтада кесиб ўтса, 4-масалага асосан  $PO \overset{h}{\perp} LN$ ,  $\frac{PL}{LO} = \frac{PN}{ON} = \frac{a+b}{b}$  бўлиб, бундан  $S_{P Q K} = \frac{a+b}{b} S_{K O Q}$ .

**6-масала.** Берилган учбурчакда  $A_1, B_1, C_1$  нуқталар  $ABC$  учбурчак биссектрисаларининг асослари ва  $\angle A_1 C_1 B_1 = 90^\circ$ .  $C$  бурчакни топинг.



68-расм.

Ечиш. Учбурчак  $ABC$  да  $AA_1$  биссектриса (68-расм)  $B_1C_1$  ва  $CC_1$  ни мос ҳолда  $N$  ва  $L$  нуқталарда кесиб ўтсин.  $T_{17}, T_{18}, df12$  га ва  $AL \perp NA_1$  га асосан  $(C_1A, C_1L) \perp (C_1N, C_1A_1)$  бўлади.  $B_1C_1 \perp C_1A_1$  эканлигидан  $C_1B_1$  тўғри чизиқ  $AC_1C$  бурчакнинг,  $C_1A_1$  эса  $BC_1C$  бурчакнинг биссектрисаси эканлиги,  $CN$  эса  $ACC_1$  бурчакнинг,  $CP$  эса  $C_1CB$  бурчакнинг биссектрисаси экани келиб чиқади.  $AL \perp NA_1$  га асосан,  $CN$  эса  $ACL$  нинг биссектрисалигига асосан  $\angle NCB = 90^\circ$ . Худди шунга ўхшаш  $\angle ACP = 90^\circ$  бўлиб, булардан  $\angle ACN = \angle NCL = \angle LCP = \angle PCB = 30^\circ$  бўлиб,  $\angle C = 120^\circ$  бўлади.

Қуйидаги масалаларни ечинг:

1. Учбурчак  $ABC$  нинг  $C$  учидан чиққан  $CC_1$  баландлик ва  $CN$  медиана шу бурчакни тенг уч бўлакка бўлса, у ҳолда  $\angle C = 90^\circ$  эканини исботланг.

2.  $ABCD$  параллелограммнинг  $BC$  тўғри чизиғида ўзаро тенг  $BK$  ва  $CN$  векторлар қўйилган. Агар  $AQ$  ва  $AN$  тўғри чизиқлари  $CD$  тўғри чизиқни  $R$  ва  $P$  нуқталарда кесиб ўтса,  $DP^2 = PC \cdot PR$  эканини исботланг.

3. Берилган  $ABCD$  тўртбурчакнинг  $D$  учи хосмас нуқта бўлса, у ҳолда бу тўртбурчакнинг диагоналлари кесишган нуқтани топинг.

4. Агар айлана диаметри  $AB$  учун  $AB \perp CD$  бўлса, у ҳолда шу айланада ётувчи ихтиёрий  $P$  нуқта учун  $PC : PD$  ўзгармас эканини исботланг.

5. Берилган айлана диаметрига перпендикуляр бўлган ва тар учларини айлананинг ихтиёрий нуқтаси билан туташтирувчи тўғри чизиқлар диаметрни гармоник бўлишини исботланг.

6. Агар  $AB$  кесмани  $C_1$  нуқта  $AC_1 : C_1B_1 = k$  нисбатда

бўлса, у ҳолда шу  $AB$  кесмани  $k^2, k^4, \dots, k^{2n}$  нисбатларда бўлувчи нуқталарни топинг.

7. Берилган  $a$  тўғри чизиқда  $A$  ва  $B$  нуқталар берилган бўлса,  $PP_1 = s$  масофага эга бўлган ва  $AB$  ни гармоник бўлувчи  $P$  ва  $P_1$  нуқталарни топинг.

8. Агар  $A, B, C, D$  нуқталар айланадаги гармоник тўртлик бўлиб,  $P$  ихтиёрий нуқта бўлса, у ҳолда  $(PA, PB) \stackrel{h}{=} (PD, PC)$  бўлишини исботланг.

### 3-§. Эйлер айланаси ва учбурчакдаги муҳим нуқталар орасидаги масофа

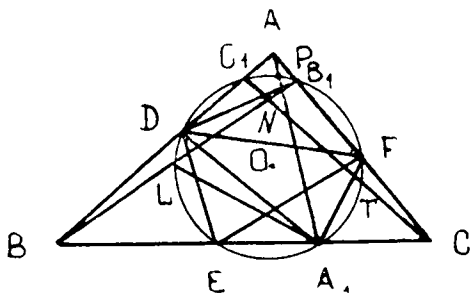
Юқорида учбурчак баландликларининг кесишиш нуқтасини ортомарказ деб қабул қилган эдик.

13-таъриф. Учбурчак ортомарказидан унинг учигача бўлган масофаларнинг ўрталари **Эйлер нуқталари** дейилади.

**49-теорема.** Берилган учбурчакда медиана, баландлик асослари ва Эйлер нуқталари биргина айланада ётади.

Исботи. Учбурчак  $ABC$  да  $D, E, F$  нуқталар унинг томонларининг ўрталари бўлсин.  $AA_1, BB_1, CC_1$  учбурчак баландликлари бўлиб,  $H$  уларнинг кесишган нуқтаси — ортомаркази бўлсин. Энди  $D, E, F$  нуқталардан ўтувчи айлана чизамиз (69-расм) ва  $A, L$  нуқталарнинг ( $L$  нуқта  $BH$  нинг ўртаси) шу айланада ётишини кўрсатамиз. Ҳақиқатан ҳам,  $DA_1$  учбурчак  $BA_1A$  нинг медианаси ва  $\angle BA_1A = 90^\circ$  бўлгани учун  $DA_1 = \frac{AB}{2} = EF$  эканидан  $DA_1 = EF$  бўлади.

Шундай қилиб,  $DEA_1F$  тенг ёнли трапеция бўлгани учун  $A_1$  нуқтанинг ҳам шу айланада ётиши келиб чиқади. Энди  $L$



69-расм.

нуқтани  $D$  билан туташтирамиз, натижада  $DL \parallel AA_1$  ва  $DF \parallel BC$  бўлганлиги ҳамда  $AA_1 \perp BC$  га асосан  $\angle LDF = 90^\circ$ ,  $LE \parallel CH$  га асосан  $\angle LEF = 90^\circ$  бўлади. Шундай қилиб,  $\angle LDF + \angle LEF = 180^\circ$  ва  $\angle DLE + \angle DFE = 180^\circ$  эканидан  $L$  нуқта ҳам шу айланада ётади. Худди шундай қолган  $P, B_1, C_1, T$  нуқталарнинг ҳам шу айланада ётишини кўрсатиш мумкин. Бу тўғрисида  $A_1, T, F, B_1, P, C_1, D, L, E$  нуқтадан ўтувчи айлана **Эйлер айланаси** дейилади, бу ўзининг масалалар ечишда муҳимлиги билан ажралиб туради.

**17-натижа.** Эйлер айланасининг маркази учбурчак  $ABC$  га ташқи чизилган айлана маркази билан ортомарказ орасидаги масофанинг ўртасига жойлашган бўлади.

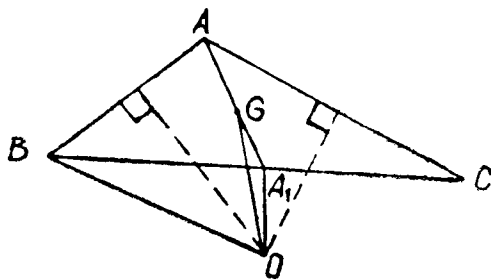
**18-натижа.** Эйлер айланасининг радиуси учбурчак  $ABC$  га ташқи чизилган айлана радиусининг ярмига тенгдир.

**19-натижа.** Учбурчак  $ABC$  нинг  $A$  учидан унинг ортомарказигача бўлган масофа шу учбурчакка ташқи чизилган айлана марказидан  $a$  томонгача бўлган масофанинг икки баробарига тенгдир.

**14-таъриф.** Учбурчак  $ABC$  нинг ортомаркази ва унга ташқи чизилган айлана маркази орқали ўтувчи тўғри чизиқ **Эйлер тўғри чизиғи** дейилади.

**1-масала.** Учбурчак  $ABC$  нинг оғирлик маркази билан ташқи чизилган айлана маркази орасидаги масофа  $d = \sqrt{R^2 - (a^2 + b^2 + c^2) : 9}$  эканини исботланг.

\* **Исботи.** Ташқи чизилган айлана маркази учбурчак томонларининг ўрта перпендикулярлари кесишган нуқтаси бўлгани учун (70-расм)  $AA_1$  медиана ўтказамиз, сўнгра  $G$  оғирлик марказини аниқлаймиз.  $OA_1$  эса ташқи чизилган айлана марказидан  $BC$  томонигача бўлган масофа ва  $OA_1 = R$ ;  $BC = a$  эканига асосан  $BA_1 = \frac{a}{2}$  дан



70-расм.

$$OA_1 = \sqrt{R^2 - \frac{a^2}{4}} = \frac{1}{2} \sqrt{4R^2 - a^2} \text{ бўлиб, } AA_1 = \frac{1}{2} \sqrt{2b^2 + 2c^2 - a^2}$$

эканлигини биламиз.  $OG = d$  эканини эътиборга олиб,  $T_{10}$  га асосан

$$OA^2 \cdot GA_1 + OA_1^2 \cdot AG - OG^2 \cdot AA_1 = AG \cdot CA_1 \cdot A_1A; \quad AG = 2A_1G$$

бўлгани учун  $AG = \frac{2}{3}AA_1$ ;  $GA_1 = \frac{1}{3}AA_1$  дан

$$a^2 = \frac{R^2}{3} + \frac{4R^2 - a^2}{6} - \frac{2(b^2 + c^2) - a^2}{18} = R^2 - \frac{1}{9}(a^2 + b^2 + c^2)$$

бўлиб,  $d = \frac{1}{3} \sqrt{9R^2 - (a^2 + b^2 + c^2)}$  ҳосил бўлади.

**20- натижа.** Ҳар қандай учбурчакда  $9R^2 \geq a^2 + b^2 + c^2$  бўлади.

**21- натижа.** Ҳар қандай учбурчакда (69-расм)  $LE \parallel CC_1$  ва  $LF$  Эйлер айланаси марказидан ўтади.

**2- масала.** Эйлер айланасининг маркази  $O_9$  ва учбурчак оғирлик маркази орасидаги масофа  $\frac{1}{6} \sqrt{9R^2 - (a^2 + b^2 + c^2)}$  га, ташқи чизилган айлана маркази билан ортомарказ орасидаги масофа  $\sqrt{9R^2 - a^2 - b^2 - c^2}$  га тенг эканини исботланг.

Исботи.  $T_{49}$  га асосан  $OG = 2O_9G$  экани ва 1-масала

га асосан  $OG = \frac{1}{3} \sqrt{9R^2 - (a^2 + b^2 + c^2)}$  бўлгани учун

$O_9G = \frac{1}{6} \sqrt{9R^2 - a^2 - b^2 - c^2}$  бўлади.

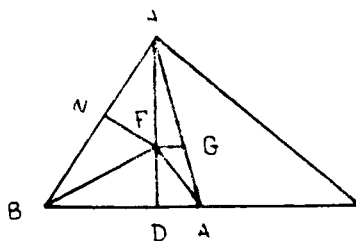
Демак,  $T_{49}$  га асосан  $HG = 2GO$  эканидан  $\frac{HG}{GO} = 2 \Leftrightarrow \frac{HG}{GO} +$

$$+1 = 3 \Leftrightarrow \frac{HG+GO}{GO} = \frac{HO}{GO} =$$

$$= 3 \Rightarrow HO = 3GO$$

бўлади. Шу билан масала ҳал қилинди.

**3- масала.** Учбурчак  $ABC$  нинг оғирлик марказидан унга ички чизилган айлана марказигача бўлган масофа



71- расм.

$\frac{1}{3} \cdot \sqrt{9r^2 - 3p^2 + 2(a^2 + b^2 + c^2)}$  га тенглигини исботланг.

Исботи. Учбурчак  $ABC$  да  $F$  ички чизилган айлана маркази ёки унинг биссектрисаларининг кесишган нуқтаси (71-расм).  $AA_1$  медиана бўлгани учун  $AA_1 = \frac{1}{2} \sqrt{2(b^2 + c^2) - a^2}$ ;

$DA_1 = \frac{a}{2} - (p - b) = \frac{b - c}{2}$ ,  $FDA_1$  тўғри бурчакли учбурчакдан  $FA_1 = \sqrt{r^2 + DA_1^2} = \sqrt{r^2 + \frac{(b - c)^2}{4}} = \frac{1}{2} \sqrt{4r^2 + (b - c)^2}$

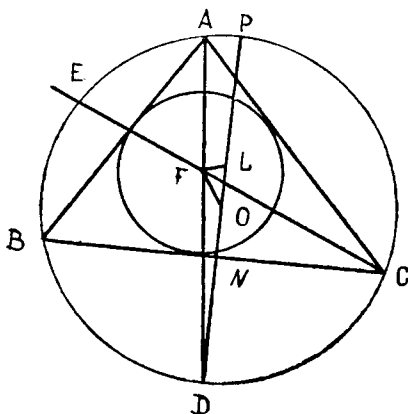
бўлиб,  $FA = \sqrt{r^2 + (p - a)^2}$  бўлади. Учбурчак медианасининг хоссаси ва  $T_{16}$  га асосан

$FA^2 \cdot GA_1 + FA_1^2 \cdot AG - FG^2 \cdot AA_1 = AG \cdot GA_1 \cdot AA_1$  бўлади ва

$$\begin{aligned} FG^2 = d^2 &= \frac{FA^2 \cdot GA_1}{AA_1} + \frac{FA_1^2 \cdot AG}{AA_1} - AG \cdot GA_1 = \frac{r^2 + (p - a)^2}{3} + \\ &+ \frac{4r^2 + (b - c)^2}{6} - \frac{AA_1}{2} \frac{AA_1}{2(b^2 + c^2) - a^2} = r^2 + \\ &+ \frac{6p^2 - 12ap + 6a^2 + 3b^2 + 3c^2 - 6bc}{18} - \frac{2(b^2 + c^2) - a^2}{18} = r^2 + \\ &+ \frac{6p^2 - 12p^2 + 4(a^2 + b^2 + c^2)}{18} = \frac{9r^2 - 3p^2 + 2(a^2 + b^2 + c^2)}{9}; \end{aligned}$$

$FG = \frac{1}{3} \sqrt{9r^2 - 3p^2 + 2(a^2 + b^2 + c^2)}$  дан иборат бўлади.

Шу билан масала ҳал қилинди.



72-расм.

**50-Эйлер теорема** си. Агар учбурчак  $ABC$  да  $R$  — ташқи,  $r$  — ички чизилган айлана радиуслари бўлса, у ҳолда улар марказлари орасидаги масофа  $\sqrt{R^2 - 2Rr}$  га тенг бўлади.

Исботи. Учбурчак  $ABC$  да  $R$  — ташқи чизилган,  $r$  — ички чизилган айлана радиуслари ва  $F$  ички,  $O$  ташқи чизилган айлана марказлари бўлсин (72-расм).  $AD$  ва  $CE$  биссектрисалар-



нинг давомлари  $l(R; O)$  айланани  $D$  ва  $E$  нуқталарда кесади. Энди  $D$  нуқтадан  $BC$  томонга перпендикуляр  $DP$  диаметрни ўтказамиз, сўнгра  $FL \perp DP$  туширамиз, натижада  $\angle DFC =$

$$= \frac{\sphericalangle DC + \sphericalangle AE}{2}, \text{ бу ерда}$$

$$\sphericalangle AE = \sphericalangle EB \text{ ва } \sphericalangle DC = \sphericalangle BD \text{ эканига асосан}$$

$$\angle DFC = \frac{\sphericalangle DC + \sphericalangle AE}{2} =$$

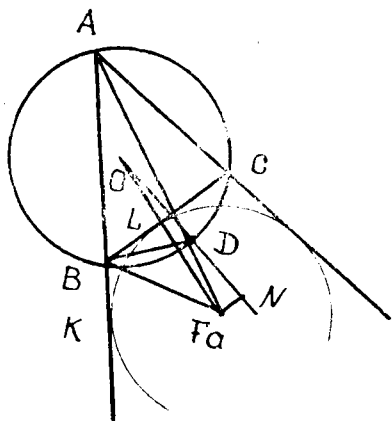
$$= \frac{\sphericalangle BD + \sphericalangle BE}{2} = \frac{\sphericalangle DE}{2},$$

бундан  $\angle DCF = \frac{\sphericalangle DE}{2}$  бўлиб,  $\angle DFC = \angle FCD$  эканидан

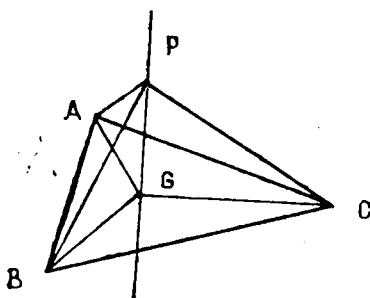
$FD = DE$  бўлади. Демак, учбурчак  $FDC$  тенг ёнли бўлади. Энди учбурчак  $DFO$  га  $T_{11}$  ни қўлласак, у ҳолда  $FO^2 = d^2 = OD^2 + DF^2 - 2OD \cdot DF = R^2 + DF^2 - 2R \cdot DF = R^2 + 2RDN - 2R \cdot DL = R^2 - 2R(DL - DN) = R^2 - 2Rr$  бўлиб,  $FO = d = \sqrt{R^2 - 2Rr}$  бўлади. Шу билан  $T_{50}$  исботланди.

**4-масала.** Учбурчак  $ABC$  га ташқи чизилган  $l(R; O)$  айлана марказидан унинг  $a = BC$  томонига уринувчи ташқи-ички чизилган  $l_1(r_a; F_a)$  айлана марказлари орасидаги масофа  $d_a = \sqrt{R^2 + 2Rr_a}$  эканини исботланг.

**Исботи.** Учбурчак  $ABC$  га ташқи  $l(R; O)$  айланами чизамиз (73-расм) ва  $BC$  томонига ташқи-ички уринувчи  $l_1(r_a; F_a)$  айланани чизамиз.  $F_a$  эса  $B$  ва  $C$  бурчаклар ташқи бурчаги биссектрисаларининг кесишиш нуқтаси. Натижада  $O$  ва  $F_a$  нуқталарни ҳамда  $A$  ва  $F_a$  нуқталарни туташтирсак, у ҳолда учбурчак  $ABF_a$  да  $\angle BF_aD = \angle KBF_a - \angle KAF_a$ ;  $\angle DBF_a = \angle F_aBC - \angle CBD$  бўлади. Бу ерда  $AF_a, BF_a$  лар мос ҳолда  $\angle KAC$  ва  $\angle KBC$  бурчакларнинг биссектрисалари эканлигига асосан  $\angle KAF_a = \angle F_aAC = \angle CBD$  эканидан  $\angle KBF_a = \angle F_aBC$  ва  $\angle DBF_a = \angle BF_aD$  бўлиб, учбурчак  $BDF_a$  тенг ёнли ( $BD = F_aD$ ) экани келиб чиқади. Энди  $ON \perp BC$  ни ўтказиб,  $F_a$  нуқтадан  $ON$  га  $ON \perp F_aN$  туширамиз, натижада учбурчак  $OF_aD$  да  $\angle ODF_c$  ўтмас бўлгани учун



73-расм.



74- расм.

$OF_a^2 = d_a^2 = OD^2 + DF_a^2 + 2OD \cdot DN$ ;  $BD = DF_a$ ;  
 $BD^3 = 2R \cdot LD$  эканидан  $d_a^2 =$   
 $= R^2 + 2R \cdot LD + 2R \cdot DN =$   
 $= R^2 + 2R(LD + ND) =$   
 $= R^2 + 2Rr_a$  экани келиб  
 чиқади. Шу билан масала  
 ҳал бўлди.

**51- Лейбниц теорема-си.** Учбурчак  $ABC$  текислигида ёки унинг ташқарисига олинган нуқтадан учбурчакнинг учларига

гача бўлган масофалар квадратларининг йиғиндиси шу учбурчакнинг оғирлик марказидан учбурчак учларига-ча (74- расм) бўлган масофалар квадратларининг йиғиндисига шу нуқтадан оғирлик марказигача бўлган масофа квадратининг уч баробарини қўшилганига тенг, яъни:

$$PA^2 + PB^2 + PC^2 = GA^2 + GB^2 + GC^2 + 3PG^2.$$

**5- масала.** Учбурчак  $ABC$  текислигида олинган нуқтадан унинг учларига-ча бўлган масофалар квадратлари йиғиндиси энг кичик бўлган нуқтани топинг.

**Е чиш.** Изланаётган нуқта  $P$  бўлсин, у ҳолда  $T_{31}$  га асосан  $PA^2 + PB^2 + PC^2 = GA^2 + GB^2 + GC^2 + 3PG^2 =$   
 $= \frac{4}{9} (m_a^2 + m_b^2 + m_c^2) + 3PG^2 = 3PG^2 + \frac{1}{3} (a^2 + b^2 + c^2)$  бўлади.  $PA^2 + PB^2 + PC^2$  энг кичик бўлиши учун  $P$  нуқта  $G$  билан устма-уст тушиши керак, у ҳолда изланган нуқта оғирлик марказидан иборат экан.

**52- Карно теоремаси.** Ихтиёрий учбурчакка ташқи чизилган айлана марказидан учбурчак томонига-ча бўлган масофалар йиғиндиси шу учбурчакка ички ва ташқи чизилган айланалар радиусларининг йиғиндисига тенг.

**Исботи.** Учбурчак  $ABC$  да  $O$  ташқи чизилган айлана маркази (75- расм),  $OP = t_a$  — учбурчак томонига-ча бўлган масофа (худди шунга ўхшаш  $t_b, t_c$  ларни белгилаймиз) бўлсин, у ҳолда (Птоломей теоремаси)  $T_{II}$  га асосан  $ANOL$  тўртбурчакдан:

$$AO \cdot NL = ON \cdot AL + OL \cdot AN \text{ ёки } R \cdot \frac{a}{2} = t_c \cdot \frac{b}{2} + t_b \cdot \frac{c}{2}. \quad (1)$$

Худди шунга ўхшаш  
 $BNOP$  ва  $CLOP$  лар-  
дан

$$R \cdot \frac{b}{2} = t_a \cdot \frac{c}{2} + t_c \cdot \frac{a}{2}; \quad (2)$$

$$R \cdot \frac{c}{2} = t_b \cdot \frac{a}{2} + t_a \cdot \frac{b}{2}. \quad (3)$$

Топилган (1), (2), (3) ларни ҳадлаб қўшсак,

$$R \left( \frac{a+b+c}{2} \right) = t_a \cdot \frac{b+c}{2} + t_b \cdot \frac{a+c}{2} + t_c \cdot \frac{a+b}{2} \text{ бўлади, бундан}$$

$$R \cdot p = (t_a + t_b + t_c) \cdot p - S = (t_a + t_b + t_c) p - pr \text{ бў-}$$

$$\text{либ } R = t_a + t_b + t_c - r \Leftrightarrow t_a + t_b + t_c = R + r \text{ бўлади.}$$

Шу билан Қарно масаласи ҳал бўлди.

Қуйидаги масалаларни ечинг:

1. Учбурчак  $ABC$  да  $d = OF$  ва  $d_a = OF_a$ ;  $d_b = OF_b$ ;

$$d_c = OF_c \text{ бўлса, } \frac{1}{R^2 - d^2} = \frac{1}{d_a^2 - R^2} + \frac{1}{d_b^2 - R^2} + \frac{1}{d_c^2 - R^2} \text{ бў-}$$

лишини исботланг.

2. Агар учбурчак медианаларининг кесишиш нуқтаси ички чизилган айланада ётса, у ҳолда томонлари орасидаги муносабатни топинг.

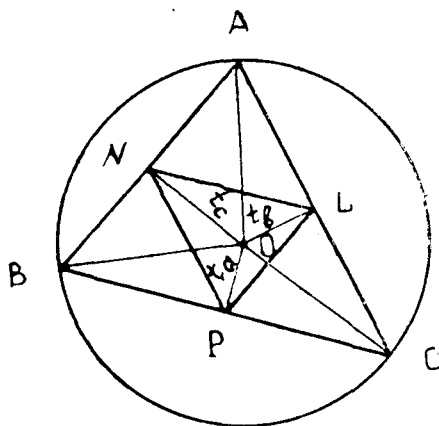
$$3. \text{ Учбурчак } ABC \text{ да } HG = \frac{2}{3} \sqrt{9R^2 - (a^2 + b^2 + c^2)}$$

муносабат ўринли эканини кўрсатинг.

4. Учбурчак  $ABC$  да  $a^2 + HA^2 = b^2 + HB^2 = c^2 + HC^2 = 4R^2$  бўлса,  $HA^2 + HB^2 + HC^2 = 12R^2 - (a^2 + b^2 + c^2)$  эканини кўрсатинг.

$$5. \text{ Ҳар қандай учбурчакда } O_9A^2 + O_9B^2 + O_9C^2 = \frac{1}{4} (3R^2 + a^2 + b^2 + c^2) \text{ бўлишини исботланг.}$$

6. Учбурчак  $ABC$  да  $AH + BH + CH = 2(R + r)$  бўл-



75- расм.

са, у ҳолда  $AH \cdot BH + AH \cdot CH + BH \cdot CH = a^2 + b^2 + c^2 + 4r^2 - 8R^2$  бўлади. Шунини исботланг.

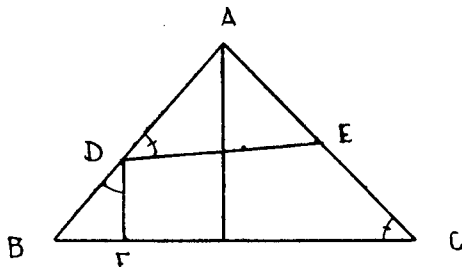
7. Ҳар қандай учбурчакда  $d^2 + d_a^2 + d_b^2 + d_c^2 = 12R^2$  бўлади. Шунини исботланг.

8. Учбурчак  $ABC$  учун  $a(b-c) = (r_b - r_c)(4R - r_b - r_c)$  бўлишини исботланг.

#### IV боб. УЧБУРЧАККА ИЧКИ ВА ТАШҚИ ЧИЗИЛГАН УЧБУРЧАКЛАР, УЧБУРЧАКЛАРДАГИ АСОСИЙ МУНОСАБАТЛАР

1-§. Учбурчакда антипараллеллар. Ортомарказ ва тангенциал учбурчаклар. Учбурчакнинг изогонал тўғри чизиғи ва изотомик нуқтаси

15- таъриф. Агар учбурчак  $ABC$  нинг  $AB$  томонида ихтиёрий  $D$  нуқта олиб,  $\angle ADE = \angle C$  шарти бўйича  $DE$  ўтказилса, у ҳолда  $DE$  чизиғи  $BC$  томонига **антипараллел** деб айтилади (76-расм).



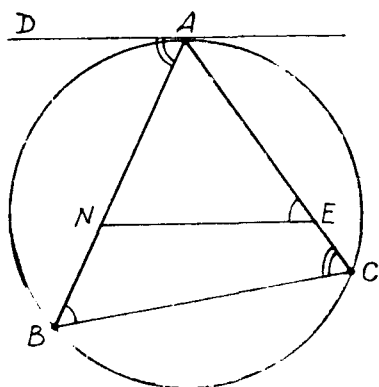
76-расм.

Маълумки, шу олинган ихтиёрий  $D$  нуқта орқали ўтган  $DE$  тўғри чизиқ учбурчак  $ABC$  нинг  $BC$  томонига антипараллел бўлса,  $DF$  эса  $AC$  томонига антипараллел бўлади. Худди шунга ўхшаш тўғри бурчакли учбурчакнинг гипотенузасида олинган ихтиёрий нуқтадан перпендикуляр ўтказилса, у шу учбурчакнинг катетларига антипараллел бўлади.

**53- теорема.** Учбурчак  $ABC$  нинг икки учидан ўтувчи айлана унинг томонларини  $N$  ва  $E$  нуқталарда кесиб ўтса (77-расм), у ҳолда  $NE$  кесма учинчи томонига антипараллел бўлади.

**Исботи.**  $T_{53}$  нинг шартига кўра учбурчак  $ABC$  нинг  $B$  ва  $C$  учларидан ўтувчи айлана чизамиз. У ҳолда бу айлана уч

бурчакнинг  $AB$  томонини  $N$  нуқтада,  $AC$  ни  $E$  нуқтада кесиб ўтади. Натижада  $BNEC$  тўртбурчакка ташқи айлана чизиш мумкинлигига асосан  $\angle NBC + \angle NEC = 2d$ ,  $\angle CEN + \angle NEA = 2d$  бўлиб,  $\angle NEA = \angle B$  бўлади.  $df$  15 га асосан  $NE$  антипараллел  $BC$  экани келиб чиқади. Шу билан  $T_{53}$  исботланди.



77- расм.

**1- масала.** Учбурчак  $ABC$  га ташқи чизилган айлананинг  $A$  нуқтасига ўтказилган уринма шу учбурчакнинг  $BC$  томонига антипараллел бўлишини исботланг.

**Исботи.** Масала шартига кўра учбурчакнинг  $A$  учидан ташқи чизилган айланага уринма ўтказамиз (77- расм), натижада ҳосил бўлган бурчак

$$\angle DAB = \frac{\sphericalangle AB}{2}$$

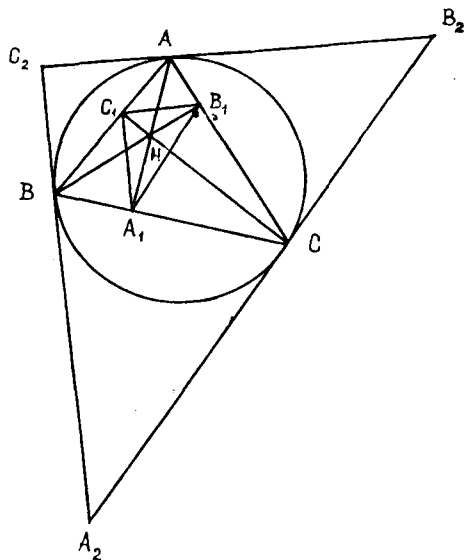
$$\text{бўлади. } \angle C = \frac{\sphericalangle AB}{2}$$

бўлгани учун  $\angle DAB = \angle C$  бўлиб,  $df$  15 га асосан  $AD$  антипараллел  $BC$  бўлади.

**16- таъриф.** Учбурчак  $ABC$  нинг баландликлари асосларини тўғри чизиқ кесмаси билан туташтириш натижасида ҳосил бўлган учбурчакка **ортомарказ учбурчаги** дейилади.

**54- теорема.**

Учбурчак  $ABC$  нинг ортомарказ  $A_1B_1C_1$  учбурчагининг томонлари мос равишда антипараллелдир.



78- расм.

Исботи. Учбурчак  $ABC$  нинг ортомарказ учбурчаги  $A_1B_1C_1$  бўлсин (78-расм), у ҳолда  $\angle AB_1B = \angle AA_1B = \frac{\pi}{2}$  бўлганлиги ва бу бурчаклар қаршисида умумий томон  $AB$  ётганлигини эътиборга олсак, у ҳолда  $AB$  томонни диаметр қилиб чизилган айлана  $A_1$  ва  $B_1$  нуқталарда учбурчак  $ABC$  нинг  $BC$  ва  $AC$  томонларини кесиб ўтади. Натижада  $T_{53}$  га асосан  $A_1B_1$  томон  $AB$  га антипараллел бўлади. Худди шунга ўхшаш қолган томонларнинг ҳам антипараллел эканини кўрсатиш мумкин. Шу билан  $T_{54}$  исбот бўлди.

**55-теорема.** Учбурчак  $ABC$  нинг баландликлари унинг ортомарказ учбурчаги ички бурчагининг биссектрисаси бўлади.

Исботи. Учбурчак  $ABC$  нинг баландликларини ўтказамиз, натижада (78-расм)  $\triangle AA_1B \sim \triangle CC_1B$  дан  $AB:BC = A_1B:C_1B$  бўлади. Ҳақиқатан ҳам,  $T_{53}$  ва  $df_{15}$  га асосан  $\triangle BC_1A_1 \sim \triangle ABC$  бўлганлиги учун  $\angle AA_1C_1 = \frac{\pi}{2} - \angle C_1A_1B = \frac{\pi}{2} - \angle A$ . Худди шунга ўхшаш  $\angle CC_1A_1 = \frac{\pi}{2} - \angle C$ ;  $\angle BB_1A_1 = \frac{\pi}{2} - \angle B$ ;  $\angle CC_1B_1 = \frac{\pi}{2} - \angle C$ ;  $\angle AA_1B_1 = \frac{\pi}{2} - \angle A$ ;  $\angle BB_1C_1 = \frac{\pi}{2} - \angle B$  ларни ёзамиз. Натижада  $\angle AA_1C_1 = \frac{\pi}{2} - \angle A = \angle AA_1B_1 \Rightarrow \angle AA_1C_1 = \angle AA_1B_1$  бўлиб,  $AA_1$  учбурчак баландлиги  $\angle C_1A_1B_1$  нинг биссектрисаси бўлади. Шу билан  $T_{55}$  исботланди.

**17-таъриф.** Учбурчак  $ABC$  га ташқи чизилган айланага  $A$ ,  $B$  ва  $C$  учлардан ўтказилган уринмалар ташкил қилган (78-расм)  $A_2B_2C_2$  учбурчакка **тангенциал учбурчак** дейилади.

**56-теорема.** Ўткир бурчакли  $ABC$  учбурчакнинг юзи унга чизилган ортомарказ ва тангенциал учбурчаклар юзлари орасида ўрта геометрик миқдордир.

Исботи. Учбурчак  $ABC$  нинг томонлари узунликлари  $a$ ,  $b$ ,  $c$  бўлгани учун ортомарказ учбурчак  $A_1B_1C_1$  нинг томонлари узунликларини мос ҳолда  $a_n$ ,  $b_n$ ,  $c_n$  деб белгиласак, у ҳолда тангенциал учбурчакники  $a_t$ ,  $b_t$ ,  $c_t$  бўлади. Бундан (78-расм) учбурчак  $A_2B_2C_2$  нинг юзи  $S_t = S_{\triangle A,OB_2} + S_{\triangle B,OC_2} + S_{\triangle A,OC_2} = \frac{1}{2}Rc_t + \frac{1}{2}Ra_t + \frac{1}{2}Rb_t = Rp_t$

$\left(p_i = \frac{1}{2}(a_i + b_i + c_i)\right)$  ни ҳосил қиламиз. Худди шунга ўхшаш  $S_{\Delta ABC}$  нинг юзи  $S_{\Delta B_1OC_1} + S_{\Delta A_1OB_1C} + S_{\Delta A_1OC_1B}$  га тенг эканидан ва  $AO \perp C_1B_1$  ҳамда  $C_1B_1 \parallel C_2B_2$  эканлигини эътиборга олсак, у ҳолда

$$S_{\Delta ABC} = \frac{1}{2}(R \cdot A_1C_1 + R \cdot A_1B_1 + R \cdot C_1B_1) = R \cdot P_n$$

бўлиб,  $S_i : S = p_i : p_n$  бўлади. Бундан  $S_i : S_n = p_i^2 : p_n^2$  эканига аҳамият берилса,

$$\frac{S_i^2}{S^2} = \frac{p_i^2}{p_n^2} = \frac{S_i}{S_n}$$

бўлиб,  $S^2 = S_i \cdot S_n$  ва  $S = \sqrt{S_i \cdot S_n}$  бўлади. Бу юқорида келтирилган маълумотларга таянган ҳолда

$$2p_n = P_n = \frac{2S}{R} = \frac{2S}{\frac{abc}{4S}} = \frac{8S^2}{abc} \Rightarrow p_n = \frac{4S^2}{abc}$$

эканини ҳосил қиламиз. Шу билан  $T_{\text{бб}}$  исбот қилинди.

**2-масала.** Агар учбурчак  $ABC$  нинг томонлари ва бурчаклари маълум бўлса, у ҳолда  $S_n$  ва  $S_i$  ларни ҳисобланг.

**Ечиш.** Учбурчак  $ABC$  да  $\Delta C_1AB_1$  ва  $\Delta ABC$  эканидан  $\frac{B_1C_1}{BC} = \frac{AC_1}{AC}$  бўлиб,  $\Delta ABC$  да  $AC_1 : AC = \cos A$  ни эътиборга олсак, у ҳолда

$$\frac{a_n}{a} = \cos A \Rightarrow a_n = a \cos A.$$

Худди шунга ўхшаш  $b_n = b \cos B$ ;  $c_n = c \cos C$  ларни ёза оламиз. Бундан

$$S_n = \frac{1}{2} a_n b_n \sin C_1 = \frac{1}{2} ab \cos A \cos B \sin C_1$$

бўлади. Агар  $\sin C_1 = \sin 2C$  бўлишини ҳисобга олсак, у ҳолда

$$S_n = \frac{1}{2} ab \cos A \cos B \sin C_1 = \frac{1}{2} ab \cos A \cos B \sin 2C =$$

$$= ab \cos A \cos B \cos C \sin C = 2S \cos A \cos B \cos C$$

ҳосил бўлади. Бундан  $S_n = 2S \cos A \cos B \cos C$  бўлганидан

$$S_t = \frac{S^2}{S_n} = \frac{S^2}{2S \cos A \cos B \cos C} = \frac{S}{2 \cos A \cos B \cos C}$$

бўлиб,  $S_t : S_n = \frac{1}{4} \sec^2 A \sec^2 B \sec^2 C$  бўлади. Демак,

$$S_n = 2S \cos A \cos B \cos C;$$

$$S_t = \frac{S}{2 \cos A \cos B \cos C}$$

бўлар экан. Шу билан масала ҳал бўлди.

Бу юқоридаги теоремалардан ва 2- масаладан қуйидаги натижа келиб чиқади.

**22- натижа.** Агар  $R_t, R_n$  лар тангенциал ва ортомарказ учбурчакларга ташқи чизилган,  $r_t, r_n$  лар ички чизилган айлана радиуслари бўлса, у ҳолда

$$r_t = R; \quad r_n = 2R \cos A \cos B \cos C,$$

$$R_n = \frac{1}{2} R; \quad R_t = \frac{R}{4} \sec A \sec B \sec C$$

бўлишини исботланг.

Исботи.  $R$  учбурчак  $ABC$  га ташқи чизилган айлана радиуси бўлгани ҳамда 2- масалага кўра:

$$S_t : S_n = \frac{1}{4} \sec^2 A \sec^2 B \sec^2 C = k^2$$

эканлигидан  $r_t : r_n = k$  бўлади.  $r_t = R$ , чунки df 17 га кўра

$$k = \sqrt{\frac{1}{4} \sec^2 A \sec^2 B \sec^2 C} = \frac{1}{2} \sec A \sec B \sec C$$

бўлади. Бундан  $r_n = r_t : k = 2R \cos A \cos B \cos C$  бўлиб,

$$\frac{a_n}{\sin A_1} = \frac{b_n}{\sin B_1} = \frac{c_n}{\sin C} = 2R_n$$

га асосан

$$a_n = 2R_n \sin A_1 = 2R_n \sin 2A = 4R_n \sin A \cos A$$

ёки  $a_n = a \cos A = 2R \sin A \cos A$  эканини эътиборга олсак,

$R_n = \frac{1}{2} R$  ҳосил бўлади. Ҳамда  $\frac{R_t}{R_n} = k$  га кўра  $R_t =$

$= kR_n = \frac{R}{4} \sec A \sec B \sec C$  ҳосил бўлади. Шу билан  $H_{21}$

исбот қилинди.



23- *натижа*. Агар учбурчак  $ABC$  га ички ва ташқи чизилган учбурчаклар томонлари ўзаро параллел бўлса, у ҳолда унинг юзи ички ва ташқи чизилган учбурчаклар юзларининг ўрта геометрик қийматига тенг бўлади.

24- *натижа*. Агар учбурчак  $ABC$  нинг  $B$  ва  $C$  учидан чиқувчи тўғри чизиқлар  $A$  учидан чиқувчи баландликдаги

нуктада кесишса, у ҳолда  $AA_1$  баландлик (79- расм) бурчак  $C_1A_1B_1$  нинг биссектрисаси бўлади.

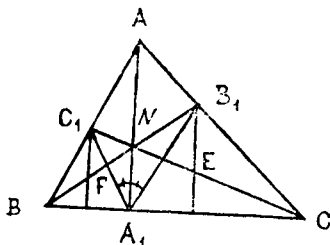
25- *натижа*. Учбурчак  $ABC$  га ички чизилган учбурчаклар ичида ортомарказ учбурчаги энг кичик периметрга эга бўлади. (Бу фикр Фейер исбоги билан машҳурдир.)

26- *натижа*. Учбурчак  $ABC$  нинг учидан ортомарказга бўлган масофанинг квадрати билан шу уч қаршисидаги томон квадратининг йнғиндиси учбурчакка ташқи чизилган айлана диаметрининг квадратига тенгдир.

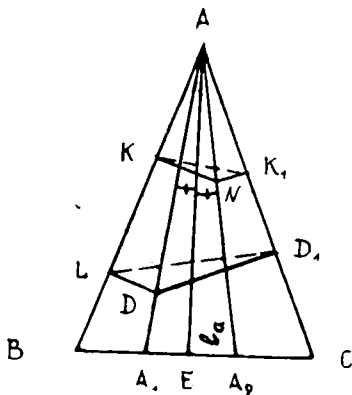
18- *таъриф*. Агар икки тўғри чизиқ учбурчакнинг бирор учидан чиқиб, шу бурчак биссектрисаси билан тенг бўрчаклар ҳосил қилса, у ҳолда бундай тўғри чизиқларга шу учбурчакнинг томонларига *изогонал тўғри чизиқлар* дейилади ёки учбурчак бурчагининг *изогонали* дейилади.

57- *теорема*. Агар  $ABC$  учбурчакнинг *ихтиёрӣ бурчагининг иккита изогонал тўғри чизиғида иккита ихтиёрӣ нукта олинган бўлса, у ҳолда бу нукталардан шу бурчакни ташкил қилувчи бир томонгача бўлган масофалар кўпайтмаси ўзаро тенг бўлади*.

*Исботи*. Учбурчак  $ABC$  нинг  $A$  бурчагининг  $AA_1$ ,  $AA_2$  изогоналлини ўтказамиз ва  $AA_1$  да  $D$  нуктани,  $AA_2$  да  $N$  нуктани олиб, бу нукталардан учбурчакнинг  $AB$  ва  $AC$  томонларига перпендикуляр



79- расм.



80- расм.

туширамиз. Натижада ўхшаш  $\triangle ALD$ ;  $\triangle ANK_1$ ;  $\triangle AKN$ ;  $\triangle ADD_1$  учбурчаклар ҳосил бўлади. Булардан (80- расм)

$$\frac{DL}{NK_1} = \frac{AD}{AN} = \frac{DD_1}{NK},$$

$$\frac{AL}{AK_1} = \frac{AD}{AN} = \frac{AD_1}{AK}$$

ларни ҳосил қиламиз. Натижада  $DL \cdot NK = DD_1 \cdot NK_1$ ;  $AL \cdot AK = AD_1 \cdot AK_1$  ҳосил бўлади. Шу билан  $T_{57}$  исбот қилинди.

$T_{57}$  дан қуйидаги натижаларни ҳосил қилиш мумкин.

27- натижа. Бурчак изогонал тўғри чизигида ётувчи нуқтанинг учбурчак томонларидаги проекциялари битта айланада ётади.

28- натижа. Бурчак изогоналларининг биридаги нуқтани бурчак томонларидаги проекцияси билан туташтирувчи тўғри чизик иккинчи изогоналга перпендикуляр бўлади.

29- натижа. Учбурчак  $ABC$  га ташқи чизилган доиранинг ихтиёрий учи билан тугаштирилган радиуси шу учдан чиқувчи учбурчак баландлигига изогонал бўлади.

**58- Штейнер теоремаси.** Учбурчак  $ABC$  нинг бир учидан чиққан изогоналларнинг асосларигача бўлган узунликлар кўпайтмасининг шу учбурчакнинг иккинчи учидан чиқувчи изогоналлар асосларигача бўлган узунликлар кўпайтмасига нисбати шу учларга ёпишган ён томонлар узунликлари квадратларининг нисбати кабилдир.

Исботи. Учбурчак  $ABC$  да  $AA_1$ ,  $AA_2$  изогоналлар бўлиб,  $\angle BAA_1 = \angle A_2AC$  бўлгани учун

$$\frac{S_{ABA_1}}{S_{A_1AC}} = \frac{AB \cdot AA_1}{AA_2 \cdot AC}$$

ни ёза оламиз (80- расм) ёки

$$S_{ABA_1} : S_{A_1AC} = \frac{BA_1}{A_2C} \Rightarrow \frac{BA_1}{A_2C} = \frac{AB \cdot AA_1}{AA_2 \cdot AC} \quad (1)$$

бўлади. Худди шунга ўхшаш

$$S_{BAA_2} : S_{A_1AC} = \frac{AB \cdot AA_2}{AA_1 \cdot AC}$$

ёки

$$\frac{S_{BAA_2}}{S_{A_1AC}} = \frac{BA_2}{A_1C}$$

бўлиб, бундан

$$\frac{BA_2}{A_1C} = \frac{AB \cdot AA_2}{A_1A \cdot AC} \quad (2)$$

ҳосил бўлади.

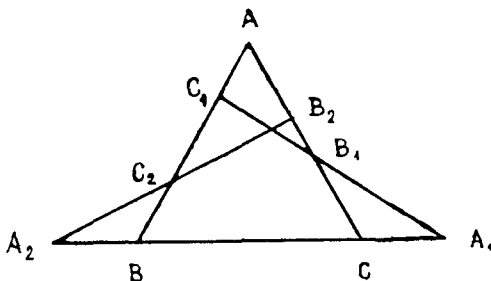
Энди (1) ва (2) ни ҳадлаб кўпайтирсак, у ҳолда

$$\frac{BA_1}{A_2C} \cdot \frac{BA_2}{A_1C} = \frac{AB \cdot AA_1}{AA_2 \cdot AC} \cdot \frac{AB \cdot AA_2}{AA_1 \cdot AC} = \frac{AB^2}{AC^2} = \frac{c^2}{b^2}.$$

Демак,

$$\frac{BA_1}{A_2C} \cdot \frac{BA_2}{A_1C} = \frac{c^2}{b^2}$$

бўлиб,  $T_{59}$  исботланди.



81-расм.

30- натижа. Учбурчак  $ABC$  да  $AB$  ва  $CA$  ларни (80-расм) учбурчак  $A_1AA_2$  учун изогоналлар деб қарасак, у ҳолда  $(A_1A_2B) \times (A_1A_2C) = AA_1^2 : AA_2^2$  бўлади.

19- таъриф. Агар икки нуқта учбурчак томонининг ўртасидан бир хил узоқлашган бўлса, у ҳолда бундай нуқталар **изотомик нуқталар**, агар бу нуқталарни шу томон қаршисидаги уч билан туташтирилган бўлса, бундай тўғри чизиқлар **изотомик тўғри чизиқлар** дейилади.

59- теорема. Агар учбурчак  $ABC$  нинг трансверсали унинг томонларини (81-расм),  $C_1, A_1, B_1$  нуқталарда кесиб ўтса, у ҳолда бу нуқталарга изотомик бўлган  $C_2, A_2, B_2$  нуқталар ҳам бир тўғри чизиқда ётади.

Исботи.  $T_{59}$  нинг шартига кўра  $C_2, A_2, B_2$  нуқталар  $C_1, A_1, B_1$  нуқталарга изотомик бўлгани учун ва кесмаларнинг йўналишини эътиборга олсак, у ҳолда  $AC_1 = -BC_2$ ;  $BA_1 = -CA_2$ ;  $CB_1 = -AB_2$ ,  $C_1B = -C_2A$ ;  $A_1C = -A_2B$ ;  $B_1A = -B_2C$  бўлади.

Энди топилган натижаларни эътиборга олиб,  $T_{43}$  ( $T_M$ ) ни қўлласак, у ҳолда

$$\frac{AC_1 \cdot BA_1 \cdot CB_1}{C_1B \cdot A_1C \cdot B_1A} = \frac{BC_2 \cdot CA_2 \cdot AB_2}{C_2A \cdot A_2B \cdot B_2C} = -1$$

эканидан  $C_2$ ,  $A_2$ ,  $B_2$  нуқталарнинг бир тўғри чизиқда ётиши келиб чиқади. Шу билан  $T_{59}$  исбот қилинди.

Қуйидаги масалаларни ечинг.

1. Учбурчак  $ABC$  да  $A_1B_1C_1$  унинг ортомарказ учбурчаги бўлса, у ҳолда

$$p_n = \frac{h_a h_b h_c}{2S}$$

бўлишини исботланг.

2. Учбурчак  $ABC$  нинг бурчаклари ва унга ташқи чизилган айлана радиуси  $R$  берилган. Ортомарказ учбурчакнинг периметри  $P_n = 2R \sin A \sin B \sin C$  бўлишини исботланг.

3. Агар учбурчак  $ABC$  нинг учларидан чиққан тўғри чизиқлар бир нуқтада кесишса, у ҳолда уларга изогонал тўғри чизиқлар ҳам бир нуқтада кесишади.

4. Учбурчак  $ABC$  нинг учларидан чиқувчи чевианлар бир нуқтада кесишса, у ҳолда уларга изотомик тўғри чизиқлар ҳам бир нуқтада кесишади.

5. Агар учбурчак  $ABC$  нинг томонларида  $A_1$  ва  $A_2$ ,  $B_1$  ва  $B_2$ ,  $C_1$  ва  $C_2$  изотомик нуқталар олинган бўлса, у ҳолда  $A_1B_1C_1$  ва  $A_2B_2C_2$  учбурчаклар тенгдош эканини исботланг.

6. Учбурчак  $ABC$  нинг изогоналларида ётувчи нуқталарнинг ён томонларидаги проекцияси бир айланада ётишини исботланг.

7. Учбурчак  $ABC$  нинг учидан ортомарказгача ва ундан томонгача бўлган кесмаларнинг кўпайтмаси  $AH \cdot HA_1 = BH \cdot HB_1 = CH \cdot HC_1 = k$  ўзгармас миқдордир.

8. Учбурчак  $ABC$  да унинг икки томонининг квадратларининг айирмаси уларни учинчи томондаги проекцияларининг квадратларининг айирмасига тенглигини исботланг.

9. Агар учбурчак  $ABC$  да  $m_a$  нинг узунлиги  $b$  ва  $c$  томонларга ўрта пропорционал бўлса, у ҳолда уларнинг айирмасидан тузилган квадратнинг диагонали учбурчакнинг учинчи томонига тенглигини исботланг.

10. Учбурчак медианалари квадратлари йиғиндисининг унинг томонлари квадратларининг йиғиндисига нисбати билан шу учбурчак юзининг ортомарказ учбурчак юзига нисбати орасидаги фарқни ҳисобланг.

## 2- §. Учбурчакнинг симедианаси

20- таъриф. Учбурчак  $ABC$  да исталган бурчакнинг медианасига изогонал бўлган тўғри чизиқ шу бурчакнинг *симедианаси* дейилади.

Бу келтирилган df 20 дан кўриниб турибдики, учбурчакнинг ихтиёрий бурчагидан чиқувчи биссектрисасига нисбатан шу бурчакдан чиқувчи медианага симметрик бўлган тўғри чизиқ симедиана бўлиши келиб чиқади. Агар қаралаётган учбурчагимиз тенг томонли бўлса, у ҳолда унинг медианаси, баландлиги, биссектрисаси, симедианаси устма-уст тушиши табиийдир. Маълумки, учбурчак устида қараладиган тушунчалар сони ўрта мактаб геометрия курсида бўлганлиги ва бу геометрик масалаларни ечишда муҳим аҳамиятга эга эканлиги ҳақида аниқ фикрга келиш мумкин.

**60- теорема.** Учбурчак  $ABC$  нинг исталган бурчагининг симедианаси шу бурчак қаршисидagi томонни қолган икки томон узунликлари квадратларининг нисбати каби бўлакларга бўлади.

Исботи. Учбурчак  $ABC$  нинг  $A$  бурчак медианаси  $\angle AA_1$  бўлиб, df 20 га кўра  $AT$  симедиана бўлгани учун  $\angle BAT = \angle A_1AC$  эканлигини қайд (82- расм) қилиш мумкин.

$T_{58}$  га асосан:

$$\frac{S_{BAT}}{S_{A_1AC}} = \frac{BT}{A_1C} = \frac{AB \cdot AT}{AA_1 \cdot AC} \quad (1)$$

Худди шунга ўхшаш:

$$\frac{S_{TAC}}{S_{BAA_1}} = \frac{TC}{BA_1} = \frac{AT \cdot AC}{AB \cdot AA_1} \quad (2)$$

Ҳосил қилинган (1) ва (2) тенгликларни ҳадлаб бўлсак, у ҳолда

$$\frac{BT}{A_1C} \cdot \frac{BA_1}{TC} = \frac{AB \cdot AT}{AA_1 \cdot AC} \cdot \frac{AA_1 \cdot AB}{AT \cdot AC} = \frac{AB^2}{AC^2} \quad (3)$$

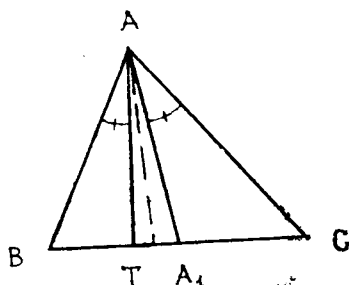
ҳосил бўлади. Бу ерда  $BA_1 = A_1C$  эканидан

$$\frac{BT}{TC} = \frac{AB^2}{AC^2} = \frac{c^2}{b^2}$$

ёки

$$\frac{BT}{CT} = \frac{BT}{TC} = \frac{c^2}{b^2}$$

ҳосил бўлади. Шу билан теорема исбот қилинди.



82- расм.

**61- теорема.** Учбурчак  $ABC$  нинг ихтиёрый бурчагидан чиқувчи медиананинг шу бурчак симедианасига нисбати шу бурчакка ёпишган томонлар узунликлари кўпайтмасининг икки баробарини улар квадратлари йиғиндисига нисбати кабидир.

Исботи.  $T_{61}$  нинг шартига кўра учбурчак  $ABC$  да  $AA_1$  — медиана,  $AT$  — симедиана (82- расм) бўлганлиги ҳам-

да  $T_{60}$  га асосан  $BT : TC = c^2 : b^2$  эканини эътиборга олсак, у ҳолда

$$\frac{AT}{AA_1} = \frac{BT \cdot AC}{CA_1 \cdot AB}$$

экани маълум.

$$\frac{BT}{TC} = \frac{c^2}{b^2}; \quad \frac{BC}{BT} = \frac{b^2 + c^2}{c^2}$$

ни ёза оламиз, бундан

$$BT = \frac{ac^2}{b^2 + c^2}$$

бўлиб,

$$CA_1 = \frac{a}{2}, \quad AB = c; \quad AC = b$$

эканлигидан

$$\frac{AT}{AA_1} = \frac{BT \cdot AC}{CA_1 \cdot AB} = \frac{2 ac^2 b}{(b^2 + c^2) ac} = \frac{2 bc}{b^2 + c^2}$$

эканлиги келиб чиқади.

Демак,

$$\frac{AT}{AA_1} = \frac{2 bc}{b^2 + c^2}$$

бўлар экан.

**1- масала.** Учбурчак  $ABC$  да  $4m_a^2 = 2b^2 + 2c^2 - a^2$  бўлса, у ҳолда  $AT$  симедианани ҳисобланг.

Ёчиш. Маълумки,  $T_{61}$  га асосан

$$AT : AA_1 = \frac{2bc}{b^2 + c^2}$$

эқани ҳамда

$$AA_1 = m_a = \frac{1}{2} \sqrt{2b^2 + 2c^2 - a^2}$$

эқани маълум.

Бу маълумотларни

$$AT = AA_1 \cdot \frac{2bc}{b^2 + c^2}$$

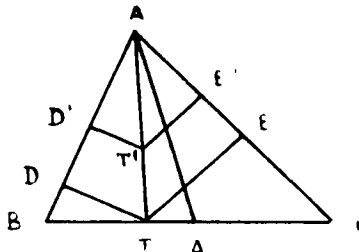
га қўйсак,

$$AT = \frac{bc}{b^2 + c^2} \sqrt{2(b^2 + c^2) - a^2}$$

эқани келиб чиқади.

**62-теорема.** Учбурчак  $ABC$  да симедиана шундай нуқталарнинг геометрик ўрники, у нуқталардан учбурчак томонларигача бўлган масофалар нисбати шу бурчакка ёпишган томонлар нисбати каби бўлади.

**И с б о т и.** Учбурчак  $ABC$  да  $AT$  си медиана бўлсин (83-расм), у ҳолда  $T$  нуқтадан  $AB$  ва  $AC$  томонларга мос ҳолда  $TD$  ва  $TE$  перпендикулярларни туширамиз, натижада



83-расм.

$$\frac{S_{BAT}}{S_{TAC}} = \frac{AB \cdot DT}{AC \cdot TE} \quad (1)$$

$T_{60}$  га асосан

$$\frac{S_{BAT}}{S_{TAC}} = \frac{BT}{TC} \quad (2)$$

эқанлигидан ҳамда

$$\frac{BT}{TC} = \frac{AB^2}{AC^2} \quad (3)$$

дан бевосита

$$\frac{AB}{AC} \cdot \frac{DT}{TE} = \frac{AB^2}{AC^2} \quad (4) \Rightarrow \frac{DT}{TE} = \frac{AB}{AC} \quad (5)$$

бўлиб,  $AT$  симедиана (5) шартни бажарувчи нуқталарнинг

геометрик ўрни экани келиб чиқади. Шу билан  $T_{62}$  исбот қилинди.

**63-теорема.** Учбурчак  $ABC$  нинг симедианалари бир нуқтада кесишади.

Исботи. Учбурчак  $ABC$  нинг  $A$  бурчагидан чиққан симедиана  $s_a$ ,  $B$  бурчагидан чиққани  $s_b$  ва  $C$  дан чиққани  $s_c$  бўлсин.  $s_a$  ва  $s_b$  лар  $L$  нуқтада кесишсин дейлик ва бу нуқтадан учбурчак томонларигача бўлган масофани мос ҳолда  $y_a, y_b, y_c$  деб белгилайлик, у ҳолда  $T_{62}$  га асосан

$$\frac{y_a}{y_c} = \frac{a}{c}, \quad (1)$$

$$\frac{y_b}{y_c} = \frac{b}{c} \quad (2)$$

лардан  $s_a$  ва  $s_b$  ларни  $L$  нуқтада кесишиши келиб чиқади. Энди  $s_c$  нинг ҳам  $L$  нуқтадан ўтишини кўрсатамиз, бунинг учун (1) ва (2) муносабатларни ҳадлаб бўлсак, у ҳолда

$$\frac{y_b}{y_a} = \frac{b}{a}$$

нисбат келиб чиқади, бундан  $s_c$  нинг ҳам  $L$  дан ўтиши келиб чиқади. Шу билан  $T_{63}$  исбот қилинди.

Учбурчак симедианаларининг кесишиш  $L$  нуқтаси **Лемуан нуқтаси** дейилади.

**2-масала.** Учбурчакдаги Лемуан нуқтасидан унинг томонларигача бўлган масофалар узунликлари топилсин.

Ечиш. Маълумки,  $T_{61}, T_{62}, T_{63}$  ларга асосан

$$\frac{y_a}{a} = \frac{y_b}{b} = \frac{y_c}{c} = \frac{ay_a}{a^2} = \frac{by_b}{b^2} = \frac{cy_c}{c^2}$$

эканидан бевосита

$$\frac{ay_a + by_b + cy_c}{a^2 + b^2 + c^2} = \frac{ay_a}{a^2} = \frac{y_a}{a}$$

бўлиб,

$$ay_a + by_b + cy_c = 2S_{ABC} \text{ га}$$

асосан

$$y_a = \frac{2aS}{a^2 + b^2 + c^2} = \frac{a^2 h_a}{a^2 + b^2 + c^2}$$



эканини ҳосил қиламиз. Худди шунга ўхшаш

$$y_b = \frac{b^2 h_b}{a^2 + b^2 + c^2};$$

$$y_c = \frac{c^2 h_c}{a^2 + b^2 + c^2}$$

ларни ёза оламиз.

Қуйидаги масалаларни ечинг:

1. Чеби теоремасидан фойдаланиб, симедианалар бир нуқтада кесишишини исботланг.

2. Стюарт теоремасидан фойдаланиб, симедиана узунлигини ҳисобланг.

3. Агар учбурчак  $ABC$  га ташқи чизилган айлананинг  $A$  нуқтасига ўтказилган уринма унинг  $BC$  томонининг давоми билан  $D$  нуқтада кесишса, у ҳолда  $CD:BD = b^2:c^2$  эканини исботланг. Бунда  $AD$  учбурчак  $ABC$  нинг ташқи симедианаси дейилади.

4. Агар 3- масаладаги шарт бажарилса, у ҳолда

$$AD = \frac{abc}{b^2 - c^2}$$

бўлишини исботланг.

5. Агар учбурчак симедианалари  $L$  нуқтада кесишса, у ҳолда

$$a^2 \cdot AL + b^2 \cdot BL + c^2 \cdot CL = \frac{a^2 b^2 c^2}{a^2 + b^2 + c^2}$$

бўлишини исботланг.

6. Агар  $m_a, m_b, m_c$  учбурчакнинг медианалари бўлса ва  $L$  Лемуан нуқтаси бўлса, у ҳолда  $(a \cdot AL):(b \cdot BL):(c \cdot CL) = m_a:m_b:m_c$  бўлишини исботланг.

7. Тўғри бурчакли учбурчакнинг тўғри бурчагидан туширилган баландликнинг ўртаси Лемуан нуқтаси бўлишини кўрсатинг.

8. Агар учбурчак  $ABC$  да  $y_a, y_b, y_c$  лар Лемуан нуқтасидан учбурчакнинг мос ҳолда  $a, b, c$  томонларигача бўлган масофалар бўлса, у ҳолда  $y_a h_a = y_b h_b = y_c h_c$  бўлишини исботланг.

### 3-§. Учбурчакнинг элементларини ҳисоблашда тригонометриянинг татбиқи

Учбурчаклар устида айрим ўлчаш, исботлаш, ҳисоблашларни олиб боришда бевосита тригонометрик функциялар ва уларнинг учбурчак элементлари билан боғланишлари ҳақидаги маълумотларни келтиришга ёки излаб топишга аҳамият берилади. Шу боис аввал маълумотларни эслаб кўрайлик:

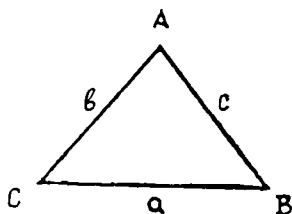
#### 1. Синуслар теоремаси;

$$\begin{cases} \frac{a}{\sin A} = \frac{b}{\sin B} = \frac{c}{\sin C}, \\ A + B + C = \pi. \end{cases} \quad \text{I}$$

#### 2. 64- проекция теоремаси. Ҳар қандай учбурчакда

$$\begin{cases} a = b \cos C + c \cos B, \\ b = c \cos A + a \cos C, \\ c = a \cos B + b \cos A, \\ A + B + C = \pi \end{cases} \quad \text{II}$$

муносабатлар бирлашмаси ўринлидир.



84- расм.

Исботи. Ҳақиқатан ҳам учбурчак  $ABC$  да  $CAB$  синиқ чизиқнинг  $CB$  томонидаги проекциясини (84-расм) қуйидагича  $\text{пр } CAB = \text{пр } CA + \text{пр } AB = b \cos C + c \cos B = a$  аниқлаш мумкин. Шу жараёни ҳар бир-томон учун қўлласак, у ҳолда талаб қилинган натижа ҳосил қилинади.

#### 3. Косинуслар теоремаси;

$$\begin{cases} a^2 = b^2 + c^2 - 2bc \cos A, \\ b^2 = a^2 + c^2 - 2ac \cos B, \\ c^2 = a^2 + b^2 - 2ab \cos C, \\ A + B + C = \pi. \end{cases} \quad \text{III}$$

4. Учбурчак  $ABC$  да  $A + B + C = \pi$  бўлганлиги сабабли  $A = \pi - (B + C)$  ёки  $A + B = \pi - C$  шартларидан, ёки  $\frac{A+B+C}{2} = \frac{\pi}{2}$  дан  $\frac{A+B}{2} = \frac{\pi}{2} - \frac{C}{2}$  алмаштиришларни қўллаб, бевосита

$$\sin A = \sin [\pi - (B + C)] = \sin (B + C);$$

$$\cos A = -\cos (B + C); \quad \text{tg } A = -\text{tg } (B + C)$$

ларни ҳосил қилиш билан бирга  $\sin \frac{A}{2} = \cos \frac{B+C}{2}$ ;  $\cos \frac{A}{2} = \sin \frac{B+C}{2}$ ;  $\operatorname{tg} \frac{A}{2} = \operatorname{ctg} \frac{B+C}{2}$  ларни ҳосил қилиш имкониятига ҳам эгамиз.

5. Агар  $\angle A = \alpha$ ;  $\angle B = \beta$ ;  $\angle C = \gamma$  десак ва синуслар теоремасини учбурчакка ташқи чизилган айлана радиуси орқали боғласак, у ҳолда  $a = 2R \sin \alpha$ ;  $b = 2R \sin \beta$ ;  $c = 2R \sin \gamma$  эканидан  $p = \frac{a+b+c}{2} = R(\sin \alpha + \sin \beta + \sin \gamma)$  бўлиб, бундан бевосита  $\sin \alpha + \sin \beta + \sin \gamma = \frac{p}{R}$  экани ёки  $\sin \alpha \sin \beta \sin \gamma = \frac{pr}{2R^2}$ ,  $\sin \alpha \sin \beta + \sin \beta \sin \gamma + \sin \alpha \sin \gamma = \frac{1}{4R^2}(p^2 + r^2 + 4Rr)$  эканини оламиз.

6. Агар  $a = 2R \sin \alpha$  ва  $p - a = r \operatorname{ctg} \frac{\alpha}{2}$  ларни ҳадма-ҳад қўшиб ҳамда  $\sin \alpha$ ,  $\operatorname{ctg} \frac{\alpha}{2}$  ларни  $\cos \alpha$  орқали ифо-

далаб,  $2R\sqrt{(1 - \cos \alpha)(1 + \cos \alpha)} + r\sqrt{(1 + \cos \alpha)(1 - \cos \alpha)} = p$  нинг ихкала томонини квадратга ошириб ва ихчамлаб, [5]

$$4R^2 \cos^3 \alpha - 4R(R+r) \cos^2 \alpha + (p^2 + r^2 - 4R^2) \cos \alpha + (2R+r)^2 - p^2 = 0$$

тенгликка эга бўламиз. Сўнгра бу тенгликни умумийлаштириб,

$$4R^2 x^3 - 4R(R+r)x^2 + (p^2 + r^2 - 4R^2)x + (2R+r)^2 - p^2 = 0 \quad [5]$$

кўринишга келтирамиз. Бу тенгламанинг илдизларини мос ҳолда  $\cos \alpha$ ,  $\cos \beta$ ,  $\cos \gamma$  десак, у ҳолда

$$\cos \alpha + \cos \beta + \cos \gamma = \frac{R+r}{R}$$

ҳамда

$$\cos \alpha \cos \beta + \cos \alpha \cos \gamma + \cos \beta \cos \gamma = \frac{p^2 + r^2 - 4R^2}{4R^2},$$

$$\cos \alpha \cos \beta \cos \gamma = \frac{1}{4R^2}(p^2 - (2R+r)^2)$$

ларни ҳосил қиламиз.

**1-мисол.** Агар  $A + B + C = \pi$  бўлса,  $\sin A + \sin B + \sin C = 4 \sin \frac{A+B}{2} \sin \frac{A+C}{2} \sin \frac{B+C}{2}$  бўлишини исботланг.

$$\begin{aligned} \text{Исботи. } \sin A + \sin B + \sin C &= \sin A + \sin B + \sin(A + B) \\ &= 2 \sin \frac{A+B}{2} \cos \frac{A-B}{2} + 2 \sin \frac{A+B}{2} \cos \frac{A+B}{2} = \\ &= 2 \sin \frac{A+B}{2} \left( \cos \frac{A-B}{2} + \cos \frac{A+B}{2} \right) = \\ &= 4 \sin \frac{A+B}{2} \sin \frac{A+C}{2} \sin \frac{B+C}{2}. \end{aligned}$$

**2-мисол.** Агар  $A + B + C = \pi$  бўлса, у ҳолда

$$\operatorname{tg} \frac{A}{2} \operatorname{tg} \frac{B}{2} + \operatorname{tg} \frac{A}{2} \operatorname{tg} \frac{C}{2} + \operatorname{tg} \frac{B}{2} \operatorname{tg} \frac{C}{2} = 1$$

бўлишини исботланг.

Исботи. Шарhta кўра  $A + B + C = \pi$ ;  $\frac{A}{2} + \frac{B}{2} + \frac{C}{2} = \frac{\pi}{2}$  эканидан

$$\begin{aligned} \cos \left( \frac{A}{2} + \frac{B}{2} + \frac{C}{2} \right) &= \cos \frac{A}{2} \cos \frac{B}{2} \cos \frac{C}{2} \left( 1 - \right. \\ &\left. - \operatorname{tg} \frac{A}{2} \operatorname{tg} \frac{B}{2} - \operatorname{tg} \frac{A}{2} \operatorname{tg} \frac{C}{2} - \operatorname{tg} \frac{B}{2} \operatorname{tg} \frac{C}{2} \right) = 0 \end{aligned}$$

бўлади. Бундан  $\operatorname{tg} \frac{A}{2} \operatorname{tg} \frac{B}{2} + \operatorname{tg} \frac{A}{2} \operatorname{tg} \frac{C}{2} + \operatorname{tg} \frac{B}{2} \operatorname{tg} \frac{C}{2} = 1$

экаи келиб чиқади.

Юқорида келтирилган маълумотларга ҳамда  $\alpha + \beta + \gamma = \pi$  эканидан фойдаланиб, қуйидагиларни исботланг:

1. Ўтмас бурчакли учбурчак учун:

$\operatorname{tg} \alpha + \operatorname{tg} \beta + \operatorname{tg} \gamma = \operatorname{tg} \alpha \operatorname{tg} \beta \operatorname{tg} \gamma$  бўлишини исботланг.

$$2. \cos \alpha + \cos \beta + \cos \gamma = 1 + 4 \sin \frac{\alpha}{2} \sin \frac{\beta}{2} \sin \frac{\gamma}{2}.$$

$$3. \sin 2\alpha + \sin 2\beta + \sin 2\gamma = 4 \sin \alpha \sin \beta \sin \gamma.$$

$$4. \sin^2 \alpha + \sin^2 \beta + \sin^2 \gamma = 2(1 + \cos \alpha \cos \beta \cos \gamma).$$

$$5. \sin^2 \alpha + \sin^2 \beta + \sin^2 \gamma = \frac{1}{4R^2} (p^2 - r^2 - 4Rr).$$

$$6. \sin^3 \alpha + \sin^3 \beta + \sin^3 \gamma = \frac{1}{4R^3} (p^3 - 3r^2 - 6Rr).$$

$$7. \frac{1}{\sin \alpha} + \frac{1}{\sin \beta} + \frac{1}{\sin \gamma} = \frac{p^2 + r^2 + 4Rr}{2pr}.$$

$$8. \frac{\sin \alpha + \sin \beta}{\sin \gamma} + \frac{\sin \beta + \sin \gamma}{\sin \alpha} + \frac{\sin \alpha + \sin \gamma}{\sin \beta} = \\ = \frac{p^2 + r^2 - 2Rr}{2Rr}.$$

$$9. \cos^2 \alpha + \cos^2 \beta + \cos^2 \gamma = \frac{1}{2R^2} (2Rr + 6R^2 + r^2 - p^2).$$

$$10. \cos^3 \alpha + \cos^3 \beta + \cos^3 \gamma = \frac{1}{4R^3} [(2R+r)^3 - 3p^2r] - 1.$$

$$11. \frac{1}{\cos \alpha} + \frac{1}{\cos \beta} + \frac{1}{\cos \gamma} = \frac{p^2 + r^2 - 4R^2}{p^2 - (2R+r)^2}.$$

$$12. \frac{\cos \alpha + \cos \beta}{\cos \gamma} + \frac{\cos \beta + \cos \gamma}{\cos \alpha} + \frac{\cos \alpha + \cos \gamma}{\cos \beta} = \\ = \frac{(R+r)(p^2 + r^2 - 4R^2)}{R[p^2 - (2R+r)^2]} - 3.$$

$$13. \frac{\sin \alpha + \sin \beta}{\cos \alpha + \cos \beta} \cdot \frac{\sin \beta + \sin \gamma}{\cos \beta + \cos \gamma} \cdot \frac{\sin \alpha + \sin \gamma}{\cos \alpha + \cos \gamma} = \frac{p}{r}.$$

$$14. \operatorname{tg} \alpha + \operatorname{tg} \beta + \operatorname{tg} \gamma = \frac{2pr}{p^2 - (2R+r)^2}.$$

$$15. \operatorname{tg} \alpha \operatorname{tg} \beta + \operatorname{tg} \alpha \operatorname{tg} \gamma + \operatorname{tg} \beta \operatorname{tg} \gamma = \frac{p^2 - r^2 - 4Rr}{p^2 - (2R+r)^2}.$$

$$16. \frac{1}{\operatorname{tg} \alpha} + \frac{1}{\operatorname{tg} \beta} + \frac{1}{\operatorname{tg} \gamma} = \frac{p^2 - r^2 - 4Rr}{4pr}.$$

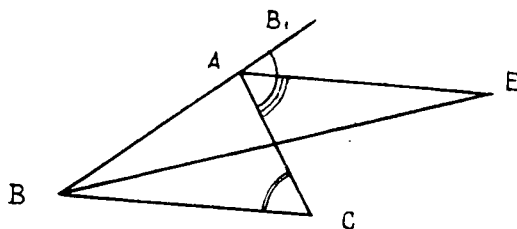
$$17. \operatorname{ctg} \alpha + \operatorname{ctg} \beta + \operatorname{ctg} \gamma = S \left( \frac{1}{h_a^2} + \frac{1}{h_b^2} + \frac{1}{h_c^2} \right).$$

$$18. \operatorname{ctg}^2 \alpha + \operatorname{ctg}^2 \beta + \operatorname{ctg}^2 \gamma = \frac{1}{4S^2} (p^2 - r^2 - 4Rr)^2 - 2.$$

#### 4-§. Учбурчакда тенгсизлик

Учбурчакнинг томони, бурчаги, ички ва ташқи чизилган айлана радиуси ва бошқа элементларига кўра тенглик тушунчаси қатори тенгсизлик тушунчаси ҳам муҳим бўлиб, бу тушунча учбурчакнинг бирор қонунияти мазмунини очиб беради.

**65-теорема.** Учбурчак  $ABC$  нинг ихтиёрый ташқи

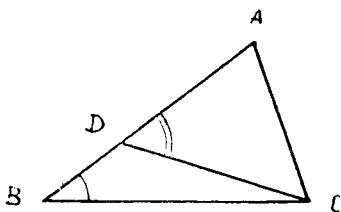


85- расм.

*бурчаги ўзига қўшни бўлмаган ички бурчакларининг ҳар биридан каттадир.*

Исботи. Учбурчак  $ABC$  нинг  $BD$  медианасини (85-расм) ўтказиб, уни шунча узунликка давом эттирамиз ва  $E$  нуқтани  $A$  нуқта билан туташтирсак, у ҳолда  $DAE$  ва  $DBC$  учбурчаклар ҳосил бўлиб, унда  $\angle DAE = \angle BCD$  ва  $E$  нуқта  $\angle CAB_1$  ни ичида ётганлиги учун  $\angle BCD < \angle CAB_1$  бўлади.  $\angle CAB_1 = \angle B + \angle C$  эканидан  $\angle CAB_1 > \angle B$  экани келиб чиқади. Шу билан теорема исбот қилинди.

**66-теорема.** *Учбурчак  $ABC$  да катта томон қаршисида катта бурчак ётади ва аксинча.*



86- расм.

Исботи. Учбурчак  $ABC$  да (86-расм)  $AB > AC$  бўлса,  $\angle C > \angle B$  эканини кўрсатамиз. Бунинг учун  $AB$  томонидан  $AC = AD$  кесмани ажратамиз ва уни  $C$  уч билан туташтирамиз.  $DC$  кесма  $C$  бурчакнинг ички қисмига жойлашгани учун  $ACD$  бурчак  $C$  бурчакдан кичик бўлганлигини ёки  $\triangle ADC$  да  $AD = AC$  бўлганлигидан  $\angle ACD =$

$= \angle ADC$  бўлади.  $T_{65}$  га асосан  $\angle ADC > \angle B$  бўлиб, бундан  $\angle C > \angle B$  экани келиб чиқади. Шу билан  $T_{66}$  исбот бўлди.

**67-теорема.** *Учбурчак  $ABC$  нинг исталган томони қолган икки томон йиғиндисидан кичик бўлади.*

Исботи. Учбурчак  $ABC$  да (87-расм)  $BA$  нинг давомига  $AC = AD$  ни қўямиз, натижада  $D$  бурчаги  $ACD$  бурчакка тенг бўлади, бундан  $\angle BCD > \angle D$  ва  $\angle BCD > \angle BAC$  экани келиб чиқади. Демак,  $T_{66}$  га асосан  $AD >$

$> BC$  бўлиб, бундан  $BA + AC > BC$  экани келиб чиқади. Шу билан  $T_{67}$  исбот қилинди.

31-*натижа*. Ихтиёрий учбурчакнинг исталган икки томони узунликларининг айирмаси учинчи томон узунлигидан кичик бўлади.

32-*натижа*. Учта нуқта  $A, B, C$  лар қандай бўлмасин текисликда  $BC - AC \leq \leq AB \leq BC + CA$  бўлиб, тенглик бу нуқталар бир тўғри чизиқда ётганда ўринли бўлади.

1-*масала*. Агар  $a, b, c$  — учбурчакнинг томонлари,  $p = a + b + c$  бўлса, у ҳолда  $\frac{1}{a} + \frac{1}{b} + \frac{1}{c} \geq \frac{9}{p}$  бўлишини исботланг.

Исботи. Шартга кўра  $a, b, c$  — учбурчакнинг томонлари,  $p = a + b + c$  эканлигидан  $(ab + ac + bc)(a + b + c)$  кўпайтмани қараймиз, яъни

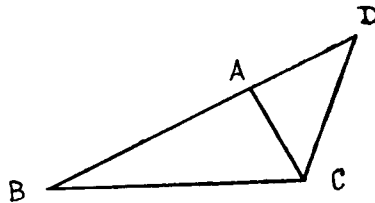
$$(ab + ac + bc)(a + b + c) = a^2b + b^2a + c^2a + \\ + a^2c + b^2c + c^2b + 3abc$$

бўлиб,  $a^2b + c^2a + b^2c \geq 3\sqrt[3]{a^3b^3c^3} = 3abc$  эканидан  $b^2a + a^2c + c^2b \geq 3abc$  келиб чиқади. Демак,  $(ab + ac + bc)(a + b + c) \geq 3abc + 3abc + 3abc$ , бундан  $\left(\frac{1}{a} + \frac{1}{b} + \frac{1}{c}\right)(a + b + c) \geq 9 \Rightarrow \frac{1}{a} + \frac{1}{b} + \frac{1}{c} \geq \frac{9}{p}$  бўлади. Шу билан исбот қилинди.

2-*масала*. Ҳар қандай учбурчакда  $p^2 \geq 12\sqrt{3}S$  эканини исботланг.

Исботи. Шартга кўра  $p = a + b + c$  дан  $\frac{p}{2} + \frac{a+b+c}{2}$  бўлиб,

$$27S^2 = 27 \frac{p}{2} \left(\frac{p}{2} - a\right) \left(\frac{p}{2} - b\right) \left(\frac{p}{2} - c\right) \leq \\ \leq 27 \frac{p}{2} \left(\frac{\frac{p}{2} - a + \frac{p}{2} - b + \frac{p}{2} - c}{3}\right)^3 =$$



87- расм.

$$= 27 \frac{p}{2} \left( \frac{\frac{3p}{2} - p}{3} \right)^3 = \frac{p^4}{16}$$

бўлади, бундан  $p^4 \geq 16 \cdot 27 S^2$  ёки  $p^2 \geq 12\sqrt{3} S$  бўлади. Шу билан исбот қилинди.

**3-масала.** Учбурчак  $ABC$  нинг бурчаклари  $\alpha$ ,  $\beta$ ,  $\gamma$  бўлса, у ҳолда  $\sin \frac{\alpha}{2} \sin \frac{\beta}{2} \sin \frac{\gamma}{2} \leq \frac{1}{8}$  эканини исботланг.

$$\text{Исботи. } t = \sin \frac{\alpha}{2} \sin \frac{\beta}{2} \sin \frac{\gamma}{2} = \frac{1}{2} \left( \cos \frac{\alpha - \beta}{2} - \cos \frac{\alpha + \beta}{2} \right) \sin \frac{\gamma}{2} = \frac{1}{2} \left( \cos \frac{\alpha - \beta}{2} - \sin \frac{\gamma}{2} \right) \sin \frac{\gamma}{2}$$

бўлади. Агар  $x = \sin \frac{\gamma}{2}$  десак,  $v$  ҳолда  $x^2 - x \cos \frac{\alpha - \beta}{2} + 2t = 0$  тенглама ҳосил бўлади.

$$D = \cos^2 \frac{\alpha - \beta}{2} - 8t \geq 0 \Leftrightarrow t \leq \frac{1}{8} \cos^2 \frac{\alpha - \beta}{2} \leq \frac{1}{8} \Rightarrow t \leq \frac{1}{8}.$$

Шу билан масала исбот бўлди.

**4-масала.** Учбурчак  $ABC$  нинг бурчаклари мос ҳолда  $\alpha$ ,  $\beta$ ,  $\gamma$  бўлса,  $\operatorname{tg}^2 \frac{\alpha}{2} + \operatorname{tg}^2 \frac{\beta}{2} + \operatorname{tg}^2 \frac{\gamma}{2} \geq 1$  бўлишини исботланг.

Исботи.  $1 = \operatorname{tg} \frac{\alpha}{2} \operatorname{tg} \frac{\beta}{2} + \operatorname{tg} \frac{\alpha}{2} \operatorname{tg} \frac{\gamma}{2} + \operatorname{tg} \frac{\beta}{2} \operatorname{tg} \frac{\gamma}{2}$  экани ва бунга Буняковский тенгсизлигини татбиқ этсак, у ҳолда

$$\begin{aligned} 1 &= \operatorname{tg} \frac{\alpha}{2} \operatorname{tg} \frac{\beta}{2} + \operatorname{tg} \frac{\alpha}{2} \operatorname{tg} \frac{\gamma}{2} + \operatorname{tg} \frac{\beta}{2} \operatorname{tg} \frac{\gamma}{2} \leq \\ &\leq \sqrt{\operatorname{tg}^2 \frac{\alpha}{2} + \operatorname{tg}^2 \frac{\beta}{2} + \operatorname{tg}^2 \frac{\gamma}{2}} \times \\ &\times \sqrt{\operatorname{tg}^2 \frac{\alpha}{2} + \operatorname{tg}^2 \frac{\beta}{2} + \operatorname{tg}^2 \frac{\gamma}{2}} = \\ &= \operatorname{tg}^2 \frac{\alpha}{2} + \operatorname{tg}^2 \frac{\beta}{2} + \operatorname{tg}^2 \frac{\gamma}{2} \end{aligned}$$

ҳосил бўлади. Демак,  $\operatorname{tg}^2 \frac{\alpha}{2} + \operatorname{tg}^2 \frac{\beta}{2} + \operatorname{tg}^2 \frac{\gamma}{2} \geq 1$  бўлар экан.



5-масала. Учбурчак  $ABC$  ўткир бурчакли бўлганда  $p > 2R + r$  бўлишини, тўғри бурчакли бўлганда  $p = 2R + r$  бўлишини ва ўтмас бурчакли бўлганда  $p < 2R + r$  бўлишини исботланг  $(p = \frac{a+b+c}{2})$ .

Исботи. Олдинги параграфда  $p^2 - (2R + r)^2 = 4R^2 \cos \alpha \cos \beta \cos \gamma$  муносабатини ҳосил қилган эдик. Демак,  $\alpha, \beta, \gamma$  лар ўткир бурчак бўлганда  $0 < \alpha < \frac{\pi}{2}; 0 < \beta < \frac{\pi}{2};$

$0 < \gamma < \frac{\pi}{2}$  бўлгани учун уларнинг косинуслари мусбат. Демак,

$$p^2 - (2k + r)^2 > 0 \Rightarrow p^2 > (2R + r)^2 \Rightarrow p > 2R + r$$

$$\left( p = \frac{a+b+c}{2} \right)$$

бўлиб, тўғри бурчакли учбурчакда  $\gamma = \frac{\pi}{2}$  бўлгани учун  $\cos \gamma = 0$  эканидан  $p^2 - (2R + r)^2 = 0 \Rightarrow p = 2R + r$  ҳамда  $\frac{\pi}{2} < \gamma < \pi$  эканидан  $\cos \gamma < 0$  бўлиб,  $p^2 - (2R + r)^2 < 0 \Rightarrow p < 2R + r$  экани келиб чиқади. Шу билан исбот бўлди.

Шу келтирилган масалаларга таянган ҳолда бошланғич маълумотлар сифатида қуйидаги тенгсизликларни тавсия этиш мумкин, яъни:

а) Агар  $R \geq 2r$  бўлса,  $27r^2 \leq 16Rr - 5r^2 \Rightarrow 27r \leq 16R - 5r$  ва  $4R^2 + 4Rr + 3r^2 \leq \frac{27}{4}R^2$  ёки  $3\sqrt{3}r \leq p \leq \frac{3\sqrt{3}}{2}R$

(бу ерда  $p = \frac{a+b+c}{2}$ ) бўлади. Бундан  $36r^2 \leq ab + bc + ca \leq 9R^2$  ёки  $12\sqrt{3}Rr^2 \leq abc \leq 6\sqrt{3}R^2r$  ларни келтириш мумкин.

Қуйидаги масалаларни ечинг:

1. Агар учбурчак  $ABC$  да  $a > b$  бўлса,  $a + h_a \geq b + h_b$  эканини исботланг.

2. Агар учбурчак  $ABC$  да  $p = a + b + c$  ва  $S$  учбурчак юзи бўлса, у ҳолда:

а)  $a^2 + b^2 + c^2 \geq \frac{p^2}{3};$       б)  $a^2 + b^2 + c^2 \geq 4\sqrt{3}S;$

в)  $a^3 + b^3 + c^3 \geq \frac{p^3}{9};$       г)  $a^3 + b^3 + c^3 \geq \frac{4\sqrt{3}}{3}Sp;$

д)  $a^4 + b^4 + c^4 \geq 16 S^2$  бўлишини исботланг.

3. Агар  $\alpha + \beta + \gamma = \pi$  бўлса,  $\cos \alpha + \cos \beta + \cos \gamma \leq \frac{3}{2}$  бўлишини исботланг.

4. Агар  $\alpha + \beta + \gamma = \pi$  бўлса,  $\sin \alpha + \sin \beta + \sin \gamma \leq \frac{3\sqrt{3}}{2}$  бўлади. Исботланг.

5. Агар  $\alpha + \beta + \gamma = \pi$  бўлса,  $\operatorname{tg} \frac{\alpha}{2} \operatorname{tg} \frac{\beta}{2} \operatorname{tg} \frac{\gamma}{2} \leq \frac{1}{3\sqrt{3}}$  бўлишини исботланг.

6. Агар  $\alpha + \beta + \gamma = \pi$  бўлса;

$$\sin^2 \alpha + \sin^2 \beta + \sin^2 \gamma \begin{cases} > 2, \text{ агар } 0 < \alpha, \beta, \gamma < \frac{\pi}{2}; \\ < 2, \text{ агар } 0 < \alpha, \beta < \frac{\pi}{2}; \frac{\pi}{2} < \gamma < \pi; \\ = 2, \text{ агар } \gamma = \frac{\pi}{2}, \end{cases}$$

бўлишини исботланг.

7. Учбурчак ичнда олинган ихтиёрый  $K$  нуқта учун ва

$$p = \frac{a+b+c}{2} \text{ да } KA \cos \frac{\alpha}{2} + KB \cos \frac{\beta}{2} + KC \cos \frac{\gamma}{2} \geq p$$

бўлишини исботланг (бу ерда  $\angle A = \alpha$ ;  $\angle B = \beta$ ;  $\angle C = \gamma$ ).

8. Агар  $\alpha + \beta + \gamma = \pi$  бўлса,  $\cos^2 \alpha + \cos^2 \beta + \cos^2 \gamma \geq \frac{3}{4}$  бўлишини исботланг.

9. Ўтмас бўлмаган учбурчаклар учун  $\sin \alpha + \sin \beta + \sin \gamma > \cos \alpha + \cos \beta + \cos \gamma$  бўлишини исботланг.

Учбурчак  $ABC$  да  $r$  — ички чизилган,  $R$  — ташқи чизилган,  $r_a$   $a$  томонига ташқи-ички чизилган айлана радиуси бўлса,  $p = \frac{a+b+c}{2}$  бўлганда қуйидаги муносабатларни исботланг:

$$10. \frac{\sqrt{3}}{R} \leq \frac{1}{a} + \frac{1}{b} + \frac{1}{c} \leq \frac{\sqrt{3}R}{4r^2}.$$

$$11. \frac{1}{R^2} \leq \frac{1}{ab} + \frac{1}{bc} + \frac{1}{ac} \leq \frac{1}{4r^2}.$$

$$12. 9r^2 \leq (p-a)(p-b) + (p-b)(p-c) + (p-c)(p-a) \leq \frac{9}{4} R^2.$$

13.  $\frac{2\sqrt{3}}{R} \leq \frac{1}{p-a} + \frac{1}{p-b} + \frac{1}{p-c} \leq \frac{3R}{2\sqrt{3}r^2}$ .
14.  $9r \leq h_a + h_b + h_c \leq \frac{9}{2}R$ .
15.  $27r^2 \leq h_a h_b + h_a h_c + h_b h_c \leq \frac{27}{4}R^2$ .
16.  $27r^2 \leq h_a^2 + h_b^2 + h_c^2 \leq p^2 \leq \frac{27}{4}R^2$ .
17.  $9r \leq r_a + r_b + r_c \leq \frac{9}{2}R$ .
18.  $\frac{r_a+r_b}{r_c} + \frac{r_b+r_c}{r_a} + \frac{r_a+r_c}{r_b} \geq 6$ .
19.  $\sin \alpha + \sin \beta + \sin \gamma \geq 3\sqrt{3} \frac{r}{R}$ .
20.  $6 \leq \frac{\sin \alpha + \sin \beta}{\sin \gamma} + \frac{\sin \alpha + \sin \gamma}{\sin \beta} + \frac{\sin \beta + \sin \gamma}{\sin \alpha} \leq \frac{3R}{r}$ .
21.  $4 \leq \frac{1}{\sin \alpha \sin \beta} + \frac{1}{\sin \beta \sin \gamma} + \frac{1}{\sin \alpha \sin \gamma} \leq \frac{2R}{r}$ .
22.  $\cos \alpha + \cos \beta + \cos \gamma \geq \frac{3r}{R}$ .
23.  $\frac{3}{8} \leq \cos^3 \alpha + \cos^3 \beta + \cos^3 \gamma \leq \frac{1}{4R^2} (4R^2 + 12Rr - 34r^2)$ .
24.  $\operatorname{tg} \frac{\alpha}{2} \operatorname{tg} \frac{\beta}{2} \operatorname{tg} \frac{\gamma}{2} \geq \frac{2r}{3\sqrt{3}R}$ .
25.  $2\sqrt{3} \frac{r}{R} \leq \operatorname{tg} \frac{\alpha}{2} + \operatorname{tg} \frac{\beta}{2} + \operatorname{tg} \frac{\gamma}{2} \leq \frac{\sqrt{3}R}{2r}$ .
26.  $\frac{4r^2}{R^2} \leq (\cos \alpha + \cos \beta) (\cos \beta + \cos \gamma) (\cos \alpha + \cos \gamma) \leq 1$ .
27.  $\frac{8}{3\sqrt{3}} \leq (\operatorname{ctg} \alpha + \operatorname{ctg} \beta) (\operatorname{ctg} \beta + \operatorname{ctg} \gamma) (\operatorname{ctg} \alpha + \operatorname{ctg} \gamma) \leq \frac{2R^2}{3\sqrt{3}r^2}$ .
28.  $\sin \alpha \sin \beta \sin \gamma \geq \frac{3\sqrt{3}r^2}{2R^2}$ .

## УЧБУРЧАКЛАРГА ОИД АСОСИЙ ФОРМУЛАЛАР

Ихтиёрый учбурчак

## 1. Периметр

$$P = a + b + c;$$

$P$  — периметри;  $a, b, c$  — томонларининг узунлиги;

$$p = \frac{1}{2}(a + b + c).$$

$p$  — ярим периметр.

## 2. Ички бурчаклар йиғиндиси

$$A + B + C = 180^\circ,$$

$A, B, C$ , — бурчак катталиклари.

## 3. Косинуслар теоремаси

$$a^2 = b^2 + c^2 - 2bc \cos A;$$

$a, b, c$  — томонларининг узунликлари;

$$b^2 = a^2 + c^2 - 2ac \cos B;$$

$A, B, C$  — бурчак катталиклари.

$$c^2 = a^2 + b^2 - 2ab \cos C,$$

## 4. Синуслар теоремаси

$$\frac{a}{\sin A} = \frac{b}{\sin B} = \frac{c}{\sin C},$$

$a, b, c$  — томонларининг узунликлари;

$$\frac{a}{\sin A} = 2R,$$

$A, B, C$  — бурчак катталиклари;  
 $R$  — ташқи чизилган айлананинг радиуси.

5. Юз ( $S$ )

$$S = \frac{1}{2} ah_a = \frac{1}{2} bh_b = \frac{1}{2} ch_c;$$

$a, b, c$  — томонларининг узунликлари;

$$S = \frac{1}{2} ab \sin C = \frac{1}{2} bc \sin A =$$

$A, B, C$  — бурчак катталиклари;  
 $h_a, h_b, h_c$  — баландликлар;

$$= \frac{1}{2} ac \sin B;$$

$r$  — ички чизилган айлана радиуси.

$$S = pr,$$

## 6. Герон формуласи

$$S = \sqrt{p(p-a)(p-b)(p-c)},$$

$p$  — ярим периметр.

## 7. Баландликлар

$$\frac{1}{h_a} + \frac{1}{h_b} + \frac{1}{h_c} = \frac{1}{r},$$

$h_a, h_b, h_c$  — баландликлар,  
 $r$  — ички чизилган айлана радиуси.

### 8. Медиана

$$\frac{b}{c} = \frac{m_a}{n},$$

$a, b, c$  — томонларининг узунликлари;

$m_a$  —  $a$  томонга ўтказилган медиана.

### 9. Биссектрисанинг хоссалари

$$\frac{b}{c} = \frac{m}{n},$$

$b, c$  — томонларининг узунликлари;

$m, n$  —  $a$  томонга туширилган  $A$  бурчак биссектрисаси ажратган кесмаларининг узунликлари.

### 10. Ташқи чизилган айлананинг радиуси ( $R$ )

$$R = \frac{abc}{4S}; \quad R = \frac{a}{2 \sin A},$$

$a, b, c$  — томонларининг узунликлари;

$S$  — юзи;

$A$  —  $A$  бурчак катталиги.

Тўғри бурчакли учбурчак

### 11. Пифагор теоремаси

$$c^2 = b^2 + a^2,$$

$a, b$  — катетлар узунликлари;

$c$  — гипотенуза узунлиги;

### 12. Метрик муносабатлар

$$h_c^2 = a_1 b_1;$$

$h_c$  — баландлик;

$$a^2 = c \cdot a_1; \quad b^2 = c \cdot b_1,$$

$a_1, b_1$  — катетларнинг гипотенузадаги проекциялари.

### 13. Ўткир бурчаклари йиғиндиси

$$A + B = 90^\circ;$$

$A, B$  — ўткир бурчаклари.

### 14. Томонлари билан бурчаклари орасидаги боғланишлар

$$a = c \cdot \sin A;$$

$a, b$  — катетлар узунликлари;

$$a = c \cdot \cos B;$$

$c$  — гипотенуза узунлиги;

$$a = b \cdot \operatorname{tg} A,$$

$A, B$  — ўткир бурчаклар катталиклари.

### 15. Юз ( $S$ )

$$S = \frac{1}{2} ab,$$

$a, b$  — катетлар узунлиги.

### 16. Ташқи чизилган айлана радиуси ( $R$ )

$$R = \frac{c}{2},$$

$c$  — гипотенуза узунлиги.

### 17. Ички чизилган айлана радиуси ( $r$ )

$$r = \frac{a + b - c}{2},$$

$a, b$  — катетлар узунликлари;

$c$  — гипотенуза узунлиги.

Мунтазам уч бурчак

18. Периметр ( $P$ )

$$P = 3a,$$

$a$  — томонлар узунлиги

19. Бурчак катталиги

$$A = B = C = 60^\circ,$$

$A, B, C$  — бурчаклар катталиги

20. Баландлиқ ( $h$ )

$$h = \frac{a\sqrt{3}}{2},$$

$a$  — томонлар узунлиги

21. Ички чизилган айлана радиуси ( $R$ )

$$R = \frac{a\sqrt{3}}{3}, \quad R = 2r,$$

$a$  — томонлар узунлиги.

22. Ташқи чизилган айлана радиуси ( $r$ )

$$r = \frac{a\sqrt{3}}{6},$$

$a$  — томонлар узунлиги.

23. Юз ( $S$ )

$$S = \frac{a^2\sqrt{3}}{4},$$

$a$  — томонлар узунлиги.

## АДАБИЁТ

1. Д. Ефремов. Новая геометрия треугольника. Издание «Вестника опытной физики и элементарной математики», Одесса, 1903.
2. Ж. Адамар. Элементарная геометрия, ч. I. Учпедгиз. 1936.
3. Н. Ф. Четверухин. Введение в высшую геометрию. Учпедгиз. 1934.
4. С. И. Зетель. Новая геометрия треугольника. Учпедгиз. 1962.
5. В. П. Солтан, С. И. Мейдман. Тождества и неравенства в треугольнике. Кишинев, «Штинца», 1982.
6. А. Кисилев. Геометрия (планиметрия). М. 1965.
7. М. Попруженко. Сборник геометрических задач. Планиметрия. Учпедгиз. 1936.
8. Б. Делоне и О. Житомирский. Геометрия и тригонометрия, задачи с решениями. Научное книгоиздательство. 1929.
9. А. В. Погорелов. Геометрия. 7—11, «Ўқитувчи» Т., 1991.

## М У Н Д А Р И Ж А

Кириш . . . . .	3
<b>I б о б. Учбурчак ва унинг бошқа шакллар билан боғлиқлиги ҳақида содда тушунчалар</b>	
1- §. Учбурчак . . . . .	4
2- §. Учбурчакнинг ва у билан боғлиқ шаклларнинг элементлари орасидаги метрик муносабатлар . . . . .	9
3- §. Айлана ва доира . . . . .	15
4- §. Учбурчакнинг юзи. Учбурчакнинг доира билан ўзаро алоқаси . . . . .	21
<b>II б о б. Учбурчакнинг асосий нуқталари, чизиқлари ва улардан келиб чиқадиган муносабатлар</b>	
1- §. Чевианлар . . . . .	30
2- §. Учбурчакнинг недианаси . . . . .	43
<b>III б о б. Учбурчакнинг трансверсали ва учбурчакнинг муҳим нуқталари орасидаги масофа</b>	
1- §. Учбурчакнинг ва кўпбурчакнинг трансверсали . . . . .	49
2- §. Кесманинг гармоник бўлинмаси . . . . .	56
3- §. Эйлерайланиши ва учбурчакдаги муҳим нуқталар орасидаги масофа . . . . .	61
<b>IV б о б. Учбурчакка ички ва ташқи чизилган учбурчаклар. Учбурчакдаги асосий муносабатлар</b>	
1- §. Учбурчакда антипараллеллар. Ортомарказ ва тангенциал учбурчаклар. Учбурчакнинг изогонал тўғри чизиғи ва изотомик нуқтаси . . . . .	68
2- §. Учбурчакнинг симедианаси . . . . .	77
3- §. Учбурчакнинг элементларини ҳисоблашда тригонометриянинг татбиқи . . . . .	82
4- §. Учбурчакда тенгсизлик . . . . .	85
И л о в а . . . . .	92
<b>А д а б и ё т . . . . .</b>	<b>94</b>

**Тўлаганов Турғун Рихсиевич**  
**УЧБУРЧАК ГЕОМЕТРИЯСИ**

*Педагогика институтлари, билим  
юртлари, мактаб ўқитувчилари  
учун ўқув қўлланма*

Тошкент «Ўқитувчи» 1997

Таҳририят мудистри *М. Пўлатов*  
Муҳаррир *С. Бекбоева*  
Расмлар муҳаррири *М. Кудряшова*  
Техник муҳаррир *С. Турсунова*  
Мусаҳҳиҳ *З. Содиқова*

ИБ 7221

Теришга берилди 21.02.97. Босишга рухсат этилди 27.05.97. Бичими 84×108/32. Тип. қоғози. Кегли 10 шпонсиз. Литературная гарнитураси. Юқори босма усулида босилди. Шартли б. т. 5,04. Шартли кр-отт 5.25. Нашр. т. 5,00. 1000 нусхада. Буюртма №2898

«Ўқитувчи» нашриёти. Тошкент, 129. Навоий кўчаси, 30. Шартнома 09—167—96

Ўзбекистон Республикаси Давлат матбуот комитетининг Тошполиграф-комбинати. Тошкент. Навоий кўчаси, 30. 1997.